

2023-2024 ОНЫ ХИЧЭЭЛИЙН ЖИЛИЙН 3 ДУГААР АНГИЙН “АНГИ ДЭВШИХ”
НЭГДМЭЛ ШАЛГАЛТЫН ҮНЭЛГЭЭНИЙ ДААЛГАВАР

А хувилбар

3.... ангийн сурагчовогтой.....

2024.06.03.

НЭГ. УНШИХ ЧАДВАРЫН ДААЛГАВАР

Санамж 1. Эхийг анхааралтай уншиж ойлгосны дараа даалгаврыг гүйцэтгээрэй.

ХУГАЦАА 40 МИНУТ

НИЙТ 15 ОНОО

Мэргэн ухаан

Жаалхүү ээж аавынхаа өгсөн мөнгийг хугацаанаас нь өмнө зарцуулж дууссан учраас мөрөөдөл болсон бөмбөгөө авч чадсангүй.

Удахгүй зуны амралт эхлэх гэж байгаа тул хүүгийн сэтгэл зовж, ямар нэгэн байдлаар мөнгө олох арга хайж байлаа. Түүний захиалж уншдаг нэгэн сэтгүүлийн сүүлчийн улирлын дугаарт “ Ажил болгон хөлстэй “ гэснийг уншаад маш их баярлав.

Тэрээр ээж аавдаа хийж өгсөн ажлынхаа хөлсийг авах нь зүйтэй гэж бодов. Хүү хийсэн ажлынхаа жагсаалтыг шалавхан гаргаж, хөлсийг нь тооцож эхлэв. Ингээд талханд явах 200 төгрөг, хог асгах 300 төгрөг, ээжтэйгээ цуг зах явах 500 төгрөг гэх мэтээр тооцоолоход сарын хөлс нь 10 мянган төгрөг болж байв.

Мэргэн ухаан олсондоо баярласан жаал тэр жагсаалт бүхий цаасаа ээжийнхээ цүнхэнд сэмээрхэн хийв.

Өглөө нь жаалхүүг сэрэхэд хажууд нь 10 мянган төгрөг, бяцхан зурвасын хамт байж байв.

Өчигдөр бичсэн өөрийнх нь зурвас шиг мөртлөө ээжийнх нь гарын үсэгтэй тэрхүү цаасан дээр “ Амь амьдралаа зориулан чамайг төрүүлж өгсөн, хооллож бүхий л амьдралын чинь турш чамайг харж хандсаны хөлс нь зөвхөн чиний үзүүлэх хайр чинь л юм шүү. Ажлынхаа хөлсөнд олсон мөнгөө сайн зүйлд зориулаарай “ гэсэн байлаа.

1. 1 Хүү яагаад бөмбөг худалдан авч чадаагүй вэ?

- А. Дэлгүүр хаалттай байсан
- Б. Бөмбөг худалдан авах мөнгөө хаясан
- В. Мөнгөө тооцоогүй зарцуулж дуусгасан
- Г. Дэлгүүрт бөмбөг байгаагүй

1.2. Жаалхүү цаасан дээр юу бичиж , ээжийнхээ цүнхэнд хийсэн бэ?

- А. Хийсэн ажлынхаа жагсаалт , үнэлгээг бичиж
- Б. Хүү нь ээждээ хайртай гэж бичсэн
- В. Бөмбөг худалдан авахад туслаач гэж бичсэн
- Г. Надад бөмбөг авч өгөөч гэж

1. 3. Ээж аавдаа хийж өгсөн ажлын хөлсөө авах нь зөв гэж жаалхүү яагаад шийдсэн бэ?

- А. Найз нөхөд нь зөвлөсөн
- Б. Сэтгүүл дээр гарсан мэдээллийг уншаад
- В. Бусдын яриаг сонсоод
- Г. Телевизийн нэвтрүүлэг үзээд

1.4. Оноосон нэртэй хэсгийг олоорой.

- А. Болдоо хүү
- Б. Зуны амралт
- В. Ажлын хөлс
- Г. Ээжийн хүү

ХОЁР. БИЧИХ ЧАДВАРЫН ДААЛГАВАР:

2.1. Жаалхүү яагаад баярлах болсон учрыг тайлбарлан бичээрэй. /2 оноо/

2.2. “Ертөнцийн гурван цагаан” зохион бичээрэй. /Зоноо/

МАТЕМАТИК :

НЭГ. СОНГОХ ДААЛГАВАР Сонгох даалгавар бүр 1 оноотой.

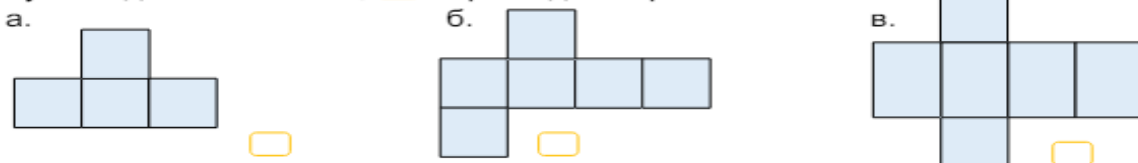
1. Долоон мянга дөрвөн зуун зургаа гэсэн тоог стандарт хэлбэрээр зөв бичсэн хариуг олоорой.

- A. 7460 Б. 7406 В. 7046 Г. 7006

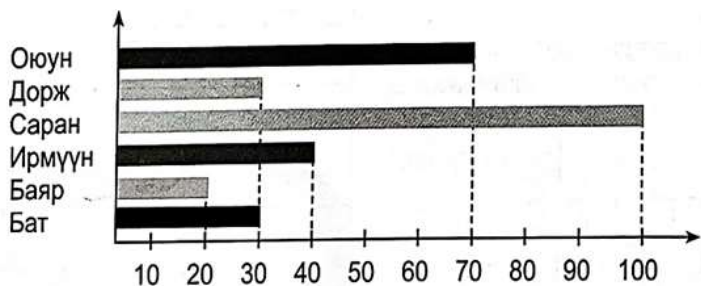
2. Ялгаврын утгыг олоорой. 7355 – 1023

- A. 6332 Б. 6432 В. 5332 Г. 5763

3. Кубийн дэлгээсийг олж, -ээр тэмдэглээрэй.



4. Диаграммыг ажиглаад асуултад хариулаарай. Ирмүүн, Оюун хоёрын зөрөө хэд вэ?




- а. 20 б. 10 в. 60 г. 30

5. Уртын хэмжээг ижил нэгжээр илэрхийлэн үйлдлийг гүйцэтгээрэй.

а. $512 \text{ см} + 1 \text{ м } 37 \text{ см} = \underline{\hspace{2cm}}$

б. Хүү өглөө 9:30 цагт босож, 30 мин дараа гэрээсээ гарав. Хүү хэдэн цагт гэрээсээ гарсан



6. Сурагчдаас сонирхдог спортыг асууж, хүснэгтэд бүртгэв. = 10

Дуртай спорт	дүрслэл	бүртгэл
Сагсан бөмбөг		
Хөл бөмбөг		
Гар бөмбөг		
Агаарын бөмбөг		

A. Нийт хэдэн сурагч асуулгад оролцсон бэ?

 Б. Ямар спортод хамгийн цөөн сурагч дуртай вэ?

 В. Хамгийн олон болон хамгийн цөөн сурагчийн зөрөөг олоорой.

2023-2024 ОНЫ ХИЧЭЭЛИЙН ЖИЛИЙН 3 ДУГААР АНГИЙН “АНГИ ДЭВШИХ”
НЭГДМЭЛ ШАЛГАЛТЫН ҮНЭЛГЭЭНИЙ ДААЛГАВАР

Б хувилбар

3.... ангийн сурагчовогтой.....

2024.06.03.

НЭГ. УНШИХ ЧАДВАРЫН ДААЛГАВАР

Санамж 1. Эхийг анхааралтай уншиж ойлгосны дараа даалгаврыг гүйцэтгээрэй.

ХУГАЦАА 40 МИНУТ

НИЙТ 15 ОНОО

Мэргэн ухаан

Жаалхүү ээж аавынхаа өгсөн мөнгийг хугацаанаас нь өмнө зарцуулж дууссан учраас мөрөөдөл болсон бөмбөгөө авч чадсангүй.

Удахгүй зуны амралт эхлэх гэж байгаа тул хүүгийн сэтгэл зовж, ямар нэгэн байдлаар мөнгө олох арга хайж байлаа. Түүний захиалж уншдаг нэгэн сэтгүүлийн сүүлчийн улирлын дугаарт “ Ажил болгон хөлстэй ” гэснийг уншаад маш их баярлав.

Тэрээр ээж аавдаа хийж өгсөн ажлынхаа хөлсийг авах нь зүйтэй гэж бодов. Хүү хийсэн ажлынхаа жагсаалтыг шалавхан гаргаж, хөлсийг нь тооцож эхлэв. Ингээд талханд явах 200 төгрөг, хог асгах 300 төгрөг, ээжтэйгээ цуг зах явах 500 төгрөг гэх мэтээр тооцоолоход сарын хөлс нь 10 мянган төгрөг болж байв.

Мэргэн ухаан олсондоо баярласан жаал тэр жагсаалт бүхий цаасаа ээжийнхээ цүнхэнд сэмээрхэн хийв.

Өглөө нь жаалхүүг сэрэхэд хажууд нь 10 мянган төгрөг, бяцхан зурвасын хамт байж байв.

Өчигдөр бичсэн өөрийнх нь зурвас шиг мөртлөө ээжийнх нь гарын үсэгтэй тэрхүү цаасан дээр “ Амь амьдралаа зориулан чамайг төрүүлж өсгөн, хооллож бүхий л амьдралын чинь турш чамайг харж хандсаны хөлс нь зөвхөн чиний үзүүлэх хайр чинь л юм шүү. Ажлынхаа хөлсөнд олсон мөнгөө сайн зүйлд зориулаарай ” гэсэн байлаа.

1. 1 Хүү яагаад бөмбөг худалдан авч чадаагүй вэ?

- А. Дэлгүүр хаалттай байсан
- Б. Бөмбөг худалдан авах мөнгөө хаясан
- В. Мөнгөө тооцоогүй зарцуулж дуусгасан
- Г. Дэлгүүрт бөмбөг байгаагүй

1. 2. Ээж аавдаа хийж өгсөн ажлын хөлсөө авах нь зөв гэж жаалхүү яагаад шийдсэн бэ?

- А. Найз нөхөд нь зөвлөсөн
- Б. Сэтгүүл дээр гарсан мэдээллийг уншаад
- В. Бусдын яриаг сонсоод
- Г. Телевизийн нэвтрүүлэг үзээд

1.3. Жаалхүү цаасан дээр юу бичиж , ээжийнхээ цүнхэнд хийсэн бэ?

- А. Хийсэн ажлынхаа жагсаалт , үнэлгээг бичиж
- Б. Хүү нь ээждээ хайртай гэж бичсэн
- В. Бөмбөг худалдан авахад туслаач гэж бичсэн
- Г. Надад бөмбөг авч өгөөч гэж

1.4 Оноосон нэртэй хэсгийг олоорой.

- А. Ажлын хөлс Б. Зуны амралт
- В. Энэрэл охин Г. Ээжийн хүү

ХОЁР. БИЧИХ ЧАДВАРЫН ДААЛГАВАР:

2.1.Ээжийн захидлын хариуны утга учрыг өөрийн үгээр тайлбарлан бичээрэй. /2 оноо /

.....
.....

2.2. “Ертөнцийн гурван цэнхэр” зохион бичээрэй. /Зоноо/

.....

.....

.....

МАТЕМАТИК :

НЭГ. СОНГОХ ДААЛГАВАР Сонгох даалгавар бүр 1 оноотой.

1. **Найман мянга дөрвөн зуун зургаа** гэсэн тоог стандарт хэлбэрээр зөв бичсэн хариуг олоорой.

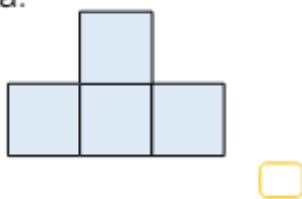
- A. 8460 Б. 8046 В. 8406 Г. 8006

2. **Нийлбэрийн утгыг олоорой. $4355 + 928$**

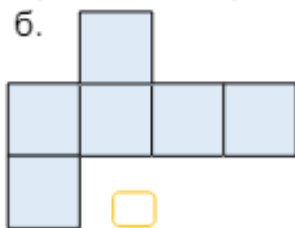
- A. 5736 Б. 5283 В. 4753 Г. 5763

3. Кубийн дэлгээсийг олж, -ээр тэмдэглээрэй.

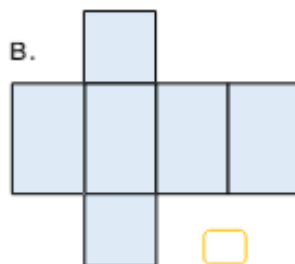
а.



б.



в.



4. Хүүхдүүд ямар зайрмагт дуртайг зурган диаграммаар үзүүлжээ. Энэ судалгаанд нийт хэдэн хүүхэд оролцсон бэ?

Шоколадтай	
Ургамлын сүүтэй	
Чацарганатай	
Нэрс жимстэй	


нь 2 зайрмаг

- A. 15 Б.30 В. 14 Г. 29

5. Уртын хэмжээг ижил нэгжээр илэрхийлэн үйлдлийг гүйцэтгээрэй.

а. $8 \text{ м } 59 \text{ см} - 316 \text{ см} = \underline{\hspace{10em}}$

б. Хүү өглөө 9:30 цагт босож, 40мин дараа гэрээсээ гарав. Хүү хэдэн цагт гэрээсээ гарсан бэ?



6. Сурагчдаас сонирхдог спортыг асууж, хүснэгтэд бүртгэв. = 10

Дуртай спорт	дүрслэл	бүртгэл
Сарсан бөмбөг		
Хөл бөмбөг		
Гар бөмбөг		
Агаарын бөмбөг		

A. Нийт хэдэн сурагч асуулгад оролцсон бэ?
.....

Б. Ямар спортод хамгийн олон сурагч дуртай вэ?
.....
.....

В. Хамгийн олон болон хамгийн цөөн сурагчийн зөрөөг олоорой.
.....

ҮНЭЛГЭЭНИЙ ДААЛГАВРЫН ХАРИУ, ҮНЭЛЭХ СХЕМ

№	АТБХ	Үнэлгээн ий зорилт	А хувилбар	Б хувилбар	Оноо	Онооны тайлбар
НЭГ. СОНГОХ ДААЛГАВАР						
1.1.	Унших	Мэдлэг ойлголт	В	В	1	Зөв хариултыг сонгосон бол 1 оноо
1.2.		Мэдлэг ойлголт	А	Б	1	Зөв хариултыг сонгосон бол 1 оноо
		Чадвар	Б	А	1	Зөв хариултыг сонгосон бол 1 оноо
1.3.		Чадвар	А	В	1	Зөв хариултыг сонгосон бол 1 оноо
2.1	Бичих	Чадвар	1.Жаалхүү мөнгө олох арга олсондоо баярласан. 2.Жаалхүү мэргэн ухаанолсондоо баярласан.	Ээж нь хүүгээ бусдыг ойлгож хайрладаг.Сайн хүн болоорой гэсэн санааг гаргах	2	Өөрийн санаагаа өгүүлбэрээр зөв илэрхийлэн бичсэн бол 2 оноо, дутуу илэрхийлэн бичсэн бол 1 оноо
2.2		Хэрэглэх	Утга санааг гарган оновчтой зохиох		3	Зөв илэрхийлсэн мөр тус бүр 1оноо
МОНГОЛ ХЭЛ - Нийт -9 оноо						

МАТЕМАТИК НЭГ. СОНГОХ ДААЛГАВАР						
1.1.	Тоо тоолол	Мэдлэг ойлголт	Б	Б	1	Зөв хариултыг сонгосон бол 1 оноо
1.2.		Мэдлэг ойлголт	Б	В	1	Зөв хариултыг сонгосон бол 1 оноо
1.3	Геометр	Мэдлэг ойлголт	Б	Б	1	Зөв хариултыг сонгосон бол 1 оноо
1.4	Өгөгдөлтэй ажиллах	Мэдлэг ойлголт	Г	Б	1	Зөв хариултыг сонгосон бол 1 оноо
1.5	Хэмжигдэхүүн	Хэрэглээ	А.512+137=649 Б.10цаг 00 мин	А.859-316= 543 Б.- 10цаг 10мин	2	Зөв бодлого тус бүр 1оноо
1.6	Өгөгдөлтэй ажиллах	Чадвар	А. Нийт-170 Б.Агаарын бөмбөг -25 сурагч В.55-25 = 30 зэрөө	А. Нийт-170 Б.Хөл бөмбөг -55 сурагч В.55-25 = 30 зэрөө	3	Хэсэг тус бүрийг зөв гүйцэтгэсэн бол тус бүр 1оноо
9 оноо						

НИЙТ ОНОО – 18 ОНОО