

3 ДУГААР АНГИЙН 2023-2024 ОНЫ ХИЧЭЭЛИЙН ЖИЛИЙН НЭГДМЭЛ ШАЛГАЛТЫН ДЭЛГЭРЭНГҮЙ БЛЮПРИНТ

2024.05.24

АНГИ, СУДЛАГДАХУУН		3 ДУГААР АНГИ, НЭГДМЭЛ								Нийт	Эзлэх хувь
ШАЛГАЛТ ҮРГЭЛЖЛЭХ ХУГАЦАА		40 МИНУТ									
ДААЛГАВРЫН ХЭЛБЭР		СОНГОХ ДААЛГАВАР				ЗАДГАЙ ДААЛГАВАР					
Үнэлгээний нэгж	Суралцахуйн зорилт	Мэдлэг ойлголт	Чадвар	Хэрэглээ	Бүгд	Мэдлэг ойлголт	Чадвар	Хэрэглээ	Бүгд		
Унших	3.1б. Уншсан эх, үлгэр, өгүүллэг, шүлгээс чухал хэсгийг ялгаж, ойлгосноо харуулах	1\1			1\1					1\1	8.3%
	3.1в. Уншсан үлгэр, өгүүллэг дэх баатрын үйл хөдлөлийн учир шалтгааныг тайлбарлах	1\1			1\1					1\1	8.3%
	3.1г. Эхээс баатрын болон зохиогчийн үгийг ялгах		1\1		1\1					1\1	8.3%
Бичих	3.2а. Утга ялгасан үгийг /н,г,х/ зөв дуудах, нүдлэх, өгүүлбэрт утга ялган зөв хэрэглэх						1\2		1\2	1\2	16.6%
	3.2г. Газар ус, улс орон зэрэг оноосон нэрийг ялгах, зөв бичих							1\3	1\3	1\3	24.9%
Хэлзүй	3.4в. Ойролцоо утга, эсрэг утгатай үгийг найруулгад оновчтой хэрэглэн өгүүлбэр, эх зохиох		1\1		1\1					1\1	8.3%
Тоо тоолол	3.1а.10000 хүртэлх натурал тооны орны утгыг нэрлэх, тоог унших, бичих, тоон шулуун дээр цэгээр тэмдэглэх, жиших, эрэмбэлэх	1\1			1\1					1\1	8.3%
	3.1ж. Тоон илэрхийлэл, тоон тэнцэтгэл, тоон тэнцэтгэл биш бичих, зохиох, үйлдлийн гишүүдийн хамаарал, нэмэх, үржүүлэх үйлдлийн чанар хэрэглэн тооцоолол хийж шалгах		1\1		1\1					1\1	8.3%
Геометр	3.3б. Куб, түүний дэлгээсийг таних, өгсөн дэлгээсээр нь бүтээх	1\1			1\1					1\1	8.3%
Өгөгдөл тэй ажиллах	3.4б. Ажиглалт, хялбар туршилтаар өгөгдөл, мэдээллийг цуглуулах, хүснэгтэд бүртгэх, зурган, баганан диаграммаар илэрхийлэн асуултад хариулах	1\1			1\1		1\3		1\3	2\4	33.3%
Хэмжиг дэхүүн	3.2в. Нэгж квадратыг тоолж талбайн хэмжээг олох, талбайн хэмжээг сантиметр квадратаар илэрхийлэх; кубын дэлгээсийн талбайн хэмжээг олох							1\2	1\2	1\2	16.6%
Нийт		5\5	3\3		8\8		2\5	2\5	4\10	12\18	66.7%

ОНООНЫ ХЭВИЙН ТАРХАЛТ

Үнэлгээний зорилт	Даалгаврын тоо	Даалгаврын оноо	Даалгаврын эзлэх хувь	Онооны эзлэх хувь
Мэдлэг	5	5	41.6%	27.8%
Чадвар	5	8	41.6%	44.4%
Хэрэглээ	2	5	16.7%	27.8%
Нийт	12	18	100%	100%

### 3 АНГИЙН НЭГДМЭЛ ХИЧЭЭЛИЙН ШАЛГАЛТЫН ДААЛГАВРЫН ХАРИУ, ҮНЭЛЭХ СХЕМ

№	Суралцахуйн зорилт	Танин мэдэхүйн түвшин	Авах оноо	Зөв хариу		Онооны тайлбар
				А	Б	
1	3.1б. Уншсан эх, үлгэр, өгүүллэг, шүлгээс чухал хэсгийг ялгаж, ойлгосноо харуулах	Мэдлэг ойлголт	1	Г	В	
2	3.1в. Уншсан үлгэр, өгүүллэг дэх баатрын үйл хөдлөлийн учир шалтгааныг тайлбарлах	Мэдлэг ойлголт	1	А	Г	
3	3.1г. Эхээс баатрын болон зохиогчийн үгийг ялгах	Чадвар	1	В	В	
4	3.4в. Ойролцоо утга, эсрэг утгатай үгийг найруулгад оновчтой хэрэглэн өгүүлбэр, эх зохиох	Чадвар	1	В	В	
5	3.2а. Утга ялгасан үгийг /н,г,х/ зөв дуудах, нүдлэх, өгүүлбэрт утга ялган зөв хэрэглэх	Чадвар	2	Өлөө эрт сэрэх сайхан. Эр ямааг сэрх гэдэг.	Солонгоо өндөг шарах дуртай. Ханиад хүрсэн үед шарх сорви удаан эдгэдэг.	Утгыг зөв гарган бичсэн өгүүлбэр бүрт 1 оноо өгнө. Үгийн алдаа тооцохгүй.
6	3.2г. Газар ус, улс орон зэрэг оноосон нэрийг ялгах, зөв бичих	Хэрэглээ	3	Бат, Гонгорын бөмбөгөөр тоглов. Би Дорнод аймагт төрсөн. Манай аймагт Хэрлэн гол урсдаг.	Дөлгөөн, Халиун нар биеийн тамирын хичээлд дуртай. Би Чойбалсан хотод амьдардаг. Манай аймагт Хан-Уул нэртэй сайхан хайрхан бий.	Хүний нэр, газар орон, аймаг, хот, уул, усны нэрийг том үсгээр эхлэн бичсэн бол тус бүр 1 оноо өгнө. Өгүүлбэр том үсгээр эхлэн бичээгүй бол алдаа тус бүрээс 0.1 оноо хасна.
7	3.1а.10000 хүртэлх натурал тооны орны утгыг нэрлэх, тоог унших, бичих, тоон шулуун дээр цэгээр тэмдэглэх, жиших, эрэмбэлэх	Мэдлэг ойлголт	1	Б	В	
8	3.1ж. Тоон илэрхийлэл, тоон тэнцэтгэл, тоон тэнцэтгэл биш бичих, зохиох, үйлдлийн гишүүдийн хамаарал, нэмэх, үржүүлэх үйлдлийн чанар хэрэглэн тооцоолол хийж шалгах	Чадвар	1	В	Г	
9	3.3б. Куб, түүний дэлгээсийг таних, өгсөн дэлгээсээр нь бүтээх	Мэдлэг ойлголт	1	А	В	
10	3.4б. Ажиглалт, хялбар туршилтаар өгөгдөл, мэдээллийг цуглуулах, хүснэгтэд бүртгэх, зурган, баганан диаграммаар илэрхийлэн асуултад хариулах	Мэдлэг ойлголт	1	Г	Б	
11	3.4б. Ажиглалт, хялбар туршилтаар өгөгдөл, мэдээллийг цуглуулах, хүснэгтэд бүртгэх, зурган, баганан диаграммаар илэрхийлэн асуултад хариулах	Чадвар	3	-Цэцэгт байцай 15кг-р бага - Лууван, хаш нийлээд 30кг - Бүх хураасан ногоо 75кг	- Улаан лооль 10кг-р их - Лууван, цэцэгт байцай нийлээд 35кг - Бүх хураасан ногоо 75 кг	Хариулт тус бүр 1 оноо
12	3.2в. Нэгж квадратыг тоолж талбайн хэмжээг олох, талбайн хэмжээг сантиметр квадратаар илэрхийлэх; кубын дэлгээсийн талбайн хэмжээг олох	Хэрэглээ	2	а = 8 см Р = 32 см	а = 6 см Р = 24 см	Хариу тус бүр 1 оноо
<b>БҮГД</b>			<b>18</b>			

### 3 ДУГААР АНГИЙН НЭГДМЭЛ ШАЛГАЛТЫН СЭДЭВ

Хугацаа 40 мин

А хувилбар

2024.05.28

Хэрлэн сумын 2 дугаар сургуулийн 3а ангийн суралцагч .....

#### МОНГОЛ ХЭЛ ХИЧЭЭЛИЙН ДААЛГАВАР

**Нэгдүгээр хэсэг.** Зөв гэж үзсэн нэг хариултын өмнөх үсгийг дугуйлаарай.

##### Араг, арга хоёр

Гэрэлмаа, Жаргалмаа хоёр араг үүрээд аргал түүж явжээ. Тэгтэл галзуу чоно тэднийг чиглэн айсуй. Гэрэлмаа маш их айж сандран:

- Найз минь! Биднийг чоно идэх нь ээ. Ингээд бид галзуу чонын хоол болох гэж үү? гэв. Харин Жаргалмаа өөрийн мэргэн ухаанд найдаж, огтхон ч сандралгүйгээр ингэж хэлжээ.

- Битгий ай. Хоёулаа арга олъё гэв. Тэгээд тэд аргаа буулган өмнөө барин ар нуруугаа нийлүүлж зогсов. Чоныг цоройн дайрахад өнөөх хоёр аргаа дээш өргөн хөөнө. Чоно хэд үсрээд унаж, сүүлдээ бүр ядраад давхин оджээ. Гэрэлмаа найзынхаа мэргэн ухааныг биширч:

- Ээ ашгүй. Чи байсан тулдаа бид мэнд үлдлээ гэж хэллээ.

1. Хоёр хүүхдийг юу аварсан бэ? /1 оноо/

- А. Аргаа өргөж чоныг хөөсөн учраас араг аварсан.
- Б. Арга ухаанаар бодож олсон учраас арга аварсан.
- В. Жаргалмаагийн мэргэн ухаан аварсан.
- Г. Бүгд зөв.

2. Жаргалмаа яагаад айж сандраагүй вэ? /1 оноо/

- А. Өөрийн мэргэн ухаанд найдсан учраас айж сандраагүй.
- Б. Араг, савраараа чоныг цохино гэж бодоод айгаагүй.
- В. Гэрэлмаа найзтайгаа хамт байсан болохоор айж сандраагүй.
- Г. Галзуу чоно тэднийг идэхгүй байх гэж бодсон учраас айж сандраагүй.

3. Жаргалмаагийн хэлсэн үгийг олоорой. /1 оноо/

- А. Найз минь! Биднийг чоно идэх нь ээ.
- Б. Ингээд бид галзуу чонын хоол болох гэж үү?
- В. Битгий ай. Хоёулаа арга олъё
- Г. Ээ ашгүй. Чи байсан тулдаа бид мэнд үлдлээ

4. Ойролцоо утгатай үгийг олоорой. /1 оноо/

- А. чиглэн айсуй - давхин оджээ
- Б. өмнөө барих - ар нуруугаа нийлүүлэх
- В. цоройх – үсрэх
- Г. мэргэн ухаан – тэнэг

**Хоёрдугаар хэсэг:** Задгай даалгавар. Зөв, сайн бичиж гүйцэтгээрэй.

5. Дараах үгсийг оролцуулан өгүүлбэр зохиогоорой. **сэрх, сэрэх** /2 оноо/

Өглөө эрт ..... сайхан.  
Эр ямааг ..... гэж нэрлэдэг.

Blank writing lines for the composition task.

6. Өгүүлбэрийг уншаад, алдаатай бичсэн үгсийг зөв болгон бичээрэй. /3 оноо/

Бат, гонгорын бөмбөгөөр тоглов. Би дорнод аймагт төрсөн. Манай аймагт хэрлэн гол урсдаг.

Blank writing lines for the correction task.

## МАТЕМАТИК ХИЧЭЭЛИЙН ДААЛГАВАР

**Нэгдүгээр хэсэг:** Зөв гэж үзсэн нэг хариултын өмнөх үсгийг дугуйлаарай.

- “Долоон мянга хоёр зуун дөрөв ” гэсэн тоог зөв бичсэн хариуг сонгоорой. / 1 оноо /  
 А. 7024                      Б. 7204                      В. 7224                      Г. 7240
- Мэдэгдэхгүй байгаа тоог олоорой.  $X * 7 = 623$  / 1 оноо /  
 А. 82                          Б. 96                          В. 89                          Г. 49
- Аль нь кубын дэлгээс вэ? / 1 оноо /



- Хүүхдүүд ямар зайрмагт дуртайг зурган диаграммаар харуулжээ. Зурган диаграммыг уншаад асуултад хариулаарай. / 1 оноо /

Шоколадтай	
Цэцгийтэй	
Аарцтай	
Жимстэй	

- Энэ судалгаанд хэдэн хүүхэд хамрагдсан бэ?

- А. 16                              Б. 17  
 В. 28                              Г. 30

= 2 зайрмаг

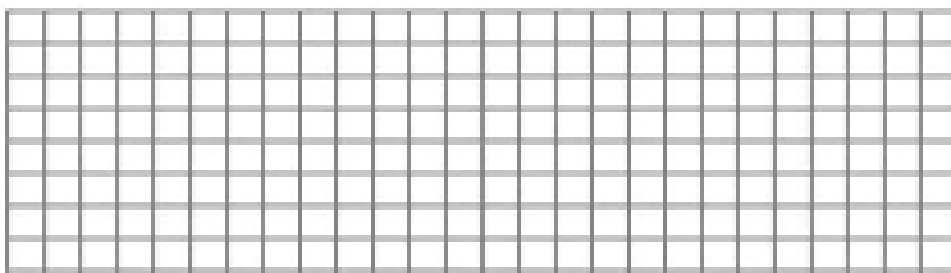
**Хоёрдугаар хэсэг.** Даалгаврын бодолт буюу хариуг дөрвөлжин дотор бичээрэй.

- Өгөгдлийг ажиглаад зөв хариуг бодож олоорой. / 3 оноо /

Хураан авсан хүнсний ногооны хэмжээ

Лууван	
Улаан лооль	
Цэцэгт байцай	
Хаш	

Түлхүүр: нь 5 кг



- Цэцэгт байцаа нь улаан лоолиос хэдэн кг-аар бага байна вэ?
  - Лууван ба хаш нийлээд хэдэн кг болох вэ?
  - Хүүхдүүд нийт хэдэн кг ногоо хураасан байна вэ?
- Квадратын талбай нь 64 кв.см бол хүрээний уртыг олоорой. / 2 оноо /

$S = 64 \text{ кв.см}$   
 $a = ?$   
 $P = a \times a$

### 3 ДУГААР АНГИЙН НЭГДМЭЛ ШАЛГАЛТЫН СЭДЭВ

Хугацаа 40 мин

Б хувилбар

2024.05.28

Хэрлэн сумын 2 дугаар сургуулийн 3а ангийн сурагч .....

#### МОНГОЛ ХЭЛ ХИЧЭЭЛИЙН ДААЛГАВАР

**Нэгдүгээр хэсэг.** Зөв гэж үзсэн нэг хариултын өмнөх үсгийг дугуйлаарай.

##### Араг, арга хоёр

Гэрэлмаа, Жаргалмаа хоёр араг үүрээд аргал түүж явжээ. Тэгтэл галзуу чоно тэднийг чиглэн айсуй. Гэрэлмаа маш их айж сандран:

- Найз минь! Биднийг чоно идэх нь ээ. Ингээд бид галзуу чонын хоол болох гэж үү? гэв. Харин Жаргалмаа өөрийн мэргэн ухаанд найдаж, огтхон ч сандралгүйгээр ингэж хэлжээ.
- Битгий ай. Хоёулаа арга олъё гэв. Тэгээд тэд аргаа буулган өмнөө барин ар нуруугаа нийлүүлж зогсов. Чоныг цоройн дайрахад өнөөх хоёр аргаа дээш өргөн хөөнө. Чоно хэд үсрээд унаж, сүүлдээ бүр ядраад давхин оджээ. Гэрэлмаа найзынхаа мэргэн ухааныг биширч:
- Ээ ашгүй. Чи байсан тулдаа бид мэнд үлдлээ гэж хэллээ.

1. Хоёр хүүхэд чоноос амиа яаж хамгаалсан бэ? /1 оноо/

- А. Ар нуруугаа нийлүүлж зогсоод чоныг цохисон.
- Б. Араг өргөж өмнөө бариад чоныг хөөсөн.
- В. Ар нуруугаа нийлүүлж зогсоод, чоныг цоройн дайрахад хүүхдүүд аргаа дээш өргөсөн.
- Г. Бүгд зөв.

2. Жаргалмаа яагаад айж сандраагүй вэ? /1 оноо/

- А. Галзуу чоно тэднийг идэхгүй байх гэж бодсон учраас айж сандраагүй.
- Б. Араг, савраараа чоныг цохино гэж бодоод айгаагүй.
- В. Гэрэлмаа найзтайгаа хамт байсан болохоор айж сандраагүй.
- Г. Өөрийн мэргэн ухаанд найдсан учраас айж сандраагүй.

3. Жаргалмаагийн хэлсэн үгийг олоорой. /1 оноо/

- А. Найз минь! Биднийг чоно идэх нь ээ.
- Б. Ингээд бид галзуу чонын хоол болох гэж үү?
- В. Битгий ай. Хоёулаа арга олъё
- Г. Ээ ашгүй. Чи байсан тулдаа бид мэнд үлдлээ

4. Ойролцоо утгатай үгийг олоорой. /1 оноо/

- А. чиглэн айсуй - давхин оджээ
- Б. өмнөө барих - ар нуруугаа нийлүүлэх
- В. цоройх – үсрэх
- Г. мэргэн ухаан – тэнэг

**Хоёрдугаар хэсэг:** Задгай даалгавар. Зөв, сайн бичиж гүйцэтгээрэй.

5. Дараах үгсийг оролцуулан өгүүлбэр зохиогоорой. **шарх, шарах** /2 оноо/

Солонгоо өндөг ..... дуртай.  
Ханиад хүрсэн үед ..... сорви удаан эдгэдэг.

.....  
.....  
.....  
.....

6. Өгүүлбэрийг уншаад, алдаатай бичсэн үгсийг зөв болгон бичээрэй. /3 оноо/

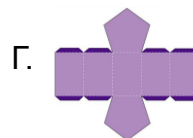

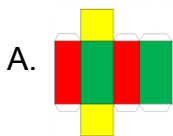
Дөлгөөн, халиун нар биеийн тамирын хичээлд орох дуртай.  
Би чойбалсан хотод амьдардаг. Манай аймагт хан-Уул нэртэй сайхан хайрхан бий.

.....  
.....  
.....  
.....

## МАТЕМАТИК ХИЧЭЭЛИЙН ДААЛГАВАР

**Нэгдүгээр хэсэг:** Зөв гэж үзсэн нэг хариултын өмнөх үсгийг дугуйлаарай.

1. “Зургаан мянга найман зуун ерэн нэг” гэсэн тоог зөв бичсэн хариуг сонгоорой. / 1 оноо /  
 А. 6811                      Б. 6801                      В. 6891                      Г. 6981
2. Мэдэгдэхгүй байгаа тоог олоорой.  $X : 7 = 649$  / 1 оноо /  
 А. 92                          Б. 642                          В. 656                          Г. 4543
3. Аль нь кубын дэлгээс вэ? / 1 оноо /



7. Хүүхдүүд ямар зайрмагт дуртайг зурган диаграммаар харуулжээ. Зурган диаграммыг уншаад асуултад хариулаарай. / 1 оноо /

Шоколадтай	
Цэцгийтэй	
Аарцтай	
Жимстэй	

- Аарцтай зайрмагт хэдэн хүүхэд дуртай вэ?

- А. 3                                      Б. 7  
 В. 8                                      Г. 12




**Хоёрдугаар хэсэг.** Даалгаврын бодолт буюу хариуг дөрвөлжин дотор бичээрэй.

8. Өгөгдлийг ажиглаад зөв хариуг бодож олоорой. / 3 оноо /

Хураан авсан хүнсний ногооны хэмжээ

Лууван	
Улаан лооль	
Цэцэгт байцай	
Хаш	

Түлхүүр: нь 5 кг



- Улаан лооль луувангаас хэдэн кг-аар их вэ?
  - Лууван ба цэцэгт байцай нийлээд хэдэн кг болох вэ?
  - Хүүхдүүд нийт хэдэн кг ногоо хураасан байна вэ?
9. Квадратын талбай нь 36 кв.см бол хүрээний уртыг олоорой. / 2 оноо /

a

a

S = 36 кв.см

a = ?

P = a x в