

ЗАХИРАЛ: Ж. БОЛОРМАА

БАТЛАВ:



Хэрлэн сумын 5-р сургуулийн 2023-2024 оны хичээлийн жилийн 3-р ангийн нэгдмэл шалгалтын дэлгэрэнгүй блюпринт 2024.05.30

БОЛОВСРОЛЫН ТҮВШИН			Бага боловсрол								Нийт	Хувь
АНГИ, СУДЛАГДАХУУН			МАТЕМАТИК, МОНГОЛ ХЭЛ									
ХУГАЦАА			40 МИНУТ									
НИЙТ ОНОО			18 ОНОО									
ДААЛГАВРЫН ТАВИЛ			СОНГОХ ДААЛГАВАР				ЗАДГАЙ ДААЛГАВАР					
№	АТ БХ	Суралцахуйн зорилт	Мэд/о	Чадвар	Хэрэглээ	Бүгд	Мэдлэг ойлголт	Чадвар	Хэрэглээ	Бүгд		
1	Тоо тоолол	3.1е. Арван мянга дотор тоог 10, 100, нэгжээр үржүүлэх, 10, 100, нэгжид хуваах, үлдэгдэлтэй хуваах, нэг тоо нөгөө тооноосоо хэд дахин бага (их) үед эдгээр хоёр тооны нийлбэрээр (зөрөөгөөр) тоо тус бүрийг олох, аравт, зуутыг 2 дахин ихэсгэх, багасгах үйлдлийг цээжээр гүйцэтгэх	1			1					1/1	5.5%
2		3.1и. Тоо, хэмжээний 2, 3, 4, 5, 6, 8, 10-ны хэсгийг олох, нийлбэр нь 1-ээс хэтрэхгүй үед ижил хуваарьтай энгийн бутархайнуудыг нэмэх, хасах			1		1					1/1
3	Геометр	3.3в. Гэр, сургууль орчны зам, тоглох газрын байршлыг хэлэх; зураг, хүснэгт дэх дүрс, юмсын байршлыг бичих, заасан байршилд хүрэх зам, чиглэлийг тодорхойлох, шилжүүлэх	1			1					1/1	5.5%
4	Хэмжигдэхүүн	3.2б. Тохирох хэрэгсэл, хэмжих нэгжийг (мм, см, дм, м, км, г, кг, ц, т, мл, л) сонгон урт, хүнд, эзлэхүүнийг (шингэнийхэмжээ, савны багтаамж) хэмжих, хэмжээг жиших, баримжаалах, хэмжих хэрэгслийн хуваарийн утгыг тайлбарлах, нэг нэгжийг нөгөө нэгжээр илэрхийлэх, дүрсийн хүрээний уртыг олох							2	2	1/2	11.1%

5	Өгөгдөлтэй ажиллах	3.4б. Ажиглалт, хялбар туршилтаар өгөгдөл, мэдээллийг цуглуулах, хүснэгтэд бүртгэх, зурган, баганаан диаграммаар илэрхийлэн асуултад хариулах	1			1				1/1	5.5%
6		3.4б. Ажиглалт, хялбар туршилтаар өгөгдөл, мэдээллийг цуглуулах, хүснэгтэд бүртгэх, зурган, баганаан диаграммаар илэрхийлэн асуултад хариулах					3		3	1/3	16.6%
7	Унших	3.1г. Эхээс баатрын болон зохиогчийн үгийг ялгах	1			1				1/1	5.5%
8		3.1г. Эхээс баатрын болон зохиогчийн үгийг ялгах	1			1				1/1	5.5%
9		3.1в. Уншсан үлгэр, өгүүллэг дэх баатрын үйл хөдлөлийн учир шалтгааныг тайлбарлах		1		1				1/1	5.5%
10	Хэлзүй	3.4б. Уншсан эхээс анхааруулах өгүүлбэрийг ялган таних, бичихдээ анхаарлын тэмдэг, таслал, цэгийг оновчтой хэрэглэх		1		1				11/	5.5%
11	Бичих	3.2г. Газар ус, улс орон зэрэг оноосон нэрийг ялгах, зөв бичих					2		2	1/2	11.1%
12		3.2д. Баярласан сэтгэлээ илэрхийлж, бүтцийн дагуу талархсан утгатай захидал бичих					3	3	1/3	16.6%	
<b>ДААЛГАВРЫН ТОО, ОНОО</b>			<b>5/5</b>	<b>3/3</b>		<b>8/8</b>		<b>2/5</b>	<b>2/5</b>	<b>4/10</b>	<b>12/18</b>
<b>ОНООНЫ ЭЗЛЭХ ХУВЬ</b>			<b>28</b>	<b>16</b>		<b>44%</b>		<b>28</b>	<b>28</b>	<b>56%</b>	<b>100%</b>

**ОНООНЫ ХЭВИЙН ТАРХАЛТ**

Танин мэдэхүйн түвшин	Сонгох даалгаврын оноо	Задгай даалгаврын оноо	Нийт оноо	Нийт онооны эзлэх хувь
Мэдлэг ойлголт/ Ойлгох /	5		5	28%
Чадвар/ Хэрэглэх/	3	2	8	44%
Хэрэглээ /Задлан шинжлэх/		2	5	28%
<b>Нийт</b>	<b>8</b>	<b>4</b>	<b>18</b>	<b>100%</b>

**ҮНЭЛГЭЭНИЙ ДААЛГАВРЫН ХАРИУ, ҮНЭЛЭХ СХЕМ**

Даалгаврын №	Суралцахуйн зорилт	Танин мэдэхүйн түвшин	Зөв хариулт А	Зөв хариулт Б	Оноо	Онооны тайлбар
<b>Математик СОНГОХ ДААЛГАВАР</b>						
1	3.1е. Арван мянга дотор тоог 10, 100, нэгжээр үржүүлэх, 10, 100, нэгжид хуваах, үлдэгдэлтэй хуваах, нэг тоо нөгөө тооноосоо хэд дахин бага (их) үед эдгээр хоёр тооны нийлбэрээр (зөрөөгөөр) тоо тус бүрийг олох, аравт, зуутыг 2 дахин ихэсгэх, багасгах үйлдлийг цээжээр гүйцэтгэх	Мэдлэг ойлголт	Б	В	1	Зөв хариуг сонгосон бол 1 оноо
2	3.1и. Тоо, хэмжээний 2, 3, 4, 5, 6, 8, 10-ны хэсгийг олох, нийлбэр нь 1-ээс хэтрэхгүй үед ижил хуваарьтай энгийн бутархайнуудыг нэмэх, хасах	чавдар	В	В	1	Зөв хариуг сонгосон бол 1 оноо
3	3.3а. Харилцан эгц (перпендикуляр), зэрэгцээ (параллел) шулуун, тэгш, хурц, мохоо өнцөг, олон өнцөгт, тойрог, дугуй дүрсийг нэрлэх, зурах, бүтээл хийх, дүрсийн тэгш хэмийн тэнхлэгийг зурах	Мэдлэг ойлголт	А	Б	1	Зөв хариуг сонгосон бол 1 оноо
4	3.4б. Ажиглалт, хялбар туршилтаар өгөгдөл, мэдээллийг цуглуулах, хүснэгтэд бүртгэх, зурган, баганан диаграммаар илэрхийлэн асуултад хариулах	Мэдлэг ойлголт	Б	Г	1	Зөв хариуг сонгосон бол 1 оноо
<b>Математик задгай даалгавар</b>						
5	3.2б. Тохирох хэрэгсэл, хэмжих нэгжийг (мм, см, дм, м, км, г, кг, ц, т, мл, л) сонгон урт, хүнд, эзлэхүүнийг (шингэнийхэмжээ, савны багтаамж) хэмжих, хэмжээг жиших, баримжаалах, хэмжих хэрэгслийн хуваарийн утгыг тайлбарлах, нэг нэгжийг нөгөө нэгжээр илэрхийлэх, дүрсийн хүрээний уртыг олох	Хэрэглээ	Урт-10 см Өргөн-7 см P=34 см	Урт-10 см Өргөн-7 см S=70 см	2	А.Дүрсийн хүрээний уртыг олсон бол 2 оноо Зөвхөн дүрсийн талуудын хэмжээг бичсэн бол 1 оноо Б. Дүрсийн талбайг олсон бол 2 оноо Зөвхөн дүрсийн талуудын хэмжээг бичсэн бол 1 оноо
6	3.4б. Ажиглалт, хялбар туршилтаар өгөгдөл, мэдээллийг цуглуулах, хүснэгтэд бүртгэх, зурган, баганан	Чадвар	Зурган диаграммын нэр, өгөгдлийн нэрийг гүйцээн зурж диаграммыг гүйцээн		3	Зурган диаграммыг гүйцээн зурсан бол 1 оноо

	диаграммаар илэрхийлэн асуултад хариулах		зурах			Диаграммын нэрийг бичсэн бол 1 оноо Диаграмм дээр хаягдал зүйлсийн нэрийг гүйцээн бичсэн бол 1 оноо
МОНГОЛ ХЭЛ СОНГОХ ДААЛГАВАР						
7	3.1г. Эхээс баатрын болон зохиогчийн үгийг ялгах	Мэдлэг ойлголт	В	А	1	Зөв хариуг сонгосон бол 1 оноо
8	3.1г. Эхээс баатрын болон зохиогчийн үгийг ялгах	Мэдлэг ойлголт	Г	А	1	Зөв хариуг сонгосон бол 1 оноо
9	3.1в. Уншсан үлгэр, өгүүлэг дэх баатрын үйл хөдлөлийн учир шалтгааныг тайлбарлах	Чадвар	А	Б	1	Зөв хариуг сонгосон бол 1 оноо
10	3.4б. Уншсан эхээс анхааруулах өгүүлбэрийг ялган таних, бичихдээ анхаарлын тэмдэг, таслал, цэгийг оновчтой хэрэглэх	Чадвар	Г	В	1	Зөв хариуг сонгосон бол 1 оноо
ЗАДГАЙ ДААЛГАВАР						
11	3.2г. Газар ус, улс орон зэрэг оноосон нэрийг ялгах, зөв бичих	Чадвар	Отгонтэнгэр уул	Өвөрхангай аймаг	2	Зөв засаж бичсэн бол 1 оноо Өгүүлбэр зохиож бичсэн бол 1 оноо
12	3.2з. Өгсөн сэдэв, бүтцийн дагуу үлгэр зохиож бичих	Хэрэглээ	Өгсөн зураг, сонгож хэрэглэх үгсийг ашиглан үлгэр зохиох		3	Үлгэрийн эхлэл, гол, төгсгөл хэсгийг ялган гаргаж чадсан бол 1 оноо Найруулга 1 оноо Зөв бичих дүрэм 1 оноо <b>/0-1 алдсан бол 1 оноо, алдсан үгийн тоогоор 0.1 оноо хасна. 9-өөс дээш алдвал 0 оноо/</b>

Хэрлэн сумын 5-р сургуулийн 3 дугаар ангийн  
2023-2024 оны хичээлийн жилийн нэгдмэл шалгалт

**А хувилбар**



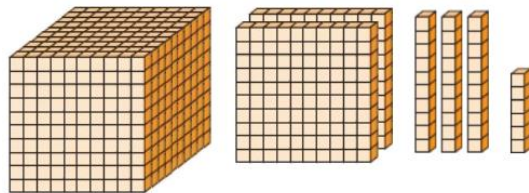
40 минут

3.....ангийн сурагч .....

**САНАМЖ:** 1. Зааврыг анхааралтай уншиж ойлгосны дараа даалгаврыг гүйцэтгээрэй. Сонгох даалгавар бүр 1 оноотой.

**МАТЕМАТИК: СОНГОХ ДААЛГАВАР:**

1.Хавтангаар дүрсэлж үзүүлсэн тоог сонгоорой. /1 оноо/



A. 1135

Б. 1236

В. 1235

Г. 1136

2. Зөв хариултыг дугуйл. /1 оноо/

$$\frac{2}{10} + \frac{4}{10} =$$

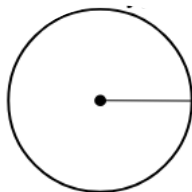
A.  $\frac{6}{20}$

Б.  $\frac{2}{10}$

В.  $\frac{6}{10}$

Г. Зөв хариу байхгүй

3. Зураг дээрх хар зураас тойргийн юуг илэрхийлж байна вэ? /1 оноо/



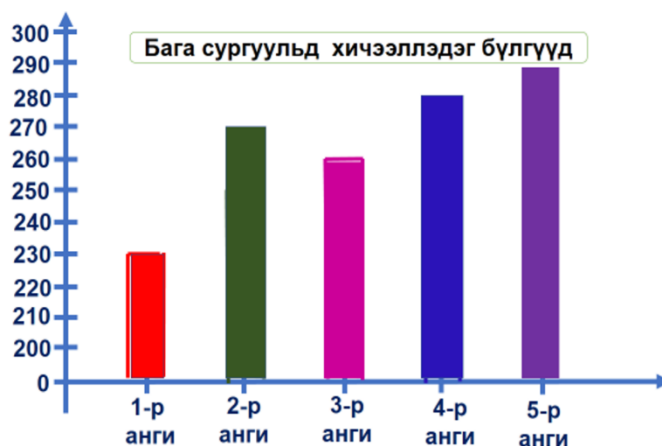
A. радиус

Б. талбай

В. диаметр

Г. периметр

4.Баганан диаграммыг ажиглан 4-р ангийн сурагчдын тоог олоорой. /1оноо/



A. 280


Б. 290

В. 300

Г. 270

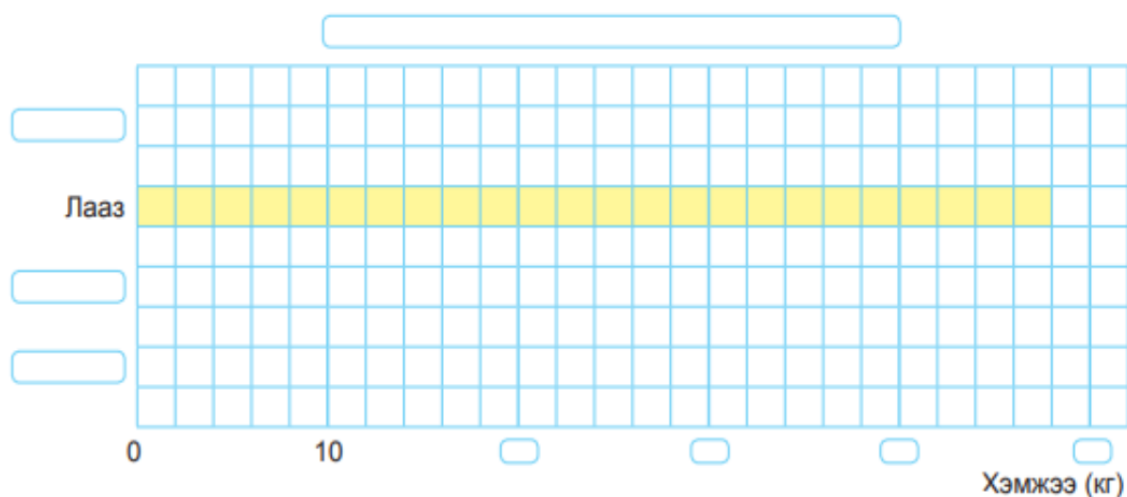
## ЗАДГАЙ ДААЛГАВАР:

5. Дүрсийн хүрээний уртыг олоорой. /2 оноо/



6. 3-р ангийн сурагчид дахин ашиглаж болох хаягдал зүйлсийг цуглуулжээ. Тэд цуглуулсан хаягдлаа жинлэж ангилаад, хэмжээг хүснэгтэд дараах байдлаар бичжээ. Зурган диаграммыг гүйцээн зураарай. /3 оноо/

Хаягдал	Цаас	Хуванцар	Лааз	Хагараагүй шилэн сав
Жин	36кг	28кг	48кг	17кг



## МОНГОЛ ХЭЛ: СОНГОХ ДААЛГАВАР

Эхийг анхааралтай уншаад асуултад хариулаарай.

Тоглоомын талбайд

Хулан, Анар хоёр савлуурдан тоглож байлаа. Тэд ээлжлэн тоглох болов. Эхлээд Анар савлаж, Хулан 100 хүртэл тоолов. Гэвч Анар савлуураас буусангүй. “Анар аа, би 100 хүртэл тоолчихлоо. Одоо миний ээлж” гэв. Тэгтэл Анар:

- Чи дэндүү хурдан тоолчихлоо. Тийм болохоор би буух болоогүй гэв.

Хулангийн уур хүрч эхлэв. Тэр хурдан савлуурт суумаар байв. Багшдаа хэлдэг юм билүү? Даанч багш “Хов зөөхөөсөө өмнө асуудлаа өөрөө шийдэхийг хичээж бай.” Гэж хэлдэг. Яасан дээр вэ? Тэгээд тэр: -“Анар аа, чи бид хоёр ээлжилж тоглоё гэж тохирсон шүү дээ. Хэлсэн үгэндээ хүрэхгүй бол муухай” гэлээ. Анар амаа мушийлган бодож байснаа савлуураас буулаа.

Хулан асуудлаа өөрөө шийдэж чадсандаа баяртай байлаа.

1. “Хов зөөхөөсөө өмнө асуудлаа өөрөө шийдэхийг хичээж бай.” гэж хэн хэлдэг вэ? /1 оноо/

А. Хулан

Б. Анар

В. Багш

Г. Хэн ч биш

2. Хэн 100 хүртэл тоолсон бэ? /1 оноо/

А. Анар

Б. Анар, Хулан хоёр

В. Хэн ч тоолоогүй

Г. Хулан

3. Анар яагаад савлуураас буусан бэ? /1 оноо/

А. Хулан “Хэлсэн үгэндээ хүрэхгүй бол муухай” гэж хэлсэн учраас

Б. Хулан Анарыг хүчээр буулгасан учраас

В. Багш нь Анарыг савлуураас буу гэж хэлсэн учраас

Г. Найзууд нь буу гэж хэлсэн учраас

4. Өгүүлбэрүүдийг тохирох тэмдэгтэй нь зөв холбоорой. /1оноо/

1. Аавын сургаал алт шиг үнэтэй шүү

2. Ном унших нь хүүхэд бидэнд маш хэрэгтэй

3. Ахмад хүнийг хүндэтгэн гарыг нь өргөн золгодог заншилтай юу

а.



б.



в.



А. 1а 2б 3в

Б. 1в 2а 3б

В. 1в 2б 3а

Г.1б 2а 3в


### ЗАДГАЙ ДААЛГАВАР

5. Алдааг засаад өгүүлбэр зохион бичээрэй. /2 оноо/

отгонтэнгэр уул-.....

.....  
.....

6. Зургийг ажиглан хараад, сонгож хэрэглэх үгсийг ашиглан 50-60 үгэнд багтаан үлгэр зохион бичээрэй. /3 оноо/



Сонгож хэрэглэх үгс

Орчныг дүрслэх үг: Жижигхэн навчтай модны дэргэд, ойн захад, зуны халуунд, хүнээс зайдуу газар

Зарааг дүрслэх үг: мэргэн бөөдий, түнтгэр өвгөн шиг зараа, ухаантай нэгэн зараа, үнэгнээс жижигхэн зараа

Үнэгийг дүрслэх үг: том чихтэй үнэг, модноос том үнэг, шаргал үнэг, шөвгөр хошуутай ховч үнэг, цагаан чихт үнэг, хэдхээн сахалтай хөгшин үнэг

Боловсруулсан: 5-р сургуулийн шалгалтын комисс



Хэрлэн сумын 5-р сургуулийн 3 дугаар ангийн  
2023-2024 оны хичээлийн жилийн нэгдмэл шалгалт

**Б хувилбар**

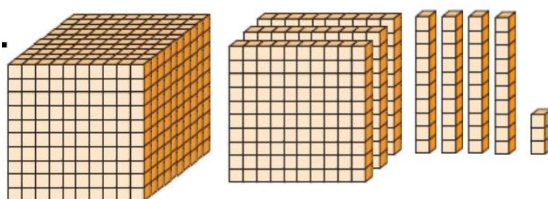
40 минут

3.....ангийн сурагч .....

**САНАМЖ:** 1. Зааврыг анхааралтай уншиж ойлгосны дараа даалгаврыг гүйцэтгээрэй. Сонгох даалгавар бүр 1 оноотой.

**МАТЕМАТИК: СОНГОХ ДААЛГАВАР**

1. Хавтангаар дүрсэлж үзүүлсэн тоог сонгоорой. /1 оноо/



A. 1243

Б. 1333

В. 1343

Г. 1346

2. Зөв хариултыг дугуйл. /1 оноо/

$$\frac{2}{8} + \frac{3}{8}$$


A.  $\frac{6}{16}$

Б.  $\frac{2}{8}$

В.  $\frac{5}{8}$

Г. Зөв хариу байхгүй

3. Зураг дээрх хар цэг тойргийн юуг илэрхийлж байна вэ? /1 оноо/



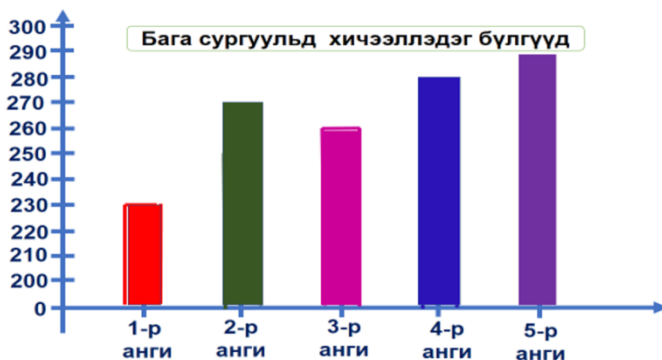
A. радиус

Б. Тойргийн төв

В. диаметр

Г. периметр

4. Баганан диаграммыг ажиглан 3-р ангийн сурагчдын тоог олоорой. /1оноо/



A. 280

Б. 290


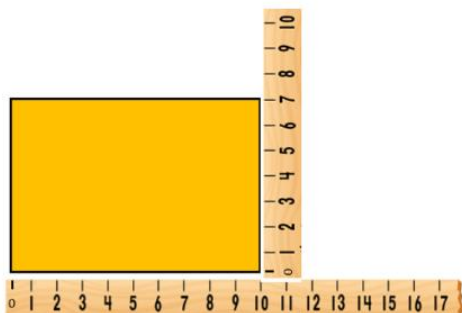
В. 300

Г. 260



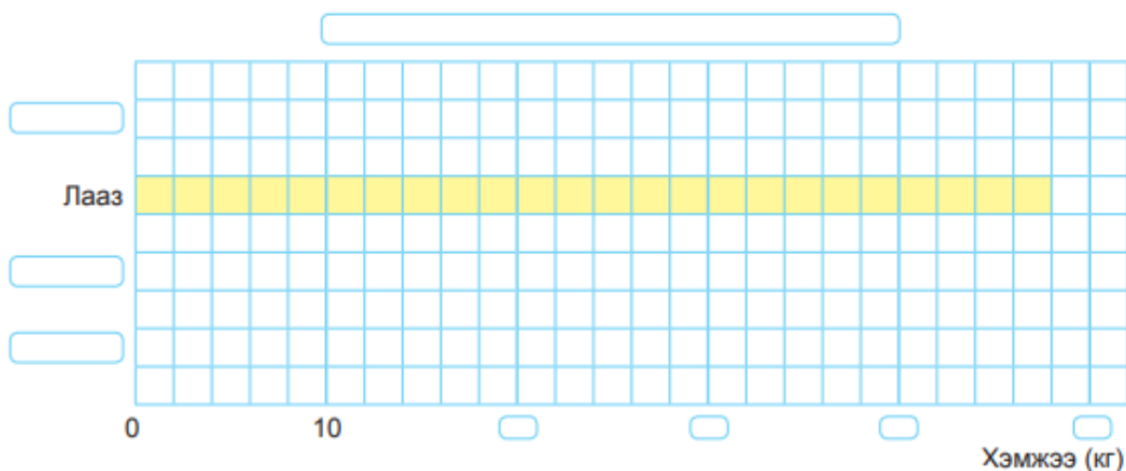
## МАТЕМАТИК: ЗАДГАЙ ДААЛГАВАР

5. Дүрсийн талбайг олоорой. /2 оноо/



6. 3-р ангийн сурагчид дахин ашиглаж болох хаягдал зүйлсийг цуглуулжээ. Тэд цуглуулсан хаягдлаа жинлэж ангилаад, хэмжээг хүснэгтэд дараах байдлаар бичжээ. Зурган диаграммыг гүйцээн зураарай. /3 оноо/

Хаягдал	Цаас	Хуванцар	Лааз	Хагараагүй шилэн сав
Жин	35кг	38кг	48кг	27кг



## МОНГОЛ ХЭЛ: СОНГОХ ДААЛГАВАР

Эхийг анхааралтай уншаад асуултад хариулаарай.

Тоглоомын талбайд

Хулан , Анар хоёр савлуурдан тоглож байлаа. Тэд ээлжлэн тоглох болов. Эхлээд Анар савлаж, Хулан 100 хүртэл тоолов. Гэвч Анар савлуураас буусангүй. “Анар аа, би 100 хүртэл тоолчихлоо. Одоо миний ээлж” гэв. Тэгтэл Анар:

- Чи дэндүү хурдан тоолчихлоо. Тийм болохоор би буух болоогүй гэв.

Хулангийн уур хүрч эхлэв. Тэр хурдан савлуурт суумаар байв. Багшдаа хэлдэг юм билүү? Даанч багш “Хов зөөхөөсөө өмнө асуудлаа өөрөө шийдэхийг хичээж бай.” Гэж хэлдэг. Яасан дээр вэ? Тэгээд тэр: -“Анар аа, чи бид хоёр ээлжилж тоглоё гэж тохирсон шүү дээ. Хэлсэн үгэндээ хүрэхгүй бол муухай” гэлээ. Анар амаа мушийлган бодож байснаа савлуураас буулаа.

Хулан асуудлаа өөрөө шийдэж чадсандаа баяртай байлаа.

1. “Чи бид хоёр ээлжилж тоглоё гэж тохирсон шүү дээ. Хэлсэн үгэндээ хүрэхгүй бол муухай” гэж хэн хэлсэн бэ? /1 оноо/  
 А. Хулан                      Б. Анар                      В. Багш                      Г. Хэн ч биш
2. Хэн амаа мушийлгасан бэ? /1 оноо/  
 А. Анар                      Б. Анар, Хулан хоёр                      В. Хэн ч тоолоогүйГ. Хулан
3. Хулан яагаад уурласан бэ? /1 оноо/  
 А. Хамт тогломооргүй байсан учраас  
 Б. Анар савлуур дээр ээлжилж тоглохгүй байсан учраас  
 В. Багш нь Анарыг уурла гэж хэлсэн учраас  
 Г. Найзууд нь уурла гэж хэлсэн учраас

4. Өгүүлбэрүүдийг тохирох тэмдэгтэй нь зөв холбоорой. /1оноо/

1. Ахмад настай хүнд тусалж байя

2. Өвөөдөө тусалдаг сайн хүү юм

3. Чи ахмад настай хүнд тусалдаг уу

а.

б.

в.

А. 1а 2б 3в

Б. 1в 2а 3б

В. 1б 2а 3в

Г.1б 2в 3а

### ЗАДГАЙ ДААЛГАВАР


5. Алдааг засаад өгүүлбэр зохион бичээрэй. /2 оноо/

өвөрхангай аймаг-.....

.....

.....

7. Зургийг ажиглан хараад, сонгож хэрэглэх үгсийг ашиглан 50-60 үгэнд багтаан үлгэр зохион бичээрэй. /3 оноо/



#### Сонгож хэрэглэх үгс

**Орчныг дүрслэх үг:** Жижигхэн навчтай модны дэргэд, ойн захад, зуны халуунд, хүнээс зайдуу газар

**Зарааг дүрслэх үг:** мэргэн бөөдий, түнтгэр өвгөн шиг зараа, ухаантай нэгэн зараа, үнэгнээс жижигхэн зараа

**Үнэгийг дүрслэх үг:** том чихтэй үнэг, модноос том үнэг, шаргал үнэг, шөвгөр хошуутай ховч үнэг, цагаан чихт үнэг, хэдхээн сахалтай хөгшин үнэг