

“Шинэ хөгжил” цогцолбор сургуулийн Мэдээллийн технологи хичээлийн
6-р ангиас анги дэвших шалгалтын сэдэв.

Хувилбар А

Санамж: Даалгаварыг 60 минутад гүйцэтгэнэ.

Даалгавар тус бүрээс зөвхөн нэг хариултын хувилбарыг сонгоно.

Анги ____ бүлэг ____ Овог нэр _____

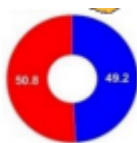
1. Мэдээллээс бичвэр болон тоон мэдээллийг сонгоно уу.

- A. Монгол улсын ерөнхийлөгчийг П.Очирбат гэдэг.
B. Монгол улс 21 аймаг, 330 сумтай



C.

D.



2. Мэдээллийг дүрслэхэд тохиромжтой хэлбэртэй нь харгалзуулна уу.

- | | |
|-------------------------|------------------|
| 1. Төрийн далбаа | a. дуу |
| 2. Улс, нийслэлийн нэр | b. бичвэр |
| 3. Газар нутгийн хэмжээ | c. тоо ба бичвэр |
| 4. Төрийн дуулал | d. зураг |

- A. 1d, 2b, 3c, 4a B. 1d, 2c, 3b, 4a C. 1c, 2d, 3a, 4b D. 1c, 2d, 3b, 4a

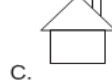
3. Объектуудаас аль хатуу шинж чанартай вэ?

- A. мазаалай B. шуурга C. ширээ D. сонин

4. Өгүүлбэрүүдээс загварын ангиллыг зөв тодорхойлсон өгүүлбэрийг сонгоно уу?

- A. Дэлхийн глобус бол мэдээллэн загвар
B. Компьютер дээр бичсэн бичвэр бол материаллаг загвар
C. Ангийн сурагчийн дүнгийн хүснэгт бол материаллаг загвар
D. Эх орны тухай шүлэг бол мэдээллэн загвар

5. Дараах өгөгдсөн дүрсүүдээс бүтсэн байшингийн загварыг сонгоно уу.



6. Би мэдээллийг оруулах, дэлгэц дээрх заагчийг удирдан команд болон үйлдлийг сонгох заах үүрэгтэй. Би хэн бэ?

- A. Гар B. хулгана C. системийн блок D. дэлгэц

7. Компьютерын үндсэн төхөөрөмжийн ангиллыг үүрэг зориулалтаар нь харгалзуулна уу?

- | | |
|---------------------------|--------------------------------|
| 1. Оролтын төхөөрөмж | a. дэлгэц |
| 2. Боловсруулах төхөөрөмж | b. флаш диск |
| 3. Хадгалах төхөөрөмж | c. хулгана |
| 4. Гаралтын төхөөрөмж | d. Төв боловсруулах байгууламж |

- A. 1c,2a,3b,4d B. 1a,2d,3b,4c C. 1c, 2d,3b,4a D. 1c,2b,3d,4a

8. Хулганы хоёр товшилт нь ямар үйлдэл хийх үүрэгтэй вэ?

- A. Файл, программ нээх B. тохирох цэсийг гаргах

С. сонгосон хэсгийг устгах D. заагчийг гүйлгэх

9. Товчлууруудын үүргийг харгалзуулна уу.

- | | |
|--------------|---|
| 1. Caps Lock | a. Курсорын өмнө байрлаж байгаа тэмдэгтийг устгах |
| 2. Ctrl | b. Шинэ мөр үүсгэх |
| 3. Delete | c. ____ + A дарахад бүх бичвэр идэвхэжнэ. |
| 4. Backspace | d. Үсгийг томоор бичнэ. |
| 5. Enter | e. Курсорын ард байрлаж байгаа тэмдэгтийг устгах |

A. 1d,2c,3a,4e,5b B. 1c,2d,3e,4a,5b C. 1d,2c,3b,4a,5e D. 1d,2c,3e,4a,5b

10. Зурагт компьютерийн эрүүл ахуйн дүрмүүдээс **ДҮРСЛЭГДЭЭГҮЙГ** сонгоно уу.



- A. Нуруу цэх, хөлөө шалан дээр бүрэн тавьсан байх
B. Компьютерийн гар дээр бугуй нь тахийхгүйгээр тавьж болохоор байх
C. Тохой мөрнөөс эгч доош байрлах
D. 10-20 минут тутамд дэлгэцээс нүдээ салгаж байх



11. Тодруулсан хэсэгт дараах ямар үйлдэл хийх вэ?

- A. Идэвхтэй байгаа программыг хаана
B. Программыг ажлын мөрөнд шилжүүлнэ.
C. Сонгосон программыг дэлгэц дүүргэнэ.
D. Тухайн программын файлыг хадгална.

12. Эхийг уншаад өгүүлбэрт байгаа сул зай, цэгийн алдааг тоолон бөглөнө үү.

Үхэр

Таван хошуу малын нэгнь үхэр сүрэг билээ Үхрийн сүү, хялгас, хөөвөр, мах зэргийг ашиглана. Үхрийг дотор нь монгол үхэр, сарлаг, хайнаг гэх мэтээр ангилдаг.

Сул зай	цэг

A. 1,2 B. 2,1 C. 2,2 D. 1,1

13. Аль нь гарын үндсэн байрлалын үсэг вэ?

A. Ү B. С C. Д D. Ъ

14. Гарын хурууны зөв байрлалаар бичих явцад буруу үсэг дарж алдаа гаргасан бол Backspace товчлуурыг аль гарны ямар хуруугаар дарах вэ?

- A. Баруун гарны долоовор хуруугаар
B. Зүүн гарын долоовор хуруугаар
C. Баруун гарын чигчий хуруугаар
D. Зүүн гарын чигчий хуруугаар

15. Бичвэр мэдээллийг гарын хурууны зөв байрлалаар бичих технологийн шаардлагыг үнэн бол Ү, худал бол Х үсгээр тэмдэглээрэй.

....Гарын товчлуурыг харахгүй дэлгэц рүү харж бичнэ.

....Баруун гараар том үсэг бичих бол зүүн гарын чигчий хуруугаар Shift товчлуурыг дарна.

....Дээд, доод эгнээний үсгүүдийг бичихдээ чигчий хурууг ашиглахгүйгээр бичнэ.

....Үндсэн байрлалаас бусад байрлал дахь товчлуурыг ямар ч хуруугаар дарж болно.

A. ҮҮҮХ B. ҮҮХХ C. ҮХХХ D. ХХҮҮ

16. Зөв харгалзуулна уу.



1.

a. Тодоор бичих



2.

b. Текстийн өнгө



3.

с. Доогуур зураастай бичих



4.

d. Үсгийн фонт, хэмжээ



5.

e. Налуугаар бичих

A. 1d,2b,3a,4c,5e B. 1d,2b,3a,4e,5c C. 1b,2d,3a,4e,5c D. 1b,2d,3a,4c,5e

17. Аль нь сонгосон бичвэрийг мөрийн хойд тал буюу хуудасны баруун талд зэрэгцүүлэх вэ?

A. Ctrl +L B. Ctrl+E C. Ctrl +R D. Ctrl+R

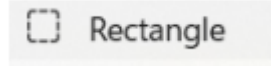
18. Эхийг ажиглаад тус 3 өгүүлбэрт ямар хэлбэржүүлэлт болон зэрэгцүүлэлт хийх командыг ашигласан байна вэ?

Шувуудын онцлог

Монгол орны талын шувууд ихэвчлэн хүзүү, хөл урттай байдаг. Тэд өвс, газрын гадарга дагасан зэвхий саарал, эрээн, шарга зүстэй байна. Тэгвэл говь цөлийн бүсэд элсний өнгөтэй, биеэр бага шувуу олон бий.

A. Italic, Underline, Bold – Align Center B. Underline, Italic, Bold – Align Left
C. Bold, Underline, Italic, – Align right D. Italic, Underline, Bold – Align Justify

19. MS Paint программын дараах хэрэгсэл ямар үүрэгтэй вэ?



- A. Тэгш өнцөгт зурах
- B. Сонгон идэвхжүүлэх хэрэгсэл
- C. Өнгө сонгох хэрэгсэл
- D. Шугамын хүрээний хэлбэр солих

20. MS Paint программын Flip horizontal ньүүрэгтэй вэ?

- A. Сонгосон зургийг босоо тэнхлэгийн хувьд тэгш хэмтэй эргүүлэх
- B. Сонгосон зургийг хэвтээ тэнхлэгийн хувьд тэгш хэмтэй эргүүлэх
- C. Сонгосон зургийг буруун тийш 90° эргүүлэх
- D. Сонгосон зургийг зүүн тийш 90° эргүүлэх

21. Зургийг зурахад ямар дүрсүүд ашигласан бэ?



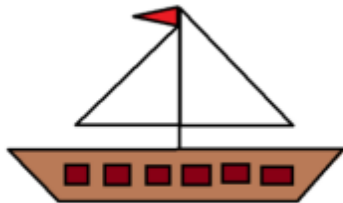
- A.
- B.
- C.
- D.

22. MS Paint программ дээр мод зурахдааашиглавал тохиромжтой.




- A. Rectangle
- B. Eraser
- C. Rotate
- D. Brush

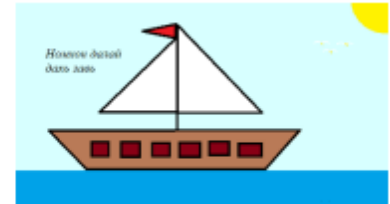
23. Зураг 1, 2 –ыг нэгтгэн зохиомилж, Зураг 3-ыг үүсгэх үйлдлүүдийг зөв дараалалд оруулан дугаарлаарай.



Зураг 1: Завь



Зураг 2: Далай



Зураг 3: Далай дахь завь

1. “Далай” зургийг нээн завины зургийг буулгана.
2. “Завь” зургийг нээн идэвхжүүлээд хуулж авна.
3. Завийг тохиромжтой хэлбэрт зөөж байршуулна.
4. Завины дэвсгэрийг тэнгэрийн өнгөөр будна.
5. “Номхон далай дахь завь” бичвэрийг бичнэ.

- A. 2, 1, 3, 4, 5 B. 2, 1, 3, 5, 4 C. 2, 1, 4, 3, 5 D. 5, 2, 1, 4, 3

24. Интернэт дэх вэб сайтад хандах боломжийг олгодог программыггэж нэрлэдэг

- A. Вэб хөтөч B. вэб хуудас C. интернэт D. www.google.com

25. Хайлтын үр дүнгээс зураг татан авахад ямар командыг сонгох вэ?

- A. Upload B. Paste C. Save As D. Copy

“Шинэ хөгжил” цогцолбор сургуулийн Мэдээллийн технологи хичээлийн
6-р ангиас анги дэвших шалгалтын сэдэв.

Хувилбар В

Санамж: Даалгаварыг 60 минутад гүйцэтгэнэ.

Даалгавар тус бүрээс зөвхөн нэг хариултын хувилбарыг сонгоно.

Анги _____ бүлэг _____ Овог нэр _____

1. Зурагт буй компьютерийн гар дээр мэдээллийг ямар ямар хэлбэрээр дүрсэлснийг сонгоно уу.



- A. Видео, бичвэр, тоо
B. бичвэр, график, зураг
C. бичвэр, зураг, тоо, тэмдэгт
D. график, зураг, тэмдэгт

2. Мэдээллийг дүрслэх хэлбэрүүдийг зөв харгалзуулна уу.



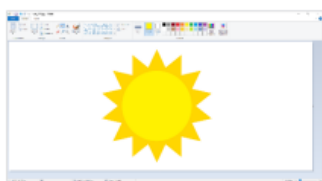
1. Бичвэр a.
2. Тоон b. Манай анги 25 эрэгтэй, 16 эмэгтэй сурагчтай.
3. Бичвэр график c. 41
4. Бичвэр болон тоо d. Манай ангийн багшийг С.Дулмаа гэдэг

- A. 1d,2c,3a,4b B. 1c,2d,3a,4b C. 1b,2c,3a,4d D. 1d,2a,3c,4b

3. Объектуудаас ерөнхий шинж чанараар ижил объектыг сонгоно уу.

- A. Малгай, бээлий, гутал, тавиур, гутлын тос
B. Ширээ, сандал, цамц, цэцэг, цаас, таваг
C. Ааруул, эзгий, аарц, сүү, айраг, тараг
D. Төмс, лууван, манжин, хөргөгч, бууз, хуушуур

4. Бодит объектын шинж чанарыг тусган ойролцоо байдлаар дүрсэлснийг загвар гэнэ.



Зурагт өгөгдсөн загвар болон түүний бодит объектын шинж чанарыг утгатай нь харгалзуулна уу.

1. Загварын ангилал a. Мэдээллэн загвар
2. Загварыг үүсгэсэн орчин b. Нар
3. Объектын нэр c. Огторгуй
4. Объектын орчин d. MS Paint программ
- A. 1a, 2d, 3b, 4c B. 1b, 2a, 3c, 4d C. 1c, 2a, 3d, 4b D. 1d, 2c, 3b, 4a

5. Бичвэр мэдээлэл компьютерт оруулах болов. Ямар төхөөрөмж ашиглах вэ?

- A. Компьютерийн гар B. Компьютерийн дэлгэц C. Флаш диск D. CPU

6. Компьютерийн үндсэн төхөөрөмжүүдийн ангиллыг үүрэг зориулалтай нь харгалзуулна уу.

1. Оролтын төхөөрөмж a. Төв боловсруула байгууламж
2. Боловсруулах төхөөрөмж b. Гар
3. Хадгалах төхөөрөмж c. Дэлгэц
4. Гаралтын төхөөрөмж d. Хатуу диск

А. й В. д С. ж D. а

14. Зүүн гарын ядам хуруугаар бичигдэх үсгүүдийг сонгоно уу.

А. б,у,ё В. д,з,ю С. ц,ы,ч D. ы,у,ч

15. 1-5 хүртлэх алхмаар бичиж үг бүтээгээрэй.

эгнээ	Зүүн гар		Баруун гар
	Дунд хуруу	Долоовор хуруу	Долоовор хуруу
Дээд	Алхам -2		Алхам -1, алхам -5
Дунд		Алхам -4	
доод			Алхам -3

А. Нугас В. намар С. налгар D. нутаг

16.

...Өсөхөөс сурсан үндэсний хэл мартаж болшгүй соёл
Үхтэл орших төрөлх нутаг салж болшгүй орон...

Д.Нацагдорж

Дээрх шүлгийн хэсгээс бичихдээ зохиогчийн нэрийг онцгой харагдахаар бичжээ. Тохирох хэлбэржүүлэлт, зэрэгцүүлэлт хэсэг тус бүрээс сонгоно уу.

1. Зэрэгцүүлэлт	a. Align Left b. Align Right	A. 1a, 2a,3a B. 1a, 2b,3b
2. Өнгө	a. Font color b. Text Highlight color	C. 1b, 2a,3a D. 1b, 2b,3a
3. Хэлбэр	a. Italic b. Underline	

17. Аль нь сонгосон бичвэрийг мөрийн голд буюу хуудасны төвд зэрэгцүүлэх вэ?

A. ≡ CTRL +E B. ≡ CTRL +J C. ≡ CTRL +R D. ≡ CTRL+L

18. Болдыг ээж нь өөрт хэрэгтэй хичээлийн хэрэгслийн жагсаалт гаргахыг хүсжээ. Тэрээр дараах жагсаалтыг баримт бичиг боловсруулах программ дээр бичих болов.

Үзэг -3 ш, харандаа -2 ш, дэвтэр-5ш, шугам-1ш, баллуур-2ш, бичгийн цаас-1 боодол, номын хавтас-15ш


Ямар команд сонгон бичсэн бол ойлгомжтой харагдах вэ?

- A. Хичээлийн хэрэгсэл бүрийг **B** командын хэрэгсэл ашиглан тодруулах
B. Хичээлийн хэрэгсэл бүрийг шинэ мөрнөөс эхлүүлэн **≡** командын хэрэгсэл ашиглан зэрэгцүүлэх
C. Хичээлийн хэрэгсэл бүрийг шинэ мөрнөөс **≡** эхлүүлэн командын хэрэгсэл ашиглан дугаарлах
D. Хичээлийн хэрэгсэл бүрийг **U** командын хэрэгсэл ашиглан доогуур зураастай ялгах

19. MS Paint программд зураг оруулж ирэх командыг сонгоно уу.

A. File –New B. File – Open C. File – Recent D. File –Send

20. Өнгө соруулах хэрэгсэл сонгоно уу.

A.  B.  C.  D. 

21. Зургийг зурахад ямар дүрсүүд ашигласан бэ?


“Шинэ хөгжил” цогцолбор сургуулийн Мэдээллийн технологи хичээлийн
6-р ангиас анги дэвших шалгалтын сэдэв.

Хувилбар С

Санамж: Даалгаварыг 60 минутад гүйцэтгэнэ.

Даалгавар тус бүрээс зөвхөн нэг хариултын хувилбарыг сонгоно.

Анги ____ бүлэг ____ Овог нэр _____

1. Өнгөрсөн 7 хоногт Дорнод аймгийн нутгийн баруун хэсгээр салхины дундаж хурд зарим үед секундэд 24-40 метр хүрэв. Гэсэн мэдээлэл ямар хэлбэрээр дүрслэгдсэн байна вэ?
А Тоон мэдээлэл В. Бичвэр болон тоон мэдээлэл
С бичвэр мэдээлэл D. Үгэн мэдээлэл
2. Мэдээлэл ямар хэлбэрээр дүрслэгдсэн болохыг зөв харгалзуулна уу.
1. Энгийн бутархай а. дуун мэдээлэл
2. Газрын зураг b. Бичвэр мэдээлэл
3. Захиа с. Тоон мэдээлэл
4. FM нэвтрүүлэг d Зурган мэдээлэл
А. 1с,2d,3b,4а В. 1d,2с,3а,4b С. 1b,2с,3d,4а D. 1d,2с,3b,4а
3. Объектын тухай мэдээллийг цуглуулж, түүнд тулгуурлан объектын шинж чанарыг тусган дүрсэлснийггэнэ.
А. дуураймал В. загвар С. мэдээлэл D. хувилбар
4. Зөв харгалзуулна уу
1. Амьд байгалийн объект а “миний нутаг” шүлэг
2. Үйл явц үзэгдлийн объект b Буйдан
3. Хүний бүтээсэн объект с болжмор
4. Эд зүйл объект d бороо орох
А 1d,2с,3а,4b В. 1а,2d,3b,4с С. 1с,2d,3а,4b D. 1d,2а,3b,4с
5. **Миний сайхан энх орон** бичвэр мэдээллийн хэлбэржүүлэлтийн дарааллыг зөв сонгоно у.
А. Italic, Bold, Underline В. Bold, Italic, Underline
С. Bold, Underline, Italic D. Underline, Italic, Bold
6. Дараах товчлуурын үүргийг зөв харгалзуулна уу
1. Enter а. үсгийг томоор бичих
2. Backspace b. Шинэ мөр үүсгэх
3. CapsLock с. Курсорын ар дахь тэмдэгтийг устгана
4. Delete d. Курсорын өмнөх тэмдэгтийг устгаж, заагчийг урагш шилжүүлнэ.
А. 1с,2а,3d,4b В. 1b,2d,3а,4с С. 1с,2а,3d,4b D. 1с,2а,3d,4b
7. Дараах “Аялалд явах” эхийн бичвэрийн зэрэгцүүлэлтийг зөв сонгоно уу.


- А. Та нар аялалд явахдаа гал түлэх хоноглох газраа зөв сонгох нь чухал. Ойд гал түлэх хэрэг гарвал цагаан газрыг сонгоно. Хөрс болон ширгийг сул шороонд нь хүртэл хуулан хажуу тийш нь тавиарай. Ингэж түлсэн гал аюул багатай ба буцааж тавьсан ширэг нь амархан сэргэж ургана
- В. Та нар аялалд явахдаа гал түлэх хоноглох газраа зөв сонгох нь чухал. Ойд гал түлэх хэрэг гарвал цагаан газрыг сонгоно. Хөрс болон ширгийг сул шороонд нь хүртэл хуулан хажуу тийш нь тавиарай. Ингэж түлсэн гал аюул багатай ба буцааж тавьсан ширэг нь амархан сэргэж ургана
- С. Та нар аялалд явахдаа гал түлэх хоноглох газраа зөв сонгох нь чухал. Ойд гал түлэх хэрэг гарвал цагаан газрыг сонгоно. Хөрс болон ширгийг сул шороонд нь хүртэл хуулан хажуу тийш нь тавиарай. Ингэж түлсэн гал аюул багатай ба буцааж тавьсан ширэг нь амархан сэргэж ургана
- Д. Та нар аялалд явахдаа гал түлэх хоноглох газраа зөв сонгох нь чухал. Ойд гал түлэх хэрэг гарвал цагаан газрыг сонгоно. Хөрс болон ширгийг сул шороонд нь

17. “мишээл анар хоёрангидаа саван алчуур хувин гар ариутгагч авахаар дэлгүүр явжээ” гэсэн өгүүлбэрт байгаа алдааг олж тоолно уу? Энд том үсгээр бичих....алдаа, зай авах... алдаа, таслал бичих....алдаа, цэг тавих....алдаа тус тус хэд байна вэ?

Том үсэг бичих	Зай авах	Таслал бичих	Цэг тавих

- A. 1,2,2,2 B. 2,2,4,1 C. 2,1,3,1 D. 2,1,4,1

18. Зураг боловсруулах Paint программын командуудын үүргийг зөв харгалзуулна уу.





- | | |
|--------------------|------------------|
| 1. Eraser | a. харандаа |
| 2. Pencil | b. баллуур |
| 3. Fill with color | c. бичвэр |
| 4. Text | d. дүүргэж будах |

- A. 1a,2b,3c,4d B. 1b,2c,3d,4a C. 1b,2a,3d,4c D. 1c,2a,3d,4b

19. Аль нь зургийн өргөтгөл биш вэ?

- A. Nom.doc B. nom.jpeg C. Nom.png D. Nom.gif

20. Зургийн хэрэгслүүдийг зөв харгалзуулна уу.

- | | |
|---|------------------|
| 1.  | a. баллуур |
| 2.  | b. харандаа |
| 3.  | c. дүүргэж будах |
| 4.  | d. соруул |

- A. 1c,2b,3a,4d B. 1a,2c,3d,4b C. 1a,2b,3c,4d D. 1c,2d,3a,4b

21. Компьютерийг бүрэн унтраахад аль командыг хэрэглэх вэ?

- A. Log off B. shut down C. Restart D. sleep

22. Тооны машины товчлууруудын үүргийг зөв харгалзуулна уу?

- | | |
|---------------------------------|--------------|
| 1. Тооцооллын үр дүнг цэвэрлэнэ | a. CE |
| 2. Оруулсан тоог арилгана | b. C |
| 3. Үйлдлийн үр дүнг үзүүлнэ | c. = |
| 4. Сүүлчийн цифрийг арилгана | d. Backspace |

- A. 1b,2a,3c,4d B. 1a,2b,3c,4d C. 1a,2c,3b,4d D. 1d,2c,3b,4

23. Дэлхий нийтийг хамарсан хамгийн том сүлжээ болсүлжээ юм.

- A. худалдааны B. интернэт C. вэбийн D. цахилгааны

24. Аль командыг хэрэглэхэд зараах зураг үүсэх вэ?



Анхны зураг



Дараах зураг

- A. Flip vertical B. Rotate Left 90° C. Rotate 180° D. Rotate right 90°

25. Зөв хариултыг сонгоно уу.

- A. IP хаяг давхцаж болно
 B. Холбоос бол зураг
 C. Вэб хаяг ямар ч мэдээлэл агуулдаггүй
 D. Вэб мэдээлэл бол зураг

B. 1d,2c,3a,4e,5b B. 1c,2d,3e,4a,5b C. 1d,2c,3b,4a,5e D. 1d,2c,3e,4a,5b

10. Зурагт компьютерийн эрүүл ахуйн дүрмүүдээс **ДҮРСЛЭГДЭЭГҮЙ** сонгоно уу.



- A. Нуруу цэх, хөлөө шалан дээр бүрэн тавьсан байх
- B. Компьютерын дэргэд өргөслөг ургамал тавих
- C. Тохой мөрнөөс эгч доош байрлах
- D. 10-20 минут тутамд дэлгэцээс нүдээ салгаж, өөр зүйл харах



11. Тодруулсан хэсэгт дараах ямар үйлдэл хийх вэ?

- A. Идэвхтэй байгаа программыг хаана
- B. Программыг ажлын мөрөнд шилжүүлнэ.
- C. Сонгосон программыг дэлгэц дүүргэнэ.
- D. Тухайн программын файлыг хадгална.

12. Эхийг уншаад өгүүлбэрт байгаа сул зай, цэгийн алдааг тоолон бөглөнө үү.

Үхэр

Таван хошуу малын нэгнь үхэр сүрэг билээ Үхрийн сүү, хялгас, хөөвөр, мах зэргийг ашиглана Үхрийг дотор нь монгол үхэр, сарлаг, хайнаг гэх мэтээр ангилдаг.

Сул зай	цэг

B. 1,2 B. 2,1 C. 2,2 D. 1,1

13. Аль нь гарын үндсэн байрлалын үсэг вэ?

- A. Ж B. И C. P D. П

14. Гарын хурууны зөв байрлалаар бичих явцад буруу үсэг дарж алдаа гаргасан бол Backspace товчлуурыг аль гарны ямар хуруугаар дарах вэ?

- A. Баруун гарны долоовор хуруугаар
- B. Зүүн гарын долоовор хуруугаар
- C. Баруун гарын чигчий хуруугаар
- D. Зүүн гарын чигчий хуруугаар

15. Бичвэр мэдээллийг гарын хурууны зөв байрлалаар бичих технологийн шаардлагыг үнэн бол Y, худал бол X үсгээр тэмдэглээрэй.

....Гарын товчлуурыг харахгүй дэлгэц рүү харж бичнэ.

....Баруун гараар том үсэг бичих бол зүүн гарын чигчий хуруугаар Shift товчлуурыг дарна.

....Дээд, доод эгнээний үсгүүдийг бичихдээ чигчий хурууг ашиглахгүйгээр бичнэ.

....Үндсэн байрлалаас бусад байрлал дахь товчлуурыг ямар ч хуруугаар дарж болно.

B. YYYX B. YYXX C. YXXX D. XYY

16. Дараах командыг үүрэг зөв харгалзуулаарай.

- 1. Баримтыг хадгалах a. Open
- 2. Баримтыг хаах b. Save
- 3. Хадгалсан баримтыг нээх c. Close
- 4. Шинэ баримт нээх d. New

A. 1d,2a,3b,4c, B. 1d,2b,3a,4c, C. 1b,2d,3a,4c D. 1b,2c,3a,4d,


17. Аль нь сонгосон бичвэрийг мөрийн хойд тал буюу хуудасны зүүн талд зэрэгцүүлэх вэ?

- B. ≡ Ctrl +L B. ≡ Ctrl+E C. ≡ Ctrl +R D. ≡ Ctrl+R

18. Эхийг ажиглаад тус 3 өгүүлбэрт ямар хэлбэржүүлэлт болон зэрэгцүүлэлт хийх командыг ашигласан байна вэ?

Зорилгодоо хүрсэн мэлхий

Нэгэн өдөр мэлхийнүүд тэмцээн явуулжээ. Маш өндөр цамхгийн оройд гарах зорилготой ажээ. Маш олон мэлхий болон найз нөхөд нь цуглажээ.

- A. Italic, Underline, Bold – Align Center B. Underline, Italic, Bold – Align Left
D. Bold, Underline, Italic, – Align right D. Italic, Underline, Bold – Align Justify
19. Зураг зурах программыг сонгоно уу.
A. Paint
B. Microsoft Word
C. Microsoft Excel
D. Chrome
20. Дараах хэсгийг харгалзуулна уу.
1. Crop a. томруулах
2. Resize b. эргүүлэх
3. Rotate c. тасдах
4. Zoom d. дурын өнцөгөөр хазайлгах
A. 1c,2a,3b,4d B. 1a,2d,3b,4c C. 1c, 2d,3b,4a D. 1c,2b,3d,4a
21. Цэгийн оронд нөхөж бичнэ үү.
Зургийг томруулан харахад янз бүрийн өнгийн цэгүүд бүхий жижиг хэсгүүдээс бүрдсэн байдаг. Энэ жижиг хэсгийггэж нэрлэдэг.
A. Дүрс B. Пиксель C. Зураас D. Шугам
22. MS Paint программ дээр дараах зургийг зурахад ямар хэрэгслүүдийг түлхүү ашиглах вэ?
 A. Зураас (Line)
B. Нум (Curve)
C. Зураас (Line), Нум (Curve)
D. Харандаа (Pencil)
23. Ижил дүрсийг олшруулан хувилах командыг сонгоно уу.
1. Дүрсээ сонгож (Select)гарын Ctrl товчлуурыг дараастайгаар чирж хуулбарлах
2. Дүрсээ сонгож (Select)гарын Shift товчлуурыг дараастайгаар чирж зөөх
3. Дүрсээ сонгож (Select)гарын Ctrl товчлуурыг дараастайгаар чирж зөөх
4. Дүрсээ сонгож (Select)гарын Shift товчлуурыг дараастайгаар чирж хуулбарлах
24. Зөв вэб хаягийг сонгоно уу.
A. <http://www.medle.mn> B. <http://kids.gogo>
C. <mn://kids.gogo.mn/> D. stars@mobicom.mn
25. Интернет ашиглахын ач холбогдол юу вэ?
A. Мэдээллийг төрөл бүрийн байдлаар боловсруулан гаргах
B. Хэрэгцээт мэдээллийг богино хугацаанд хайж олох
C. Шийдвэр гаргах
D. Аль нь биш

“Шинэ хөгжил” цогцолбор сургуулийн Мэдээллийн технологи хичээлийн
6-р ангиас анги дэвших шалгалтын сэдэв.

Хувилбар Е

Даалгаврыг 60 минутад гүйцэтгэнэ.

Даалгавар тус бүрээс зөвхөн нэг хариултын хувилбарыг сонгоно.

Анги _____ бүлэг _____ Овог нэр _____

1. Мэдээллээс бичвэр болон зурган мэдээллийг сонгоно уу.

- A. Монгол улсын ерөнхийлөгчийг П.Очирбат гэдэг.
- B. Монгол улс 21 аймаг, 330 сумтай
- C.



D.



2. Мэдээллийг дүрслэх хэлбэрүүдийг зөв харгалзуулна уу.

1. Бичвэр а.

№	нэр
1	Дулмаа

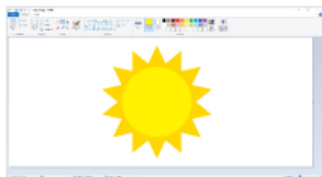
- 2. Тоон b. Манай анги 25 эрэгтэй, 16 эмэгтэй сурагчтай.
- 3. Хүснэгтэн c. 41
- 4. Бичвэр болон тоо d. Манай ангийн багшийг С.Дулмаа гэдэг

B. 1d,2c,3a,4b B.1c,2d,3a,4b C.1b,2c,3a,4d D.1d,2a,3c,4b

3. “Сондгой тоо” гэсэн бүлэг объектод аль объект **багтахгүй** вэ?

- A. 11 B.315 C.201 D.510

4. Бодит объектын шинж чанарыг тусган ойролцоо байдлаар дүрсэлснийг загвар гэнэ.



Зурагт өгөгдсөн загвар болон түүний бодит объектын шинж чанарыг утгатай нь харгалзуулна уу.

- 1. Загварын ангилал a. Мэдээллэн загвар
- 2. Загварыг үүсгэсэн орчин b. Нар
- 3. Объектын нэр c. Огторгуй
- 4. Объектын орчин d. MS Paint программ

B. 1a, 2d, 3b, 4c B. 1b, 2a, 3c, 4d C. 1c, 2a, 3d, 4b D.1d, 2c, 3b, 4a

5. Бичвэр мэдээлэл компьютерт хадгалах болов. Ямар төхөөрөмж ашиглах вэ?

- A. Компьютерийн гар B. Компьютерийн дэлгэц C. Хутуу диск D. CPU

6. Компьютерийн үндсэн төхөөрөмжүүдийн ангиллыг үүрэг зориулалттай нь харгалзуулна уу.

- 1. Оролтын төхөөрөмж a. Төв боловсруула байгууламж
- 2. Боловсруулах төхөөрөмж b. Гар
- 3. Хадгалах төхөөрөмж c. Дэлгэц
- 4. Гаралтын төхөөрөмж d. Хатуу диск

A. 1b, 2a, 3d, 4c B. 1b, 2d, 3a, 4c C. 1c, 2a, 3d, 4b D. 1d, 2a, 3c, 4b

7. Хулгана ашиглан компьютерт хадгалсан файлаа нээх үйлдлийг сонгоно уу.

- A. Баруун товчлуурыг нэг удаа товших
- B. Баруун товчлуурыг ойрхон хоёр удаа товших

- C. Зүүн товчлуурыг нэг удаа товших
- D. Зүүн товчлуурыг ойрхон хоёр удаа товших

8. Дараах мэдээллэн загвараас ямар мэдээлэл авч болохыг тодорхойлоорой.

	2024-01-28 Мягмар	2024-01-29 Лхагва	2024-01-30 Пүрэв	2024-01-31 Баасан
Өдөртөө	-11	-15	-10	-12
Шөнөдөө	-21	-23	-24	-25

- A. Хамгийн дулаан шөнө хэдэн вэ? Хамгийн хүйтэн өдөр хэдэн вэ?
- B. Энэ мэдээллэн загвар ямар асуултад хариулт өгч чадахгүй байна.
- C. Эндээс ямар ерөнхий дүгнэлт гаргаж болох вэ?
- D. Мэдээллийг ямар хэлбэрүүдээр дүрсэлсэн байгааг нэрлэнэ үү.

9. Дараах товчлууруудыг үүргийг зөв харгалзуулна уу

- | | |
|--------------|--|
| 1. Ctrl | a. Цифрийн гарны горим өөрчлөх |
| 2. Num Lock | b. ___+Z үйлдэл буцаах |
| 3. Caps Lock | c. Бүх үсгийг томоор бичих |
| 4. Backspace | d. Догол мөр үүсгэх, курсорын байрлалыг шилжүүлэх |
| 5. Tab | e. Курсорын өмнөх байрлаж байгаа тэмдэгтийг устгах |

- A. 1d,2c,3a,4e,5b B. 1d,2a,3c,4e,5b C. 1b,2a,3c,4e,5d D. 1b,2c,3e,4a,5d

10. Компьютерийн ард буруу суух нь биеийн хэлбэр гажих, нуруугаар өвдөх, бугуй үрэвсэх, хараа муудах гэх олон сөрөг үр дагвартай. Зурагт компьютерийн хэрэглээний энгийн ямар дүрмийг зөрчсөн байна вэ?



- 1. Компьютерийн ойролцоо өргөслөг ургамал тавьсан.
 - 2. Өөрт тохиромжгүй сандал дээр суусан
 - 3. Тохой мөрнөөс доош эгц биш, гар бугуйгаар тахийсан
 - 4. Компьютерийн ширээн дээр уух зүйл тавиагүй
 - 5. Нуруу цэх биш, хөлөө улаар гишгэлгүй суусан
- B. 1,2,4 B. 2,3,4 C. 1,3,5 D. 2,3,5

11. Зургийн программ нээхэд программын цонх жижиг болсон байв. Программын цонхны аль товчлуур дээр дарж дэлгэц дүүргэж харах вэ?

- A. B. C. D.

12. Компьютерийн программд бичвэр мэдээлэл оруулахдаа цогцолборын төгсгөлд хийх үйлдлийг сонгоно уу.

- A. Сул зай авах ()
- B. Цэг тавиад сул зай авах (.)
- C. Цэг тавиад курсорыг шинэ мөрөнд шилжүүлэх (.↵)
- D. Цэг тавиад Tab товчлуур дарах (. Tab)

13. Сурагчид гарын хурууны үндсэн байрлалаар бичвэрийг шивж оруулж байгаа бол баруун гарын чигчий хуруу ямар Монгол үсэг дарах вэ?

- A. й B. д C. ж D. а

14. Баруун гарын ядам хуруугаар бичигдэх үсгүүдийг сонгоно уу.

- A. б,у,ё B. ү,л,в C. ц,ы,ч D. ы,у,ч

15. Бичвэр мэдээллийг гарын хурууны зөв байрлалаар бичих технологийн шаардлагыг үнэн бол Y, худал бол X үсгээр тэмдэглээрэй.

-Гарын товчлуурыг харахгүй дэлгэц рүү харж бичнэ.
 -Баруун гараар том үсэг бичих бол зүүн гарын чигчий хуруугаар Shift товчлуурыг дарна.
 -Дээд, доод эгнээний үсгүүдийг бичихдээ чигчий хурууг ашиглахгүйгээр бичнэ.
 -Үндсэн байрлалаас бусад байрлал дахь товчлуурыг ямар ч хуруугаар дарж болно.
- C. YYYY B. YYXX C. YXXX D. XYY

16.

...Өсөхөөс сурсан үндэсний хэл мартаж болшгүй соёл
Үхтэл орших төрөлх нутаг салж болшгүй орон...

Д.Нацагдорж

Дээрх шүлгийн хэсгээс бичихдээ зохиогчийн нэрийг онцгой харагдахаар бичжээ. Тохирох хэлбэржүүлэлт, зэрэгцүүлэлт хэсэг тус бүрээс сонгоно уу.

1. Зэрэгцүүлэлт	a. Align Left b. Align Right
2. Өнгө	a. Font color b. Text Highlight color
3. Хэлбэр	a. Italic b. Underline

- A. 1a, 2a,3a
- B. 1a, 2b,3b
- C. 1b, 2a,3a
- D. 1b, 2b,3a

17. Аль нь сонгосон бичвэрийг мөрийн голд буюу хуудасны төвд зэрэгцүүлэх вэ?

- A. ≡ CTRL +E B. ≡ CTRL +J C. ≡CTRL +R D. ≡ CTRL+L

18. Болдыг ээж нь өөрт хэрэгтэй хичээлийн хэрэгслийн жагсаалт гаргахыг хүсжээ. Тэрээр дараах жагсаалтыг баримт бичиг боловсруулах программ дээр бичих болов.

Үзэг -3 ш, харандаа -2 ш, дэвтэр-5ш, шугам-1ш, баллуур-2ш, бичгийн цаас-1 боодол, номын хавтас-15ш

Ямар команд сонгон бичсэн бол ойлгомжтой харагдах вэ?

- A. Хичээлийн хэрэгсэл бүрийг **B** командын хэрэгсэл ашиглан тодруулах
- B. Хичээлийн хэрэгсэл бүрийг шинэ мөрнөөс эхлүүлэн **≡** командын хэрэгсэл ашиглан зэрэгцүүлэх
- C. Хичээлийн хэрэгсэл бүрийг шинэ мөрнөөс эхлүүлэн **≡ ▾** командын хэрэгсэл ашиглан дугаарлах
- D. Хичээлийн хэрэгсэл бүрийг **U** командын хэрэгсэл ашиглан доогуур зураастай ялгах


19. MS Paint программд зураг оруулж ирэх командыг сонгоно уу.

- A. File –New B. File – Open C. File – Recent D. File –Send

20. Өнгө дүүргэж будах хэрэгсэл сонгоно уу.

- A.  B.  C.  D. 

21. MS Paint программ дээр дараах зургийг зурахад ямар хэрэгслүүдийг түлхүү ашиглах вэ?



- A. Зураас (Line)
- B. Нум (Curve)
- C. Зураас (Line), Нум (Curve)
- D. Харандаа (Pencil)

22. MS Paint программ дээр мод зурахдааашиглавал тохиромжтой.



- A. Rectangle
- B. Eraser
- C. Rotate

D. Brush

23. Ижил дүрсийг олшруулан хувилах командыг сонгоно уу.

- A. Дүрсээ сонгож (Select)гарын Ctrl товчлуурыг дараастайгаар чирж хуулбарлах
- B. Дүрсээ сонгож (Select)гарын Shift товчлуурыг дараастайгаар чирж зөөх
- C. Дүрсээ сонгож (Select)гарын Ctrl товчлуурыг дараастайгаар чирж зөөх
- D. Дүрсээ сонгож (Select)гарын Shift товчлуурыг дараастайгаар чирж хуулбарлах

24. Баярын ах нь гадаадад суралцдаг. Баяр шинээр худалдаж авсан ундаг дугуйгаа ахдаа үзүүлж ярилцахыг хүсэв. Интернэтийн ямар үйлчилгээг ашиглан ахтайгаа холбогдох вэ?

- A. Цахим шуудан
- B. цахим яриа
- C. цахим худалдаа
- D. цахим сургалт

25. Интернэтээс хурдан шуурхай мэдээллээ хайхын тулдхэрэгтэй.

- A. Түлхүүр үгээ зөв сонгож хайх
- B. Интернэт рүү шууд орох
- C. Хөтчөө зөв сонгох
- D. Интернэтийн хурдаа шалгах

Мэдээллийн технологи хичээлийн 6-р ангийн анги дэвших шалгалтын сэдвийн түлхүүр

Хувилбар А		Хувилбар В		Хувилбар С		Хувилбар D		Хувилбар E	
1	B	1	C	1	B	1	C	1	C
2	A	2	A	2	A	2	A	2	A
3	C	3	C	3	B	3	D	3	D
4	D	4	A	4	C	4	B	4	A
5	C	5	A	5	C	5	C	5	C
6	B	6	A	6	B	6	D	6	A
7	C	7	D	7	C	7	C	7	D
8	A	8	B	8	C	8	A	8	A
9	A	9	C	9	C	9	D	9	C
10	C	10	D	10	D	10	C	10	D
11	B	11	C	11	B	11	A	11	C
12	D	12	C	12	C	12	A	12	C
13	C	13	A	13	B	13	C	13	B
14	C	14	C	14	A	14	C	14	B
15	B	15	D	15	C	15	B	15	B
16	B	16	C	16	D	16	D	16	C
17	D	17	A	17	C	17	A	17	B
18	D	18	C	18	C	18	C	18	C
19	A	19	B	19	A	19	A	19	B
20	A	20	D	20	B	20	C	20	B
21	D	21	B	21	B	21	B	21	B
22	D	22	A	22	B	22	B	22	D
23	A	23	D	23	D	23	A	23	A
24	A	24	B	24	B	24	A	24	B
25	A	25	A	25	A	25	B	25	A