



БШУГ-ЫН ДАРГА **БАТБАЯР** Ч.АРИУНАА

ДОРНОД АЙМГИЙН 3 ДУГААР АНГИЙН 2023-2024 ОНЫ ХИЧЭЭЛИЙН ЖИЛИЙН НЭГДМЭГ ШАЛГАЛТЫН ХУРААНГУЙ БЛЮПРИНТ

2024.05.01

АНГИ		3 ДУГААР АНГИ												Нийт даалгаврын тоо	Нийт даалгаврын оноо	Агуулгын хэлэх хувь				
ХУГАЦАА		60 МИНУТ																		
ДААЛГАВРЫН ХЭЛБЭР		СОНГОХ ДААЛГАВАР						ЗАДГАЙ ДААЛГАВАР												
Хичээл	АТБХ	Мэдлэг ойлголт		Чадвар		Хэрэглээ		Бүгд		Мэдлэг ойлголт		Чадвар		Хэрэглээ		Бүгд				
Монгол хэл	Унших	2	2	1	1			3	3								3	3	25%	
	Бичих											1	2	1	3	2	5	2	5	17%
	Хэлзүй			1	1			1	1									1	1	8%
Математик	Тоо тоолол	1	1	1	1			2	2								2	2	17%	
	Хэмжигдэхүүн											1	2	1	2	2	1	2	8%	
	Геометр	1	1					1	1								1	1	8%	
	Өгөгдөлтэй ажиллах	1	1					1	1			1	3			1	3	2	4	17%
Даалгаврын тоо/оноо		5	5	3	3			8	8			2	5	2	5	4	10	12	18	
Онооны эзлэх хувь		62.5		37.5				100				50		50		100		66%		100%

ҮНЭЛГЭЭНИЙ ЖИН

Үнэлгээний зорилт	Даалгаврын тоо	Эзлэх хувийн жин
Мэдлэг, ойлголтыг үнэлэх даалгавар	5	41%
Мэдлэгээ хэрэглэх чадварыг үнэлэх даалгавар	7	58%

БОЛОВСРУУЛСАН: БШУГ-ЫН БАГА БОЛОВСРОЛЫН МЭРГЭЖИЛТЭН *М.Хэрлэнтуяа* **М.ХЭРЛЭНТУЯА**

III АНГИЙН НЭГДМЭЛ ШАЛГАЛТЫН СЭДЭВ

сурагчийн нэр:

“А” ХУВИЛБАР

нийт 18 оноо

Хугацаа: 40мин

1. СОНГОХ ДААЛГАВАР

Сонгох даалгавар бүр 1 оноотой.

САНАМЖ: Эхийг анхааралтай уншиж ойлгосны дараа даалгаврыг гүйцэтгээрэй.

Тагтаа, хүүхэд хоёр

Хэдэн тагтаа гудамжинд үзэгдэв. Хоёр хүүхэд тагтаанууд руу чулуугаар шидсэнд нэг нь үлдээд, бусад нь нисэн одлоо. Үлдсэн нэг нь нисэж чадахаа байж, ойрхон зуур нисэх аядсанаа төдхөн буугаад ирэх ажээ. Түүний буухтай зэрэг хоёр хүүхэд дахин чулуу шидэж, тагтааг зовооно.

Сүүл сүүлдээ тэр тагтаа ойр ч нисэхээ болиод “Би та нарт ямар гэм хийсэн бэ? Юунд та нар намайг зовоож байна вэ?” гэж хоёр хүүхдээс өршөөл гуйсан янзтай толгойгоо өргөн, өөдөөс нь харж байв.

Гэтэл хоёр хүүхэд түүнийг өрөвдсөнгүй, харин бүр ойртон зогсоод, чулуу нүүлгэн, ид бах болгон инээж байлаа.

1.1 Хүүхдүүд тагтаа руу юу шидсэн бэ?

- а. будаа б. өвс в. чулуу г. юу ч шидээгүй

1.2 Тагтааны хийсэн үйл хөдлөл аль нь вэ?

- а. Чулуу шидсэн. б. Өршөөл гуйсан.
в. Түүнийг өрөвдсөнгүй. г. Инээж байсан.

1.3 Чулуунд оногдсон тагтаа яагаад нисэж чадахгүй байсан бэ?

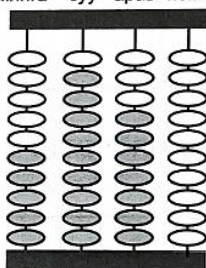
- а. Тагтаа ядарсан болохоор б. Хүүхдүүдтэй тоглосон болохоор
в. Хүүхдүүд будаа өгсөн болохоор г. Тагтаа гэмтсэн болохоор

1.4 Балархай эгшиг нь үйл үгийн “х”-г ялгах үүргээр орсон үгийг олоорой.

- а. ойрхон б. ирэх в. хүүхэд г. болгон

1.5 Дараах тоо аль нь вэ?

мянга зуу арав нэгж



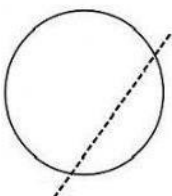
- а. 597 б. 5970 в. 6980 г. 5870

1.6 “Хоёр мянга нэг зуун тавин зургаа” тоог зуутаар зөв тоймлосныг олоорой.

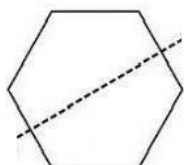
- а. 2156 б. 2160 в. 2200 г. 2000

1.7 Өгсөн шулууны хувьд тэгш хэмтэй дүрсийг олоорой.


А.



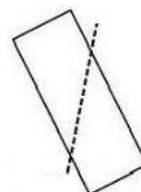
Б.



В.



Г.



III АНГИЙН НЭГДМЭЛ ШАЛГАЛТЫН СЭДЭВ

сурагчийн нэр:

“Б” ХУВИЛБАР

нийт 18 оноо

Хугацаа: 40мин

1. СОНГОХ ДААЛГАВАР

Сонгох даалгавар бүр 1 оноотой.

САНАМЖ: Эхийг анхааралтай уншиж ойлгосны дараа даалгаврыг гүйцэтгээрэй.

Танихгүй хүнтэй хамт явж болохгүй.

Саруул хүүхдийн асрамжийн газар амьдардаг байжээ. Өрөөндөө хоёулаа эвтэй найртай байдаг аж. Нэгэн удаа Саруул өрөөнийхөө найздаа төрсөн өдрийн бэлэг авахаар ойрхон дэлгүүр лүү ганцаараа гарлаа. Гудамжинд нэгэн танихгүй хүн тааралдаад “Чамд дуртай зүйлийг чинь дэлгүүрээс авч өгье, хамт явъя” гэж хэлэв. Саруулд сайхан санал байсан боловч багшийнх нь хэлсэн үг санаанд нь орж ирлээ.

“Огт танихгүй эсвэл зүс төдий мэдэх хүн чамд юу ч гэж хэлнэ, тэдэнтэй хамт явж болохгүй шүү” гэснийг санан, танихгүй хүнтэй явахаас татгалзлаа. Багшийнхаа үгэнд орсон Саруул ихэд баярлан, байр луугаа гүйв. Өрөөнийх нь найз түүнд тохиолдсон явдлыг сонсоод, талархлаа илэрхийлжээ.

1.1 Саруул ямар зорилгоор дэлгүүр гарсан бэ?

а. өлссөн болохоор

б. ганцаараа уйдаад

в. найздаа магтуулах гээд

г. найздаа бэлэг авахаар

1.2 Саруул гудамжинд хэнтэй таарсан бэ?

а. найзтайгаа

б. танихгүй хүнтэй

в. багштайгаа

г. хэн ч таараагүй

1.3 Багш нь юу гэж хэлдэг байсан бэ?

а. Дэлгүүрээс юм авч өгье.

б. Талархлаа илэрхийлсэн.

в. Танихгүй хүнтэй хамт явж болохгүй.

г. Хамт явахаас татгалзлаа.

1.4 Балархай эгшиг нь үйл үгийн “х”-г ялгах үүргээр орсон үгийг олоорой.

а. ойрхон

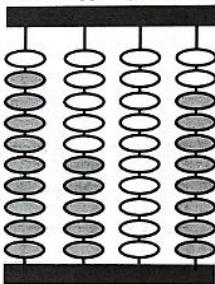
б. хэлсэн

в. мэдэх

г. санал

1.5 Дараах тоо аль нь вэ?

мянга зуу арав нэгж



а. 958

б. 9508

в. 8507

г. 1058

1.6 “Мянга ерэн найм” тоог зуутаар зөв тоймлосныг олоорой.

а. 200

б. 1098

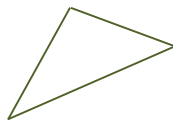
в. 2000

г. 1100

1.7 Тэгш хэмтэй дүрсийг олж дугуйлаарай.



а.



б.

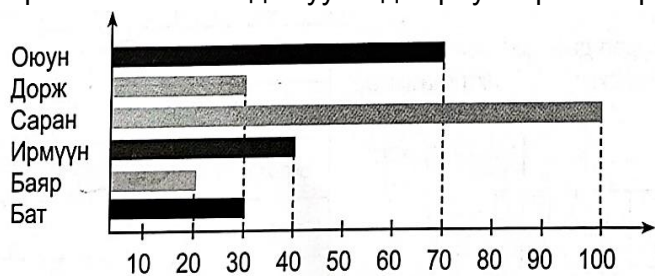


в.



г.

1.8 Диаграммыг ажиглаад асуултад хариулаарай. Ирмүүнийх Батаас хэдээр олон байна вэ?



- а. 20 б. 60 в. 10 г. 30

2. ЗАДГАЙ ДААЛГАВАР

2.1 Өгүүлбэрээс алдаатай үгийг олж зураад, зөв болгон бичээрэй. /2оноо/

Найзын маань өвөө дархан хотоос онгцоор ирлээ.

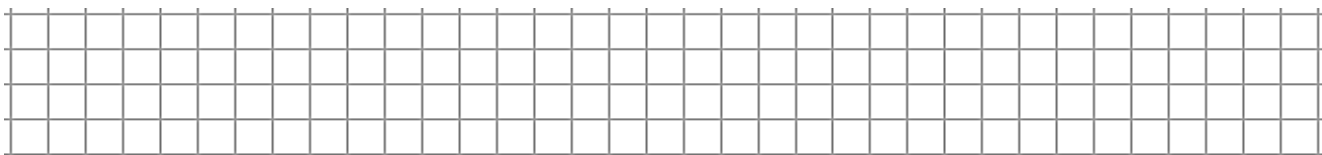
2.2 “Ертөнцийн гурван цагаан” зохион бичээрэй. /3оноо/

.....

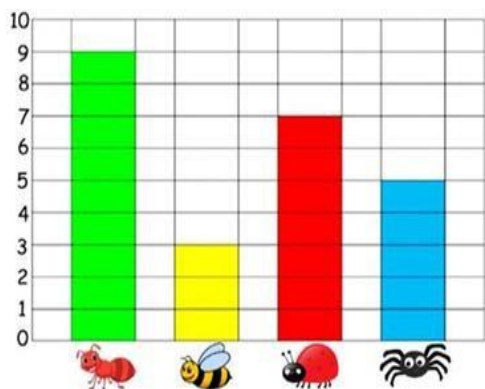
.....

.....

2.3 Тэгш өнцөгтийн талбай 480м.кв, урт нь 30м бол өргөн ба хүрээний уртыг олоорой. /2оноо/



2.4 Багана диаграммыг ажиглаад, үнэн өгүүлбэрүүдийг олж тэмдэглээрэй.



- Шоргоолж зөгийнөөс 6-аар цөөн байна.
- Зөгий аалзнаас 2-оор цөөн байна.
- Цох аалзнаас 2-оор олон байна.
- Шоргоолж аалзнаас 4-өөр олон байна.

ҮНЭЛГЭЭНИЙ ДААЛГАВРЫН ХАРИУ, ҮНЭЛЭХ СХЕМ

№	АТБХ	Үнэлгээний зорилт	А хувилбар	Б хувилбар	Оноо	Онооны тайлбар																									
НЭГ. СОНГОХ ДААЛГАВАР																															
1.1.	Унших	Мэдлэг ойлголт	В	Г	1	Зөв хариултыг сонгосон бол 1 оноо																									
1.2.		Мэдлэг ойлголт	Б	Б	1	Зөв хариултыг сонгосон бол 1 оноо																									
1.3.		Чадвар	Г	В	1	Зөв хариултыг сонгосон бол 1 оноо																									
1.4.	Хэлзүй	Чадвар	Б	В	1	Зөв хариултыг сонгосон бол 1 оноо																									
1.5.	Тоо тоолол	Мэдлэг ойлголт	Б	Б	1	Зөв хариултыг сонгосон бол 1 оноо																									
1.6.		Чадвар	В	Г	1	Зөв хариултыг сонгосон бол 1 оноо																									
1.7.	Геометр	Мэдлэг ойлголт	А	Б	1	Зөв хариултыг сонгосон бол 1 оноо																									
1.8.	Өгөгдөлтэй ажиллах	Мэдлэг ойлголт	Г	В	1	Зөв хариултыг сонгосон бол 1 оноо																									
ХОЁР. ЗАДГАЙ ДААЛГАВАР																															
2.1.	Бичих	Чадвар	Солонго, зурах	Дархан, онгоцоор	2	Алдаатай үгийг олж зөв болгон бичсэн үг тус бүр 1 оноо																									
2.2.		Хэрэглээ	Утга санааг гарган оновчтой зохиох		3	Зөв илэрхийлсэн мөр тус бүр 1 оноо																									
2.3.	Хэмжигдэхүүн	Хэрэглээ	$540:20=27\text{см}$ $P=(27+20)\times 2=94\text{см}$	$480:30=16\text{м}$ $P=(30+16)\times 2=92\text{м}$	2	Урт өргөнөө олсон бол 1 оноо Хүрээний уртаа олсон бол 1 оноо																									
2.4.	Өгөгдөлтэй ажиллах	Чадвар	<table border="1"> <thead> <tr> <th>Өгүүлбэр</th> <th>үнэн</th> <th>худал</th> </tr> </thead> <tbody> <tr> <td>Хэл бөмбөгөөр хамгийн олон хүүхэд хичээллэдэг.</td> <td></td> <td>✓</td> </tr> <tr> <td>Бөхөөр хичээллэдэг хүүхдийн тоо сэгсэн бөмбөгөөс 7-оор цөөн</td> <td>✓</td> <td></td> </tr> <tr> <td>Хэл бөмбөг болон бөхөөр хичээллэдэг нийт хүүхэд 10</td> <td></td> <td>✓</td> </tr> </tbody> </table>	Өгүүлбэр	үнэн	худал	Хэл бөмбөгөөр хамгийн олон хүүхэд хичээллэдэг.		✓	Бөхөөр хичээллэдэг хүүхдийн тоо сэгсэн бөмбөгөөс 7-оор цөөн	✓		Хэл бөмбөг болон бөхөөр хичээллэдэг нийт хүүхэд 10		✓	<table border="1"> <tbody> <tr> <td><input type="checkbox"/> Шоргоолж зөгийнөөс 6-аар цөөн байна.</td> </tr> <tr> <td><input checked="" type="checkbox"/> Зөгий аалзнаас 2-оор цөөн байна.</td> </tr> <tr> <td><input checked="" type="checkbox"/> Цох аалзнаас 2-оор олон байна.</td> </tr> <tr> <td><input checked="" type="checkbox"/> Шоргоолж аалзнаас 4-өөр олон байна.</td> </tr> </tbody> </table>	<input type="checkbox"/> Шоргоолж зөгийнөөс 6-аар цөөн байна.	<input checked="" type="checkbox"/> Зөгий аалзнаас 2-оор цөөн байна.	<input checked="" type="checkbox"/> Цох аалзнаас 2-оор олон байна.	<input checked="" type="checkbox"/> Шоргоолж аалзнаас 4-өөр олон байна.	3	<table border="1"> <tbody> <tr> <td>Өгүүлбэрүүдийн үнэн, худлыг зөв тэмдэглэсэн бол</td> <td>3</td> </tr> <tr> <td>Бүх өгүүлбэрийг худал гэж тэмдэглэсэн бол</td> <td>2</td> </tr> <tr> <td>Бүх өгүүлбэрийг үнэн гэж тэмдэглэсэн бол</td> <td>1</td> </tr> <tr> <td>Бүх нүдэнд ямар нэгэн тэмдэглэгээ хийсэн бол</td> <td>0</td> </tr> </tbody> </table>	Өгүүлбэрүүдийн үнэн, худлыг зөв тэмдэглэсэн бол	3	Бүх өгүүлбэрийг худал гэж тэмдэглэсэн бол	2	Бүх өгүүлбэрийг үнэн гэж тэмдэглэсэн бол	1	Бүх нүдэнд ямар нэгэн тэмдэглэгээ хийсэн бол	0	3
Өгүүлбэр	үнэн	худал																													
Хэл бөмбөгөөр хамгийн олон хүүхэд хичээллэдэг.		✓																													
Бөхөөр хичээллэдэг хүүхдийн тоо сэгсэн бөмбөгөөс 7-оор цөөн	✓																														
Хэл бөмбөг болон бөхөөр хичээллэдэг нийт хүүхэд 10		✓																													
<input type="checkbox"/> Шоргоолж зөгийнөөс 6-аар цөөн байна.																															
<input checked="" type="checkbox"/> Зөгий аалзнаас 2-оор цөөн байна.																															
<input checked="" type="checkbox"/> Цох аалзнаас 2-оор олон байна.																															
<input checked="" type="checkbox"/> Шоргоолж аалзнаас 4-өөр олон байна.																															
Өгүүлбэрүүдийн үнэн, худлыг зөв тэмдэглэсэн бол	3																														
Бүх өгүүлбэрийг худал гэж тэмдэглэсэн бол	2																														
Бүх өгүүлбэрийг үнэн гэж тэмдэглэсэн бол	1																														
Бүх нүдэнд ямар нэгэн тэмдэглэгээ хийсэн бол	0																														

