

1. Нэг нь нөгөөгөөс нэг зуугаар их байх хос тоог олоорой.

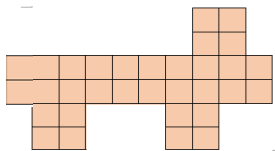
А. 196 ба 206

Б. 568 ба 558

В. 2100 ба 3100

Г. 1654 ба 1754

2. Өгсөн дүрсийн талбайн хэмжээг олоорой. **Нэг нүдийг 1 нэгж талбай гэж үзнэ.**



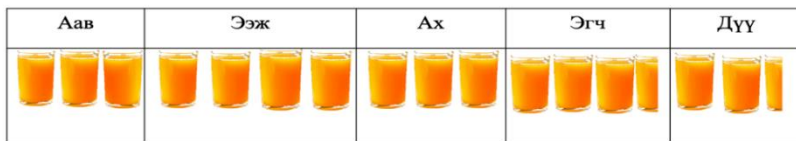
А. 30 нэгж.кв

Б. 32 нэгж.кв

В. 8 нэгж.кв

Г. 7 нэгж.кв

3.



Гэр бүлийн хоногт уусан шингэний хэмжээг зурган диаграммаар харуулжээ. Нийт хэдэн аяга шингэн уусан бэ?



А. 40 Б. 20 В. 50 Г. 32

4. $\frac{1}{2}$ тэй тэнцүү бутархай аль нь вэ?

А. $\frac{2}{4}$

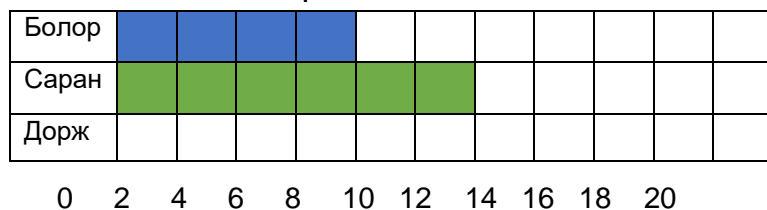
Б. $\frac{1}{4}$

В. $\frac{2}{1}$

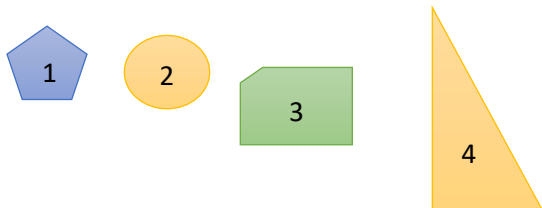
5. А. Сурагчдын бодсон бодлогын тоог хүснэгтэд дүрслэв. Хүснэгтийг ажиглаад гүйцээгээрэй.

Болор		8
Саран		12
Дорж		

Б. Доржийн бодлогыг баганан диаграммаар илэрхийлээрэй



6. Дүрсүүдийг хоёр шинжээр нь ангилж, дугаарыг хүснэгтэд бичээрэй.



	Тэгш хэмтэй	Тэгш хэмгүй
Шар өнгөтэй		
Шар өнгөтэй биш		

Сурагчийн нэр

Б Хувилбар

НИЙТ ОНОО 18

2024.06.03

Согоон цэцэг

Модон дотор ургадаг ягаан цэцэг хүн, мал ямар ч амьтны цусыг тогтооход хэрэглэдэг эмийн ургамал байжээ. Анх удаа нээгдсэн эмийн ургамлыг “Согоон цэцэг” гэж нэрлэсэн нь гайхалтай.

Дондогийг аавтайгаа ойд явж байтал модны чөлөөнд хоёр чоно согоо барьж байгаад хүний чимээгээр зугтаажээ. Согооны хүзүү, хонго их шархадсан харагдана. Шархтай согоо ойн цоорхойд очиж ягаан цэцэг түүж идэв.

Аав нь явахдаа хоёр мануухай босгож, согоог чоноос хамгаалжээ. Дондогийг “Согоогоо үзээд ир” гэж аав нь өдөр алгасалгүй явуулна. Арваад хоногийн дараа шархтай согоо эдгэрээд ойн гүн рүү явчихжээ.

1. Согоон цэцгийг юунд хэрэглэдэг вэ?

А. Шарх эдгээдэг

Б. Гоёл чимэглэл

В. Хүмүүсийн хоол тэжээл

2. Эхийн үйл явдал ямар улиралд өрнөж байна вэ?

А. Өвлийн улиралд

Б. Намрын улиралд

В. Зуны улиралд

3. Шархадсан согоо яагаад эдгэсэн бэ?

А. Шарханд сайн цэцэг идсэн

Б. Мануухай босгосон учир эдгэсэн.

В. Дондог сайн асарсан.

4. Дараа нь - ойролцоо утгатай үгийг олоорой.

А. Өмнө нь

Б. Хойно нь

В. Түрүүнд нь

5. Дараах үгийн утгыг бичээд, өгүүлбэр зохион бичээрэй.

Мануухай-

.....
.....

6. Согоог харж хамгаалж байсан Дондог хүүд захидал бичээрэй.

.....
.....
.....
.....
.....
.....
.....
.....

1. Нэг нь нөгөөгөөсөө нэг зуугаар бага байх хос тоог олоорой.

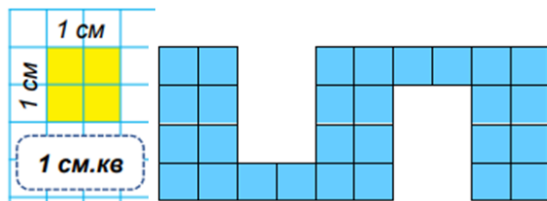
А. 397 ба 407

Б. 428 ба 438

В. 6100 ба 5100

Г. 2683 ба 2783

2. Дүрсийн талбайг см.кв нэгжээр олж зөв хариуг дугуйлаарай.



А. 14 см.кв

Б. 7 см.кв

В. 28 см.кв

Г. 8см.кв

3.



Нэгэн гэр бүлийн хоногт уусан шингэний хэмжээг зурган диаграммаар харуулжээ. Нийт хэдэн аяга шингэн уусан бэ?



А. 14 Б. 20 В. 27 Г. 28

4. $\frac{2}{4}$ - тэй тэнцүү бутархай аль нь вэ?

А. $\frac{2}{8}$

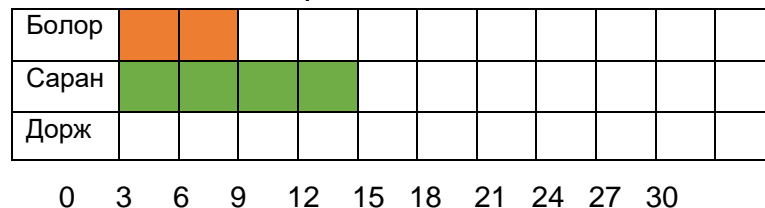
Б. $\frac{4}{8}$

В. $\frac{2}{2}$

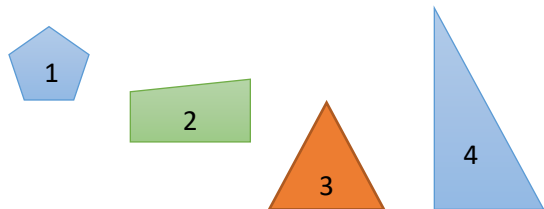
5. А. Сурагчдын бодсон бодлогын тоог хүснэгтэд дүрслэв. Хүснэгтийг ажиглаад гүйцээгээрэй.

Болор		6
Саран		12
Дорж		

Б. Доржийн бодлогыг баганан диаграммаар илэрхийлээрэй



6. Дүрсүүдийг хоёр шинжээр нь ангилж, дугаарыг хүснэгтэд бичээрэй.



	Тэгш хэмтэй	Тэгш хэмгүй
Цэнхэр өнгөтэй		
Цэнхэр өнгөтэй биш		

3-р ангийн “НЭГДМЭЛ ХИЧЭЭЛИЙН ШАЛГАЛТЫН “ ҮНЭЛЭХ АРГАЧЛАЛ

	Даалгаврын тоо	Хувилбар А	Хувилбар Б	Оноо	Аргачлал
Монгол хэл	1	Б	А	1	Зөв хариулт
	2	В	В.	1	Зөв хариулт
	3	А	А	1	Зөв хариулт
	4	Б	Б	1	Зөв хариулт
	5	Ойн дундах модгүй хэсэг газар	Чоныг айлгах хотны манаач	2	Утгыг тайлбарласан-1 оноо Зөв өгүүлбэр зохиох-1 оноо
	6	Захидал бүтэц, гол утга гаргасан эсэх	хэсэгт талархсан	3	Бүтэц тус бүр -1 оноо Алдаа бүрээс -0.2 оноо хасах
Математик	1	Г	Г	1	Зөв хариулт
	2	Б	Б	1	Зөв хариулт
	3	Г	В	1	Зөв хариулт
	4	А	Б	1	Зөв хариулт
	5	Саран- дүрсээр зөв тэмдэглэсэн- 1 оноо Дорж- зөв олсон- 1 оноо баганан диаграмм зөв хийсэн – 1 оноо		3	
	6	Шар тэгш хэмтэй-2 Шар тэгш хэмгүй-4 Шар өнгөтэй биш тэгш хэм-1 Шар өнгөтэй биш тэгш хэмгүй-3	Цэнхэр тэгш хэмтэй-1 Цэнхэр тэгш хэмгүй-4 Цэнхэр өнгөтэй биш тэгш хэм-3 Цэнхэр өнгөтэй биш тэгш хэмгүй-2	2	Хүснэгтэд Зөв нөхсөн тэмдэглэгээ бүр -0.5 оноо