

**БАЯНТҮМЭН СУМЫН ЕБСУРГУУЛИЙН 4 ДҮГЭЭР АНГИЙН СУРАГЧДЫН
АНГИ ДЭВШИХ ШАЛГАЛТЫН СЭДЭВ / нэгдмэл агуулгаар/
ХУГАЦАА 60 МИНУТ**

НИЙТ ОНОО 30

А хувилбар

НЭГДҮГЭЭР ХЭСЭГ: Сонгох даалгавар бүр 1 оноотой.

1. Арван найман бүхэл зууны зургааг зөв бичсэнийг олоорой. /1 оноо/
A. 18.06 B. 18.006 C. 18.6 D. 18.106
2. Дараах 47.05 гэсэн бутархай тоог аравны хэсгээр тоймлоорой. /1оноо/
A. 48.0 B. 47.1 C. 48.10 D. 48.5
3. $\frac{6}{5}$ бутархайг аравтын бутархайгаар илэрхийлээрэй. /1 оноо/
A. 1.20 B. 1.02 C. 1.2 D.12
4. Хаврын өдөр агаарын хэм 5°C байснаас орой -1°C болов. Хэдэн хэмээр буурсан бэ? /1 оноо/
A. 4 B. 5 C. 6 D. 3
5. Тоон шулуун дээр байгаа М цэгт харгалзах тоог олоорой./1 оноо/



- A. 5 B. 1 бүхэл $\frac{1}{2}$ C. $\frac{1}{5}$ D. $\frac{1}{2}$

- 6.Тэнцэтгэл үнэн байлгах тоог олоорой. /1 оноо/

$(\square + 312) \times 7 = 2800$

- A. 88 B. 19912 C. 712 D. 19208

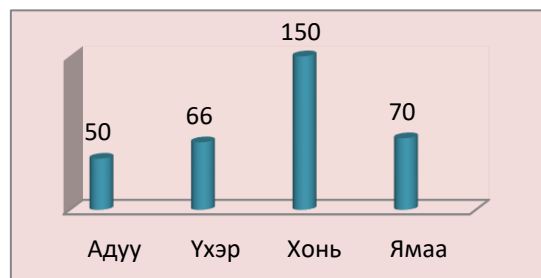
ХОЁРДУГААР ХЭСЭГ: Задгай даалгавар

- 2.1. Хэмжигдэхүүнийг дараах заасан нэгжид шилжүүлээрэй. / 3 оноо/


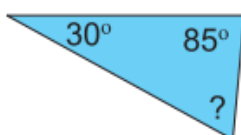
3 хон 6 цагцаг 1т 50кгкг 2 сар 15 хон.....хон

- 2.2. Малчин Доржийн малын тоог багалан диаграммаар харуулав. / 3 оноо/

- A. Малчин Доржийнх нийт хэдэн малтай вэ?
.....
B. Тэдний бог малын тоо хэд вэ?
.....
C. Бог ба бод малын тооны зөрүүг олоорой.
.....



- 2.3 Дараах гурвалжныг нэрлээд мэдэгдэхгүй байгаа өнцгийг олоорой. / 3 оноо/



Хүн ба байгаль:

НЭГДҮГЭЭР ХЭСЭГ: Сонгох даалгавар бүр 1 оноотой.

1. Байгалийн биесийг _____, _____ гэж ангилна. \1оноо\
А. Амьгүй биес В. Амьд биес С. Амьгүй биес, амьд биес.
2. Ургамал амьд бие мөн үү?
А. Мөн В. Биш С. Мэдэхгүй
3. Мөсийг халаахад шингэн төлөвт шилжинэ. \1оноо\
А. хөлдөж В. хайлж С. ууршиж
4. Гэрэл туссан хэсэгт халж байгааг мэдэрнэ. \1оноо\
А. термометр В. температур
5. Бие гэрэл үүсгэгч рүү ойртох тутам сүүдрийн хэмжээ байна \1оноо\
А. ихэснэ. В. Багасна
6. Дараах бодисоос аль нь усанд уусах вэ? \1оноо\
А. мод В. элсэн чихэр С. төмөр

ХОЁРДУГААР ХЭСЭГ: Задгай даалгавар

- 2.1. Дараах өгүүлбэрийг уншаад цэгийн оронд нөхөж бичээрэй. / 3 оноо/
Амьтдыг хоол тэжээлээр идэштэн, идэштэн,
идэштэн гэж ангилдаг.
- 2.2. Амьтдын хөдөлгөөний эрхтнийг зөв харгалзуулаарай. / 3 оноо/
Загас хөл
Шувуу хэвэл
Могой сэлүүр
- 2.3. Монгол орны газрын зургийг ажиглаад асуултанд хариулж бичээрэй. / 3 оноо/



- А. Газрын зураг дээр өндөр уулсыг ямар өнгөөр ялгадаг вэ?
.....
- Б. Манай орны аль хэсгээр гол мөрөн, нуур элбэг байна вэ?
.....
- В. Хамгийн намхан тал газар Монгол орны аль хэсгээр оршиж
байна вэ?.....

Сурагчийн нэр:

**БАЯНТҮМЭН СУМЫН ЕБСУРГУУЛИЙН 4 ДҮГЭЭР АНГИЙН СУРАГЧДЫН
АНГИ ДЭВШИХ ШАЛГАЛТЫН СЭДЭВ / нэгдмэл агуулгаар/
ХУГАЦАА 60 МИНУТ НИЙТ ОНОО 30**

Б хувилбар

НЭГДҮГЭЭР ХЭСЭГ: Сонгох даалгавар бүр 1 оноотой.

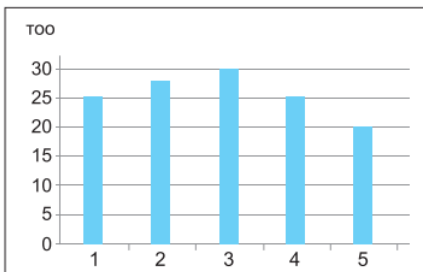
1. Арван таван бүхэл зууны долоог зөв бичсэнийг олоорой. /1 оноо/
A. 15.07 B. 15.007 C. 15.7 D. 15.107
2. Дараах 27.05 гэсэн бутархай тоог аравны хэсгээр тоймлоорой. /1оноо/
A. 27.0 B. 27.1 C. 28.10 D. 28.5
3. $\frac{3}{2}$ бутархайг аравтын бутархайгаар илэрхийлээрэй. /1 оноо/
A. 1.50 B. 1.05 C. 1.5 D.15
4. Хаврын өдөр агаарын хэм 10°C байснаас орой -5°C болов. Хэдэн хэмээр буурсан бэ? /1 оноо/
A.8 B.5 C.10 D.15
5. $96:16 = \square : 4$ пропорцын мэдэгдэхгүй байгаа гишүүнийг олоорой. /1 оноо/
A. 4 B. 24 C. 64 D. 384
6. Хагас литр ундаа хийхэд 3 ширхэг алим ордог бол 18 ширхэг алимаар хэдэн литр ундаа хийх вэ? /1 оноо/
A.6л B.27л C.12л D. 3л

ХОЁРДУГААР ХЭСЭГ: Задгай даалгавар

2.1. Хэмжигдэхүүнийг дараах заасан нэгжид шилжүүлээрэй. / 3 оноо/


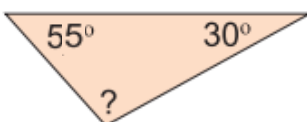
5 хон 6 цагцаг 3т 50кгкг 4 сар 15 хон.....хон

2.2. 1-5 дугаар ангийн сурагчдын тоог баганан диаграммаар үзүүлэв. Диаграммыг ажиглан дараах асуултад хариулаарай. / 3 оноо/



- A. 1-5 дугаар ангийн нийт хэдэн сурагчтай вэ?
- B. Ямар анги хамгийн олон сурагчтай вэ?
- B. Хамгийн их сурагчтай анги, хамгийн бага сурагчтай ангийн зөрөөг олоорой.

2.3. Дараах гурвалжныг нэрлээд мэдэгдэхгүй байгаа өнцгийг олоорой. / 3 оноо/



Хүн ба байгаль:

НЭГДҮГЭЭР ХЭСЭГ: Сонгох даалгавар бүр 1 оноотой.

1. Ургамал орчиндоо юугаараа зохицдог вэ? / 1 оноо/
А. Бүтцээрээ В. Навчаараа С. Өнгөөрөө
2. Аль нь өвөл ичдэг амьтан бэ? / 1 оноо/
А. Туулай В. Тарвага С. Үхэр
3. Амьд биеийн амьдарч буй нутаг орныг гэнэ.
А. Нутаг В. Амьдралын орчин С. Гэр орон
4. Хуруу хэсгийг үе гэнэ . \1оноо\
А. үе В. нугалсан С. үзүүр
5. 10-17 нас ямар нас вэ? / 1 оноо/
А. залуу нас В. Балчир нас С. өсвөр нас
6. Аль нь хүний араг ястай хамт хөдөлгөөн хийдэг.
А. судас В. яс С. Булчин

ХОЁРДУГААР ХЭСЭГ: Задгай даалгавар

2.1. Хүснэгтэд тохирох жишээ тус бүр 3-ыг бичээрэй. / 3 оноо/

Ойд амьдардаг амьтад	Хээр талд амьдардаг амьтад	Говь цөлд амьдардаг амьтад

2.2. Зөв харгалзуулаарай. / 3 оноо/

- | | |
|-----------------|-----------|
| Ногоон ургамал | задлагч |
| Өвсөн тэжээлтэн | бүтээгч |
| Бичил биетэн | хэрэглэгч |

2.3. Нөхөж бичээрэй. / 3 оноо/

Алтайн уулс манай орны хэсгээр оршдог. Нутгийн төв хэсгээр уулс оршино. Манай орны хэсгээр өргөн уудам тал бий.

Сурагчийн нэр:

ДҮГНЭХ ЖУРАМ:

Математик		
Даалгавар	А хувилбар	Б хувилбар
1	A	A
2	B	B
3	C	C
4	C	D
5	D	B
6	A	D
Задгай даалгавар		
2.1	3 хон 6 цаг=78 цаг 1т 50кг= 1050кг 2 сар 15 хоног= 75 хоног	5 хон 6 ц= 126 цаг 3т 50кг = 3050кг 4 сар 15 хоног = 125 хоног
2.2	Нийт малын 330 Бог малын тоо- 220 Бод малын тоо- 116	Нийт сурагчийн тоо-128 Хамгийн их сурагчтай анги- 3р анги Зөрөө 30-20=10
2.3	30+85=115 180-115=65 Тэгш өнцөгт гурвалжин	55+30=85 180-85=95 Тэгш өнцөгт гурвалжин
Хүн ба байгаль		
Даалгавар	А хувилбар	Б хувилбар
1	C	A
2	A	B
3	B	B
4	A	B
5	A	C
6	B	C
Задгай даалгавар		
2.1	Махан идэштэн Өвсөн идэштэн Холимог идэштэн	Баавгай Чоно Тэмээ
2.2	Загас – сэлүүр Шувуу – хөл Могой – хэвэл	Ногоон ургамал- бүтээгч Өвсөн тэжээлтэн – хэрэглэгч Бичил биетэн – задлагч
2.3	Өндөр уулсыг – бор, хүрэн Баруун хэсгээр гол мөрөн элбэг Хамгийн намхан тал газар – зүүн хэсгээр	Алтайн уулс манай орны <u>баруун</u> хэсгээр, нутгийн төв хэсгээр Хангайн <u>уулс</u> оршино. Манай орны <u>зүүн</u> хэсгээр өргөн уудам тал бий.