

ХОЁР: МАТЕМАТИК

7. 27 зуут, 2 аравтаас бүтсэн тоог бичээрэй.

/1 оноо/

--	--	--	--	--

8. Сурагч 500 төгрөгтэй байв. Тэр бүх мөнгөний $\frac{1}{5}$ -ээр нь мөхөөлдөс авч иджээ. Сурагч хэдэн төгрөгөөр мөхөөлдөс авсан бэ?

/1 оноо/

А. 405

Б. 100

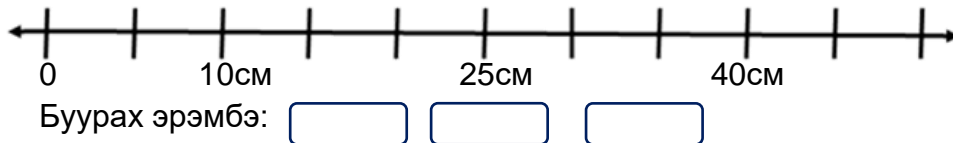
В. 2500

Г. 505

9. Өгөгдсөн хэмжээг тоон шулуун дээр байрлуулан, буурах эрэмбээр бичээрэй.

/2 оноо/

200мм, 30см, 1дм 5см




10. Дараах дүрсээс мохоо өнцөгтэй дүрсийг олж дугуйлаарай.

/1 оноо/



А.



Б.



В.



Г.

11. Дарааллын зүй тогтлыг илрүүлж, дараагийн гишүүнийг олоорой.

/1 оноо/

23, 20, 24, 21, 25, 22,

12. Сурагчдын бодсон бодлогоны тоог дүрслэв. Хүснэгтийг ажиглаад гүйцээгээрэй.

/3оноо/

Болд		8
Саран		12
Дорж		
Мандах		

А. Сарангийн бодсон бодлогоны тоог дүрсэлж зураарай.

Б. Дорж, Мандах хоёрын бодлогоны тоог нөхөж бичээрэй.

В. Дорж, Саран хоёрын бодсон бодлогоны зөрүүг олоорой

ХОЁР. МАТЕМАТИК

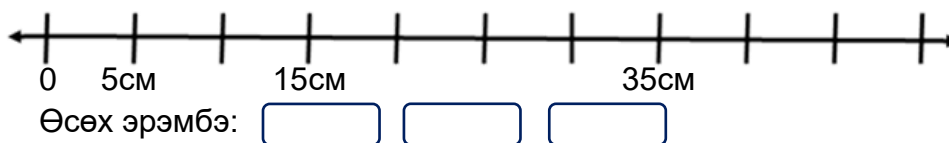
7. 35 зуут, 2 нэгжээс бүтсэн тоог бичээрэй. /1оноо/

--	--	--	--

8. 3-р анги 40 сурагчтай. $\frac{1}{4}$ нь дотуур байранд амьдардаг бол хэдэн сурагч дотуур байранд амьдардаг вэ? /1оноо/

A. 160 B. 36 C. 10 D. 44 . /1оноо/

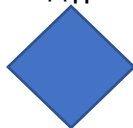
9. Өгөгдсөн хэмжээг тоон шулуун дээр байрлуулан, өсөх эрэмбээр бичээрэй.
300мм, 1дм, 2дм 5см



10. Дараах дүрсээс тэгш өнцөгтэй дүрсийг олж дугуйлаарай.



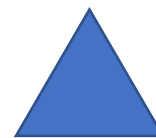
A.



B.



C.



D.

11. Дарааллын зүй тогтлыг илрүүлж, дараагийн гишүүнийг олоорой. /1 оноо/

23, 20, 24, 21, 25, 22,

12. Сурагчдын уншсан номын тоог дүрслэв. Хүснэгтийг ажиглаад гүйцээгээрэй.

Сүлд	■ ■	
Зулаа	■	6
Баяр		15
Сондор	■ ■ ■ ■	

A. Баярын уншсан номын тоог дүрсэлж зураарай.

B. Сүлд, Сондор хоёрын уншсан номын тоог нөхөж бичээрэй.

C. Баяр, Сондор хоёрын зөрүүг олоорой.

