

IV АНГИЙН НЭГДМЭЛ ХИЧЭЭЛИЙН АНГИ ДЭВШИХ  
ШАЛГАЛТЫН СЭДЭВ

АХУВИЛБАР

НЭГ :СОНГОХ ДААЛГАВАРТУС БҮР -1 ОНОО

Нийт оноо -30

1.Гурван зуун бүхэл зууны арван тавыг стандарт хэлбэрээр бичсэнийг олж бичээрэй.

- A. 300.15      B. 310.05      C. 310.050      D.310.50

2.  $2\frac{56}{100} + 5\frac{17}{100} =$  бутархайн утгыг олоорой.

A.  $7\frac{66}{100}$

Б.  $7\frac{63}{100}$

В.  $7\frac{72}{100}$

Г.  $5\frac{73}{100}$

3 Өдөр хичээл 14:10цагт эхэлсэн хичээл 15:10 цагт дуусав. Хичээлийн дундуур 10минут зөвсарласан бол хичээл хэдэн минут үргэлжилсэн бэ?

- A. 40мин      B.50мин      C. 60мин      Г. 1цаг

4. 45см-ийн   1   = .....см байх вэ?

5

- A. 5см      б. 9см      в.50см

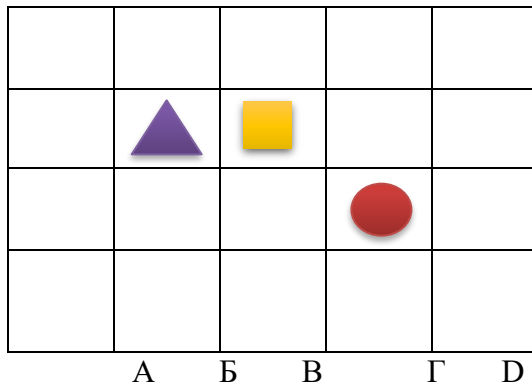
5.      A. 3:1

Б. 5:4

В. 4:3

Г. 4:5

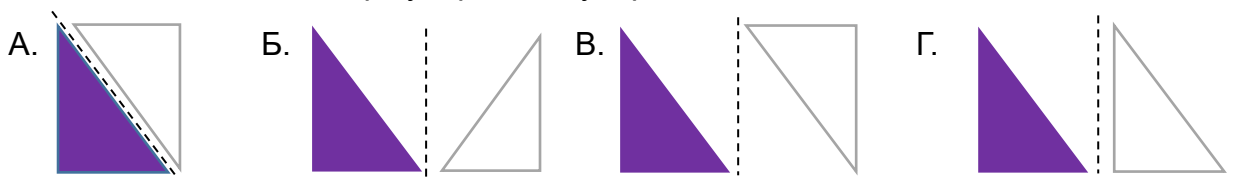
5.  Дүрсийн байршлыг бичээрэй. /1 оноо/



A. (B 3)      Б. (3 B)


В. (Б 3)      Г.(3 Б)

6. Гурвалжныг тэгш хэмтэйгээр хувиргасан хувиргалт аль нь вэ?




Хоёрдугаар хэсэг: Задгай даалгавар

7. Тэгш өнцөгт параллельпипедийн урт 63см өргөн түүнээс 9;дахин бага өндөр 3 см бол тэгш өнцөгтийн эзлэхүүнийг олоорой.      \3оноо\

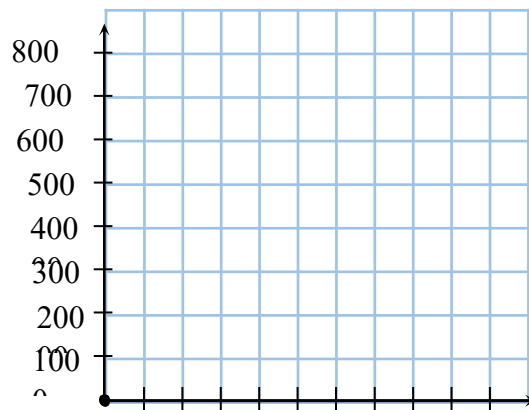


8. Оюутнууд 40тн хүнсний ногоо хураав. Үүний 3\5 хэсэг нь сонгино , үлдсэн хэсэг нь өргөст хэмх бол тэд хэдэн тонн өргөст хэмх хураасан бэ? \Зоноо\



9. Нэгэн байрныхан хог хаягдлаа ангилж, дахивар хаягдлын хэмжээг хүснэгтэд бүртгэв. Дээрх өгөгдлийг багана диаграммаар дүрслээд нийт хэмжээг олоорой.

Хаягдал	Хэмжээ \кг\
Шил	400
Лааз	500
Цаас	700
Нийт	



### ХҮН БАЙГАЛЬ ХИЧЭЭЛИЙН СОНГОХ ДААЛГАВАР-1оноо

10. Тохирох үгийг нөхөж бичээрэй.

Яс нь хүний биеийн ..... болдог байна.

- А. Тулгуур      В. Бүтэц      С. Тогтвортой      Г. Булчин

11. Бие гэрэл үүсгэгч рүү ойртох тутам сүүдрийн хэмжээ хэрхэн өөрчлөгддөг вэ?

- А. Жижгэрдэг      В. Өөрчдөгдөхгүй      С. Томордог      Г. Тодорхой

12. Булчин хүний биеийн жингийн хэдэн хувийг эзэлдэг вэ?

- А. 30-39хувь      В. 40-50хувь      С. 51-59хувь      Д. 60-аас их хувийг

13. Ямар материал цахилгаан дамжуулдаг вэ?

- А. Резин      В. Төмөр      С. Даавуу      Г. Хуванцар

14. Араг яс биеийн тулгуур болохоос гэднэ....., биеийг хөдөлгөх үүрэгтэй.

- А. Дотор эрхтнүүдийг хамгаалах      Б. Хөл дээр зүгсөх  
В. Арьс тогтоодог      Г. Булчин хөнжүүлдэг

15. Хүүхэд ширээн дээрх номыг хэрхэн харж байгаа зарчмыг аль зурагт зөв зурсан байна вэ? Зөвийг сонгоод дугаарыг нь дугуйлаарай. / 1 оноо /



### ЗАДГАЙ ДААЛГАВАР

16. Сээр нурууны ясны зургийг ажиглан асуултын тэмдгийн оронд тохирох нэрийг бичнэ үү? / Зоноо /

урдаас хажуугаа



хүзүү

?

бүсэлхий

?

17. Амьд биеийн идэш тэжээлийг зөв харгалзуулаарай \Зоноо\

1.Сохор номин

1. Мах

2. Чоно

2.Самар

3.Хэрэм

3.Үндэс

18. Цахилгаан дамжуулагч бие 3-ыг бичээрэй. \Зоноо\

1.....

2.....

3.....

**НИЙТ 30 ОНОО**

4а ангийн сурагч .....

**БАТЛАВ**

**ЗАХИРАЛ.....С.ОТГОНГЭРЭЛ**

**IV АНГИЙН НЭГДМЭЛ ХИЧЭЭЛИЙН АНГИ ДЭВШИХ**

**ШАЛГАЛТЫН СЭДЭВ**

Б хувилбар

НЭГ :СОНГОХ ДААЛГАВАР ТУС БҮР- 1 ОНООТой.

1.Дөрвөн зуун бүхэл зууны арван нэгийг ётанларт хэлбэрээр бичсэнийг олоорой.

\1оноо\

- A. 400.01    B.400.11    C.420.11    D. 40.11

2.  $5\frac{20}{100} + 3\frac{17}{100} =$  бутархайн утгыг олоорой. \1оноо\

- A.  $8\frac{36}{100}$                       B.  $8\frac{47}{100}$                       B.  $8\frac{37}{100}$                       Г.  $8\frac{30}{100}$


3. 1 талханд 400гр гурил ордог бол 5 талханд ямар хэмжээтэй гурил орох вэ?

- A. 20гр                      Б. 200гр                      B. 2кг                      Г. 800гр

4.  $\frac{7}{5}$  тн= .....кг байх вэ? \1оноо\

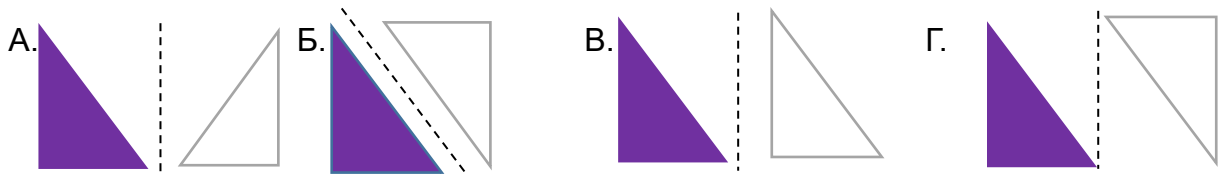
- A. 1200кг    б. 1400кг    в.200кг    г. 1000кг

5.Нарны байршлыг тодорхойлоорой. \1оноо\




- A. B5                      Б. C4                      B. D5                      Г. A5

6. Гурвалжныг тэгш хэмтэйгээр хувиргасан хувиргалт аль нь вэ? 1оноо




**ХОЁРДУГААР ХЭСЭГ: ЗАДГАЙ ДААЛГАВАР**

7. Тэгш өнцөгт параллельпипедийн урт 54см өргөн 9см өндөр нь өргөнөөс 2дахин бага бол тэгш өнцөгтийн эзлэхүүнийг олоорой. \3оноо\

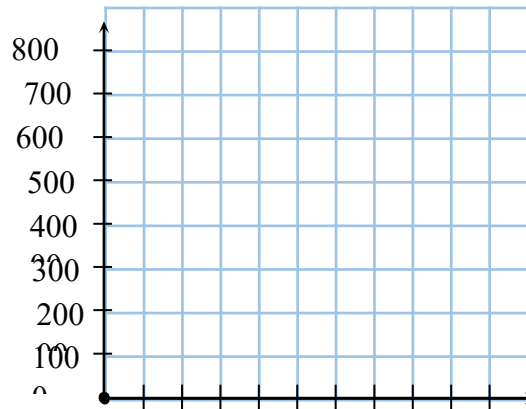


8. Ногоочид 30тн хүнсний ногоо хураав. Үүний 4\5 хэсэг нь байцай, үлдсэн хэсэг нь манжин бол тэд хэдэн тонн манжин хураасан бэ? \3оноо\



9. Нэг сургуулийн 4-р ангийн сурагчид цуглуулсан номынхоо тоог хүснэгтэд бүртгэв. Цуглуулсан номын тоог багалан диаграммаар дүрслээд нийт тоог олоорой.\3оноо\

4-р ангиуд	Цуглуулсан ном
4а	150
4б	500
4в	750
Нийт	



**ХҮНБАЙГАЛЬ ХИЧЭЭЛИЙН СОНГОХ ДААЛГАВАР БҮР - \ 1 оноо \**

10. Хүний гарын араг ясны хэсэгт аль нь хамаардаггүй вэ? \1оноо\

- А. Бугалга      Б. Сарвуу      В. Бугуй      Г. Шуу

11. Аль нь усанд уусдаг вэ? \1оноо\

- А. Гурил      В. Будаа      С. Давс      Г. Бүгд

12. Араг яс биеийн тулгуур болохоос гэднэ. дотор эрхтнүүдийг хамгаалах .....үүрэгтэй. \1оноо\

- А. Арьс тогтоодог      Б. Хөл дээр зүгсөх  
В. Биеийг хөдөлгөх      Г. Булчин хөгжүүлдэг

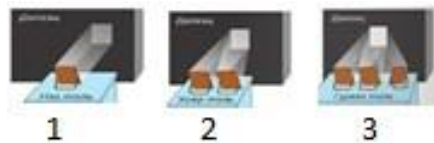
13. Гадаад араг ястай амьтан аль нь вэ?

- А. чоно      В. эмгэн хумс      С. морь      D . муур

14. Байгалийн гэрэл үүсгэгчийг сонгоорой. \1оноо\

- А. лаа      В. чийдэн      С. Нар      Г. проектор

15. Аль тохиолдолд илүү гэрэлтэх вэ?



- А. 2      В. 3      С. 1      D. Аль нь ч биш

**ЗАДГАЙ ДААЛГАВАР**

16. Араг ясны орхигдсон хэсгийг нөхөж бичээрэй. \3оноо\

16





