

4 ДҮГЭЭР АНГИЙН 2023-2024 ОНЫ ХИЧЭЭЛИЙН ЖИЛИЙН НЭГДМЭЛ


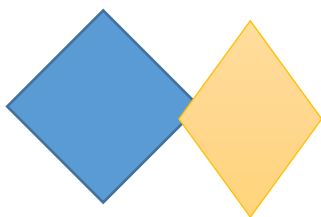
\ МАТЕМАТИК – ХҮН БАЙГАЛЬ \ ШАЛГАЛТЫН ДААЛГАВАР

Сурагчийн нэр:

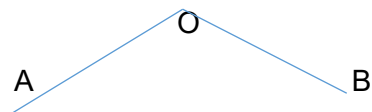
НИЙТ 30 ОНОО

А ХУВИЛБАР

- 240 л сүүний хагасын хагас нь хэдэн литр вэ?
а. 120л б. 180л в. 60л г. 30л
- 257466 гэсэн тоог орны нэмэгдэхүүнээр задлаарай.
а. $2+5+7+4+6+6$ б. $200000+50000+7000+400+60+6$
- Тэгш өнцөгтийн хүрээний уртыг аль томъёогоор олох вэ? \ 1оноо \
A. $a + v \times 2$ B. $(a + v) \times 2$ C. $a \times v + 2$ D. $V=A \times B$
- Ромбын нэг тал нь 17 см бол периметрийг олоорой. (1 оноо)



- Өнцгийг нэрлэж бичсэнээс аль нь зөв бэ? \ 1 оноо \



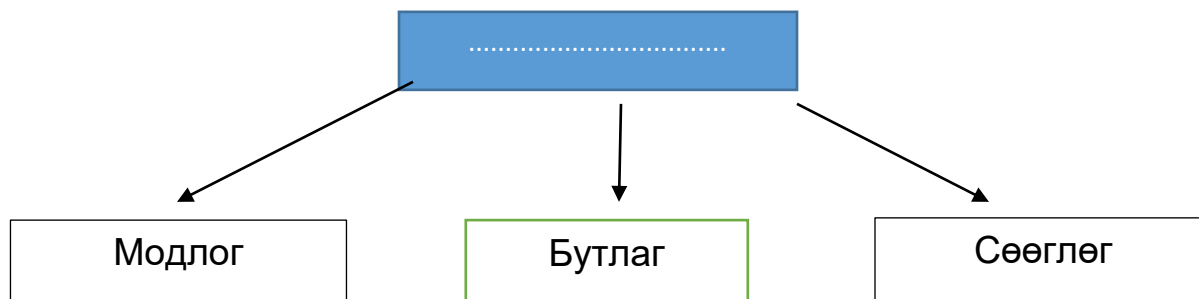
- a. AOB хурц b. BOA тэгш c. AOB мохоо

- Дараах тоонуудын зүй тогтлыг ажиглаад дарааллыг гүйцээх зөв тоог сонгон бичээрэй.\1 оноо \
150000, 180000, 210000,, 270000

- a. 210001 b. 220000 c. 240000 d. 260000

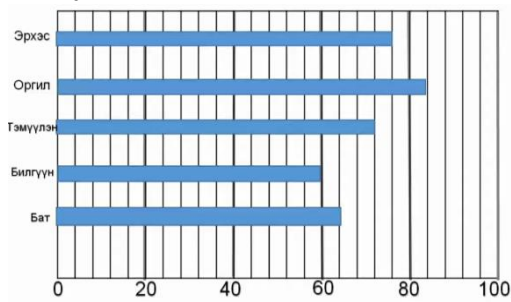
ХҮН БАЙГАЛЬ ХИЧЭЭЛ:

- Хавар болоход ургамалд ямар өөрчлөлт гарах вэ? \ 1оноо \
а. гэснэ. б. соёолно в. хагдарна
- Амьтдыг хоол тэжээлээр нь ангилдаг. Дараах өгөгдлөөс ХАМААРАЛГҮЙ ангиллын нэрийг сонгоно уу? \ 1 оноо \
а. ургамал идэштэн б. холимог идэштэн в. махан идэштэн г. задлагчид
- Цэгийн оронд тохирох утга бүхий үгийг сонгоорой. \ 1 оноо \



- Хийн төлөвөөс шингэн төлөвт шилжих үзэгдлийг гэнэ. \ 1 оноо \
а. уурших б. буцлах в. конденсаци

3.Таван сурагчийн өндрийн харайлтын хэмжээг баганан диаграммаар үзүүлжээ. Асуултад хариулаарай. \3 оноо\



1. Хэн хамгийн өндөрт хэдэн сантиметр харайсан бэ?
.....
2. Тэмүүлэнгийн харайсан өндрийн хэмжээг олоорой.
.....
3. Билгүүн, Бат хоёрын өндрийн харайлтын зөрөө хэд вэ?
.....

ХҮН БАЙГАЛЬ ХИЧЭЭЛ

1.Хүмүүсийн хийдэг эдгээр буруу үйл ажиллагаанаас болж ургамал, амьтанд нөлөөлж буй нөлөөллөөс тус бүр 2-ыг тоочин бичээрэй. \ 3 оноо \



.....

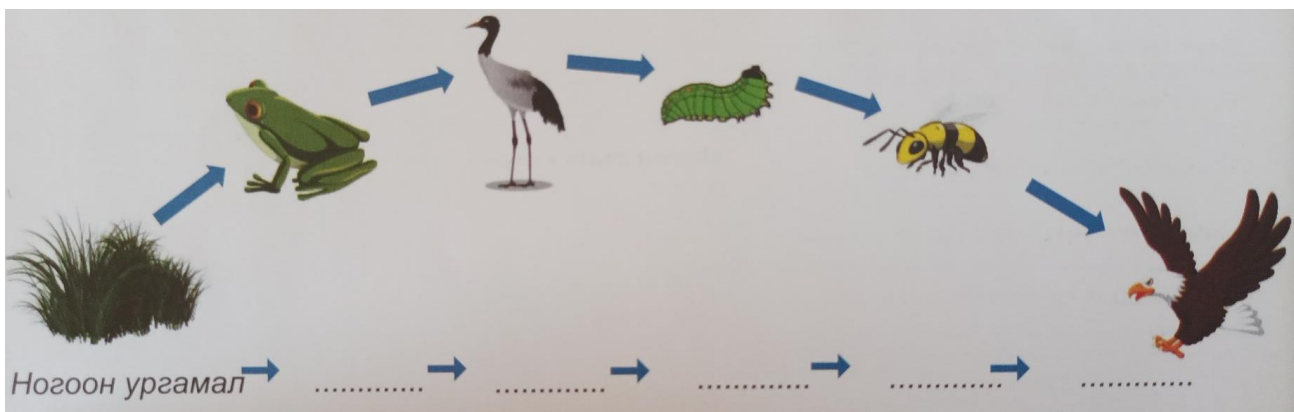
.....

.....

.....


2. Өгөгдсөн амьд биесийг идэш тэжээлийн холбоогоор нь зөв байрлуулсан эсэхийг ажиглаарай. Хэрэв буруу гэж үзвэл идэш тэжээлийн хэлхээг зөв дараалалд оруулж бичээрэй. \ 3 оноо \

\ ногоон ургамал , мэлхий, тогоруу, эрвээхэйн авгалдай, хэдгэнэ, бүргэд \




3. Ус, мөс, усны уурын жижиг хэсгүүдийг зураарай. \ 3 оноо \


Мөс



усны уур



ус



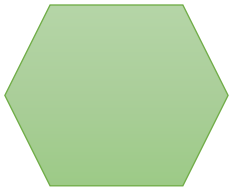
4 ДҮГЭЭР АНГИЙН 2023-2024 ОНЫ ХИЧЭЭЛИЙН ЖИЛИЙН НЭГДМЭЛ


\ МАТЕМАТИК – ХҮН БАЙГАЛЬ \ ШАЛГАЛТЫН ДААЛГАВАР

Сурагчийн нэр:

НИЙТ 30 ОНОО

Б ХУВИЛБАР

- Зуутын орноор зөв тоймлосон хэсгийг олоорой. \ 1 оноо \
а. $74256 \approx 74300$ б. $74256 \approx 74360$ в. $74256 \approx 74000$ г. $74256 \approx 70000$
- 21.57 тооны 7 онцолсон цифр аль орны утгыг илэрхийлж байна вэ? /1 оноо /
А. Бүхэл хэсэг В. Аравны хэсэг С. Зууны хэсэг D. Мянганы хэсэг
- Квадратын тал нь 12см бол талбайн хэмжээ нь хэд вэ? \ 1оноо \
А. 144см.куб В.144 см.кв С. 14,4 см.кв D. 1440см
- Зөв олон өнцөгтийн талын урт 16 см бол периметрийг олоорой. \ 1оноо \




- 37 градусын өнцгийг тэгш өнцөг болгон гүйцээхийн тулд хэдэн градусын өнцөг нэмэх вэ? \1 оноо \
а. 37°C в. 63°C с 53°C d. 60°C
- Наран, Цэцэг, Дулам нар гүйлтийн тэмцээнд оролцов. Наран 72.12 минут, Цэцэг 72.22 минут
Дулам 72 минут гүйсэн бол хэн нь сүүлд орсон бэ?
а. Наран б Хэн ч түрүүлээгүй с Дулам d. Цэцэг

ХҮН БАЙГАЛЬ ХИЧЭЭЛ:

- Махан идэшт амьтдыг сонгоорой. \ 1 оноо \
а. хонь чоно, үнэг , б. үнэг , чоно, туулай в. үнэг, чоно
- Амьд биес нь биеийн онцлог, зан үйлийн хувьд амьдарч буй орчиндоо зохицсон байдаг. Үүнийг амьд биеийн гэнэ. \ 1 оноо \
а. амьдралын орчин б. амьд биеийн дасан зохицол в. идэш тэжээлийн хэлхээ
- Амьд бие махбодын амьдарч буй нутаг орныг гэнэ. \ 1 оноо \
а . амьд биеийн дасан зохицол б. амьдралын орчин в. амьд биеийн харилцан үйлчлэл
- Усны шинж чанарын зөв хариултыг будаарай. \ 1 оноо \


үнэртэй	амтгүй	хэлбэргүй	Тунгалаг биш
тунгалаг	хэлбэртэй	амттай	Үнэргүй

- Усыг буцалгахад нь усны уур болж хувирна. \ 1 оноо \
а. ус б. шингэн в. уур
- Ширээ, сандал, шугам нь тодорхой хэлбэртэй байхад нь хэлбэргүй, савныхаа хэлбэрийг хадгалж байна. \ 1 оноо \
а. уур б. ус в. шингэн г. мөс

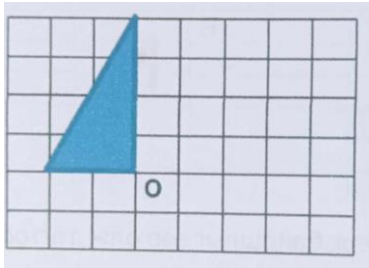
2. ЗАДГАЙ ДААЛГАВАР:

Өгөгдлийг анхааралтай уншаад даалгаврыг зааврын дагуу гүйцэтгээрэй.

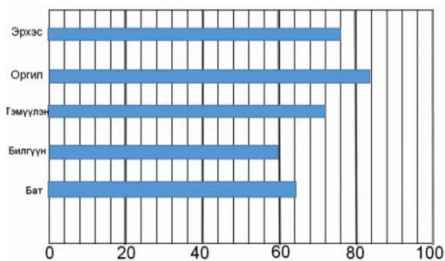
1. $32.5 \text{ км} + 1.5 \text{ км} + 25.34 \text{ км} - 13.57 \text{ км} =$ \ 3 оноо \



2. Өгсөн дүрсийн O оройг тойруулан цагийн зүүний дагуу 90° – аар эргүүлж зураарай. \ 3 оноо \



3. Таван сурагчийн өндрийн харайлтын хэмжээг баганан диаграммаар үзүүлжээ. Асуултад хариулаарай. \ 3 оноо \



1. Хэн хамгийн өндөрт хэдэн сантиметр харайсан бэ?

.....

2. Тэмүүлэнгийн харайсан өндрийн хэмжээг олоорой.

.....

3. Эрхэс, Бат хоёрын харайлтын зөрөөг олоорой.

.....

ХҮН БАЙГАЛЬ ХИЧЭЭЛ

1. Дараах амьтдын нэрийг бичээд амьдралын орчинтой нь зөв холбоорой.

\ 3 оноо \



2. Амьтны шинжийг зохицсон зүйлтэй нь холбоорой.

\ 3 оноо \

Тэмээ хоёр бөхтэй байдаг

модонд дүүлж хоолоо олоход

Тоншуулын хошуу нь хурц үзүүртэй

ус нөөцөлдөг

Тарвага хошхирдог

хоол тэжээлээ олж идэхэд

Сармагчингийн сүүл урт байдаг.

аюул ирэхэд бусдадаа дохио өгөхөд

3.Хатуу, шингэн, хийн байдалтай байгаа зүйлсийн жишээ олж бичээрэй.

\ 3 оноо \



Хатуу		
Шингэн		
Хий		

2024.06.06. НЭГДМЭЛ ШАЛГАЛТЫН ҮНЭЛГЭЭНИЙ ДААЛГАВАР 2-ЫН ХАРИУ

д/д	АБТХ	Танин мэдэхүйн түвшин	авах оноо	зөв хариу		Онооны тайлбар
				А	Б	
1	Тоо тоолол	мэдлэг ойлголт	1	В	А	
2		чадвар	1	Б	С	
3	Хэмжигдэхүүн	мэдлэг ойлголт	1	В	В	
4	Геометр	чадвар	1	68 см	96 см	А хувилбар: $17\text{см} \times 4 = 68\text{ см}$ гаргасан бол 1 оноо Б хувилбар: $16\text{см} \times 6 = 96\text{ см}$ гаргасан бол 1 оноо
5	Өгөдөлтэй ажиллах	чадвар	1	С	Д	
6		мэдлэг ойлголт	1	С	В	
7	Амьдрал	мэдлэг ойлголт	1	Б	Б	
8			1	Г	Б	
9			1	Ургамал	А	
10	Юмс үзэгдэл	мэдлэг ойлголт	1	В	будсан бол 1оноо	2ыг зөв сонголсон бол 1 оноо 1-ийг будсан бол 0 оноо
11		чадвар	1	А	Б	
12		чадвар	1	Б	Б	
13	Хэмжигдэхүүн	чадвар	3	1,6	45,77	үйлдэл тус бүр 1 оноо нийт 3 оноо
14	Геометр	чадвар	3			а. тэгш хэмийн тэнхлэгийн эсрэг талд байрлуулсан бол 3 оноо, алдаатадутуу орхисон бол 1 оноо буруу байрлуулсан бол 0 б. 90 градусаар эргүүлж зурсан бол 3 оноо, дутуу орхисон бол 1 оноо зураагүй буруу зурсан бол 0
15	Өгөгдөлтэй ажиллах	хэрэглээ	3	1.Оргил 84см 2.72см 3.зөрөө 4см	1.Оргил 84 см 2.72см 3. 12см зөрөө	Асуулт тус бүр нэг оноо, аль нэг дутуу бол 2 оноо
16	амьдрал	чадвар	3			а.зөв дараалалд оруулж бичсэн бол 3 оноо, буруу дараалуул, бичээгүй бол 0. б.зөв холбосон бол 3 оноо дутуу бол оноо хасагдана.
17	Амьдрал	чадвар	3			а.Цэгэнд үгийг зөв байрлуулсан бол 3 оноо буруу байрлуулсан үг тутамд 0,5 оноо хасна. б.зөв холбосон бол 3 оноо, буруу буюу холбоогүй бол 0 оноо
18	Юмс үзэгдэл	хэрэглээ	3			а.Зөв зурсан бол 3 оноо буруу зурсан ба зураагүй бол 0 оноо б.жишээ олж гүйцээн бичсэн бол 3 оноо дутуу бичсэн бол 1 оноо хасагдана. бичээгүй бол 0 оноо
	НИЙТ		30			

