

**III АНГИЙН 2024-2025 ОНЫ ХИЧЭЭЛИЙН ЖИЛИЙН
НЭГДМЭЛ ШАЛГАЛТЫН ДААЛГАВАР
А ХУВИЛБАР**

Хугацаа 40 минут.

Бүгд 18 оноо

САНАМЖ: Эхийг анхааралтай уншиж ойлгосны дараа даалгаврыг гүйцэтгээрэй.
Согоон цэцэг

Модон дотор ургадаг ягаан цэцэг хүн, мал ямар ч амьтны цусыг тогтооход хэрэглэдэг эмийн ургамал байжээ. Анх удаа нээгдсэн эмийн ургамлыг “Согоон цэцэг” гэж нэрлэсэн нь гайхалтай.

Дондогийг аавтайгаа ойд явж байтал модны чөлөөнд хоёр чоно согоо барьж байгаад хүний чимээгээр зугтаажээ. Согооны хүзүү, хонго их шархадсан харагдана. Шархтай согоо ойн цоорхойд очиж ягаан цэцэг түүж идэв.

Аав нь явахдаа хоёр мануухай босгож, согоог чоноос хамгаалжээ. Дондогийг согоогоо үзээд ир! гэж аав нь өдөр алгасалгүй явуулна. Арваад хоногийн дараа шархтай согоо эдгэрээд ойн гүн рүү явчихжээ.

1.1. Эхийн үйл явдал ямар улиралд өрнөж байна вэ? / 1 оноо /

- а. намар б. өвөл в. хавар г. зун

1.2. Согоон цэцэг хаана ургадаг вэ? / 1 оноо /

- а. говьд б. модон дотор в. талд

1.3. Дараах өгүүлбэр эхийн ямар хэсэг вэ? / 1 оноо /

Арваад хоногийн дараа шархтай согоо эдгэрээд ойн гүн рүү явчихжээ.

- а. эхлэл хэсэг б. гол хэсэг в. төгсгөл хэсэг

1.4. Дараах үгнээс **юу?** гэсэн асуултанд хариулагдах үгийг олоорой. / 1 оноо /

- а. гашуун б. нисэв в. цэцэг

1.5. Дараах үгэнд / **ын, ийн,** / нөхцөл зөв залган бичээрэй. /2 оноо /

Үхэр -

хонгор -

1.6. Эхийн үйл явдлын зөв дарааллыг дотор бичээрэй. / 3 оноо/

Согоо эдгэрээд ойн гүн рүү явсан.

Хоёр чоно хүний чимээгээр зугтаасан.

Аав нь согоог хамгаалж мануухай босгосон.

МАТЕМАТИКИЙН ДААЛГАВАР:

2.1. Дараах тоог стандарт хэлбэрээр бичсэнийг олоорой. ? /1 оноо /

5 мян 7 зуу 8 нэгж

- а. 5780 б. 5708 в. 5708 г. 5008

2.2. 517 ба 7-ийн үржвэрийг олоорой. /1 оноо

- а. 3619 б. 36019 в. 361 г. 36190

2.3. Аль нь мохоо өнцөг вэ? /1 оноо /

а.



б.



в.




г.






2.4. **2, 5, 7** цифрүүдээр 2 оронтой тоо хэдийг зохиож болох вэ? /1 оноо /

- а. 6 б. 7 в. 8 г. 5

2.5. Тэгш өнцөгт дүрсийн урт 6 см, талбай 24 см кв бол түүний өргөн ба хүрээний уртыг олоорой. / 2 оноо /



2.6. Хүснэгтийг нөхөөрэй / 3 оноо /
 Сурагчдын бодсон бодлогоны тоог дүрслэв. Хүснэгтийг ажиглаад гүйцээгээрэй.

Болор		8
Долгор		12
Болд		
Дэлгэр		

3 ... ангийн сурагч

**III АНГИЙН 2024-2025 ОНЫ ХИЧЭЭЛИЙН ЖИЛИЙН
НЭГДМЭЛ ШАЛГАЛТЫН ДААЛГАВАР
Б ХУВИЛБАР**

Хугацаа 40 минут.

Бүгд 18 оноо

САНАМЖ: Эхийг анхааралтай уншиж ойлгосны дараа даалгаврыг гүйцэтгээрэй. Сонгох даалгавар бүр 1 оноотой.

Согоон цэцэг

Модон дотор ургадаг ягаан цэцэг хүн, мал ямар ч амьтны цусыг тогтооход хэрэглэдэг эмийн ургамал байжээ. Анх удаа нээгдсэн эмийн ургамлыг “Согоон цэцэг” гэж нэрлэсэн нь гайхалтай.

Дондогийг аавтайгаа ойд явж байтал модны чөлөөнд хоёр чоно согоо барьж байгаад хүний чимээгээр зугтаажээ. Согооны хүзүү, хонго их шархадсан харагдана. Шархтай согоо ойн цоорхойд очиж ягаан цэцэг түүж идэв.

Аав нь явахдаа хоёр мануухай босгож, согоог чоноос хамгаалжээ. Дондогийг согоогоо үзээд ир! гэж аав нь өдөр алгасалгүй явуулна. Арваад хоногийн дараа шархтай согоо эдгэрээд ойн гүн рүү явчихжээ.

- 1.1. Эхэд юуны тухай өгүүлсэн байна вэ? / 1 оноо /
а. Чонын тухай б. Аав хүү хоёрын тухай в. шарх эдгээдэг цэцгийн тухай
- 1.2. Согоон цэцгийг юунд хэрэглэдэг вэ? / 1 оноо /
а. шарх эдгээхэд б. гоёл чимэглэлд в. агааржуулахад
- 1.3. Дараах өгүүлбэр эхийн ямар хэсэг вэ? / 1 оноо /
Модон дотор ургадаг ягаан цэцэг хүн, мал ямар ч амьтны цусыг тогтооход хэрэглэдэг эмийн ургамал байжээ.
А. эхлэл хэсэг б. гол хэсэг в. төгсгөл хэсэг.
- 1.4. Дараах үгнээс **юу?** гэсэн асуултанд хариулагдах үгийг олоорой. / 1 оноо /
а. гашуун б. нисэв в. цэцэг
- 1.5. Дараах үгэнд / **ын, ийн,** / нөхцөл зөв залган бичээрэй. /2 оноо /
баатар -
үзвэр -

1.6. Эхийн үйл явдлын зөв дарааллыг дотор бичээрэй. / 3 оноо/

Согоо эдгэрээд ойн гүн рүү явсан.

Хоёр чоно согоог шархдуулсан.

Согоо ойн цоорхойд ягаан цэцэг түүж идсэн.

МАТЕМАТИКИЙН ДААЛГАВАР:

2.1. Дараах тоог стандарт хэлбэрээр бичсэнийг олоорой. ? /1 оноо /

9 мян 3 зуу 8 арав

- а. 9308 б. 9380 в. 9300 г. 9830

2.2. 747 ба 6-ийн үржвэрийг олоорой. /1 оноо /


- а. 4482 б. 4480 в. 448 г. 4082

2.3. Аль нь дэлгэмэл өнцөг вэ? /1 оноо /

а.



б.



в.




г.





2.4. **3, 5, 9** цифрүүдээр 2 оронтой тоо хэдийг зохиож болох вэ? /1 оноо /

- а. 6 б. 7 в. 8 г. 5

2.5. Тэгш өнцөгт дүрсийн өргөн 5 см, талбай 30 см кв бол түүний урт ба хүрээний уртыг олоорой. / 2 оноо /



2.6. Хүснэгтийг нөхөөрэй / 3 оноо /
Хүүхдүүдийн зурсан зургийн тоог дүрслэв. Хүснэгтийг ажиглаад гүйцээгээрэй.

Халиун		6
Дорж		9
Долгор		
Цэцгээ	