

3 ДУГААР АНГИЙН АНГИ ДЭВШИХ МОНГОЛ ХЭЛ, МАТЕМАТИК ХИЧЭЭЛИЙН
НЭГДМЭЛ ШАЛГАЛТЫН СЭДЭВ

ХУГАЦАА: 40 МИН НИЙТ- 18 ОНОО
НЭГ: СОНГОХ ДААЛГАВАР

"А"ХУВИЛБАР

Санамж: 1. Эхийг анхааралтай давтан уншиж ойлгосны дараа даалгаврыг гүйцэтгээрэй.
Сонгох даалгаврын зөвхөн нэг л хувилбарыг сонгоорой. Сонгох хариутай
даалгавар бүр 1 оноотой.

“Тусыг усаар” гэдэг үг хэрхэн үүссэн бэ?

Нэгэн хүн ойд явж байгаад модонд дарагдан үхэх гэж байсан могойн амийг аварчээ.
Гэтэл могой тэр хүнийг хатгаж алах гэж гэнэ.

Хүн:- Чиний ам насыг аварч байхад намайг хатгаж алах гэж байгаа чинь дэндүү шударга бус
байна гэжээ.

Могой: - Чи намайг модонд дарагдаж үхэх аюулаас аварлаа. Олон хоног модонд
дарагдаад өлсөж үхэх гэж байна. Тэгэхээр нэгэнт аварч байгаа юм бол гүйцэд авар гэжээ.

Ингээд хоёулаа маргалдаад шүүгч дээр очжээ. Шүүгч тэдний маргааныг сонсоод “Би
сайн ойлгосонгүй. Тэр газар чинь очье” гэжээ.

Ийнхүү гурвуул ойд очоод шүүгч, “Могой, чи хаана байсан юм бэ?” гэхэд могой анх модонд
дарагдсан газраа очоод хэвтээд өглөө гэнэ. Гэтэл шүүгч хүнд хандаж “Тэгээд мод хаана байсан
юм бэ?” гэхэд хүн модыг өргөн могойн дээр тавьжээ.

Шүүгч: “Хүн та цааш явж ажил, амьдралаа бод, могой чи хүний тусыг усаар хариулав” гэж
хэлснээр “Тусыг усаар” гэдэг үг үүсчээ.

1.Эхэд ямар, ямар дүр гарсан бэ? \1 оноо\

- А. Хүн, могой, мод Б. Хүн , могой, ой
В. Хүн, могой, шүүгч Г. Хүн, мод, ой

2. Могойн амийг хэн аварсан бэ? \1 оноо\

- А. Хүн Б. Шүүгч В. Могой

3. Могойн зан чанарыг илэрхийлэх үгийг сонгоорой. \1 оноо\

- А.шудрага Б. онгиороо В.Тус мэдэдгүй Г. ихэмсэг

4. Шүүгч яагаад “Би сайн ойлгосонгүй. Тэр газар чинь очье.” гэж хэлсэн бэ?

\1 оноо\

- А. Шүүгч түүний хэлсэн үгийг ойлгоогүй учраас
Б. Шүүгч хүний хэлсэн үгэнд итгээгүй учраас
В. Шүүгч могойн хэлсэн үгэнд итгээгүй учраас
Г. Могойд сургамж өгөх гэж

5. Шударга гэсэн үгийн ойролцоо утгатай үгийг олж бичээд, өгүүлбэр зохиогоорой. \2 оноо\

.....
.....
.....

6. Дээрх эхийг уншаад ямар сэтгэгдэл төрсөн бэ? \3 оноо\

.....
.....
.....
.....

МАТЕМАТИК: Нэг Сонгох даалгавар тус бүр 1 оноотой

7. 8999 гэсэн тоог мянгатаар зөв тоймлосон нь аль вэ?

- A. 90000 Б. 9000 В.900 Г.8000

8. Цахилгаан барааны үнэ 8500 төгрөг байв. Наадмаар 8330 төгрөг болж хямдарсан бол хэдэн төгрөгөөр хямдарсан бэ?

- A. 70 төг Б. 170 төг В.100төг Г.30төг

9. Өгөгдсөн дүрсээс биетийг олоорой. 1 оноотой.

A.



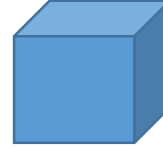
B.







C.







D.







10.Амьтадын тоог хавтангаар зөв дүрсэлсэн нь аль нь вэ?

			
3	5	4	4





A.

6				
5				
4	Yellow			Orange
3	Yellow	Blue		Orange
2	Yellow	Blue	Green	Orange
1	Yellow	Blue	Green	Orange
0	Yellow	Blue	Green	Orange
				

Б.

6				
5				
4				
3				
2				
1				
0				
				

В.

6				
5	Yellow			
4	Yellow			Orange
3	Yellow		Green	Orange
2	Yellow	Blue	Green	Orange
1	Yellow	Blue	Green	Orange
0	Yellow	Blue	Green	Orange
				

ХОЁР: ЗАДГАЙ ДААЛГАВАР


11. Хэмжээг их нэгжээр тоймлоорой. /2оноо/

3 л 594 мл, =

4 л 078 мл=

12. /3 оноо/

- Хүүхдүүд ямар зайрмагт дуртайг зурган диаграммаар харуулжээ.  = 2 зайрмаг



Зайрмагны нэр	Бүртгэл / зураасаар багцлан бүртгэх, 5 зураас нь 1 багц болно. /	Зайрмагны нийт тоо тус бүрийг бичих

3 ДУГААР АНГИЙН АНГИ ДЭВШИХ МОНГОЛ ХЭЛ, МАТЕМАТИК ХИЧЭЭЛИЙН
НЭГДМЭЛ ШАЛГАЛТЫН СЭДЭВ

ХУГАЦАА: 40 МИН НИЙТ- 18 ОНОО
НЭГ: СОНГОХ ДААЛГАВАР

”Б”ХУВИЛБАР

Санамж: 1. Эхийг анхааралтай давтан уншиж ойлгосны дараа даалгаврыг гүйцэтгээрэй.

Сонгох даалгаврын зөвхөн нэг л хувилбарыг сонгоорой. Сонгох хариутай даалгавар бүр 1 оноотой.

ЭЭЖИЙГ УЙЛУУЛСАН ЧИХЭР

Халиун талх авахаар хүнсний дэлгүүр ороход тэндхийн сайхан амттай чихэр, шоколад нүдэнд туслаа. Ээжийнх нь өгсөн мөнгө яг л талхаа аваад таарна. Амттанг хараад идмээр санагдаад, хорхой хүрээд болдоггүй ээ. Тэсэлгүй нэг жижиг ууттай чихэр аваад халаасандаа хийчихлээ. Тэгээд талхныхаа мөнгийг төлөөд гарах гэтэл: Дэлгүүрийн хамгаалагч “Намайг дагана уу” гэсээр Халиуныг нэг жижиг өрөөнд дагуулж ороод түүний чихэр аваад халаасандаа хийж байгаа бичлэгийг нь үзүүллээ. Тун удалгүй Халиуны ээж дуудагдан ирэв. Ээж нь түүний авсан чихрийн мөнгийг төлж дэлгүүрийн ах, эгч нараас уучлалт гуйлаа. Буцах замдаа ээж нь Халиунд чихэр, жимс худалдан авч өгөөд:

- Бусдын юмыг зөвшөөрөлгүй авдаг хүнийг хулгайч гэдэг юм. Миний охин юу хийснээ сайн эргэцүүлэн бодоорой гээд нулимсаа арчив.

1. Халиунд ээж нь юуны мөнгө өгсөн бэ? /1 оноо /

- А. чихрийн мөнгө
- Б. дуртай зүйлээ авах мөнгө
- В. талхны мөнгө

2. Халиун яаж чихэр авсан бэ? /1 оноо/

- А. Талхныхаа мөнгөөр авсан.
- Б. Мөнгө төлөхгүй нууцаар авсан.
- В. Дэлгүүрийн хамгаалагчаас гуйж авсан.

3. Охины хийсэн үйлдэлд дүгнэлт хийж зөвийг сонгоорой \1 оноо\

- А.шудрага
- Б. хүслээ хорьж чадаагүй
- В. сайн үйл
- Г.бүгд зөв

4. Дэлгүүрийн хамгаалагч яагаад Халиуныг нэг жижиг өрөөнд дагуулж орсон бэ? /1 оноо/

- А.Охиноос асуулт асуух гэж
- Б.Охиныг зэмлэх гэж
- В. Охинд зөвлөгөө өгөх гэж
- Г. Охины хийсэн үйлдлийг ойлгуулах гэж

5. “Нүд үзүүрлэх ” гэсэн хэлц үгийн утгыг илэрхийлэх өгүүлбэр зохиож бичээрэй \2 оноо\

.....

.....

.....

6. Дээрх эхийг уншаад ямар сэтгэгдэл төрсөн бэ? \3 оноо\

.....

.....

.....

.....

МАТЕМАТИК: Нэг Сонгох даалгавар тус бүр 1 оноотой

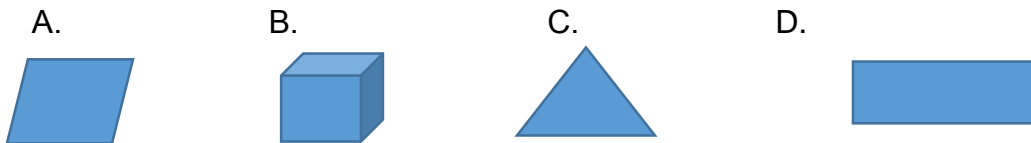
7. 9999 гэсэн тоог мянгатаар зөв тоймлосон нь аль вэ?

- А. 100000
- Б. 10000
- В.100
- Г.1000

8. Сурагч Төгөлдөр дэлгүүрээс 4550 төгрөгөөр ном, 2880 төгрөгөөр үзэгний сав худалдан авчээ. Тэр нийт хэдэн төгрөг төлсөн бэ?

- А. 7430
- Б. 7330
- В. 6430
- Г. 6330

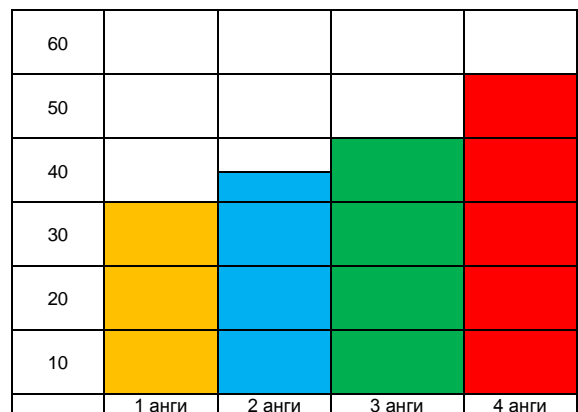
9. Өгөгдсөн дүрсээс биетийг олоорой. 1 оноотой.



10.Сурагчдын тоог баганан диаграммаар зөв дүрсэлсэн нь аль нь вэ?

Анги	Сурагчдын тоо
1	35
2	40
3	45
4	55

Б



3 АНГИЙН НЭГДМЭЛ ШАЛГАЛТЫН СЭДВИЙН ТҮЛХҮҮР

Даалгаврын дугаар	Даалгаврын хэлбэр	Танин мэдэхүйн түвшин	Оноо	Зөв хариулт		Онооны тайлбар
				А хувилбар	Б.хувилбар	
1	Унших	Мэдлэг ойлголт	1	В	В	Зөв хариулт тус бүр 1 оноо
2	Унших	Мэдлэг ойлголт	1	А	Б	Зөв хариулт тус бүр 1 оноо
3	Унших	чадвар	1	В	Б	Зөв хариулт тус бүр 1 оноо
4	Хэлзүй	чадвар	1	Г	Г	Зөв хариулт тус бүр 1 оноо
5	Бичих	чадвар	2	ҮНЭНЧ, ХУДАЛ, ХУУРМАГТАЙ ЭВЛЭРДЭГГҮЙ	Ад үзэх, гадуурхах	Хариултыг зөв тодорхойлсон бол 1 оноо
6	Бичих	хэрэглээ	3	Гурван өгүүлбэрээр илэрхийлэх.	Гурван өгүүлбэрээр илэрхийлэх.	Ямар сургамжтай сэтгэгдэл төрснөө илэрхийлсэн өгүүлбэр тус бүр 1 оноо, Санаагаа хагас гаргасан бол 0.5 оноо, огт гаргаж чадаагүй бол 0 оноо
7	Тоо тоолол	Мэдлэг ойлголт	1	Б	Б	Зөв хариулт тус бүр 1 оноо
8	Тоо тоолол	чадвар	1	Б	А	Зөв хариулт тус бүр 1 оноо
9	Геометр	Мэдлэг ойлголт	1	Д	В	Зөв хариулт тус бүр 1 оноо
10	Өгөгдөлтэй ажиллах	Мэдлэг ойлголт	1	Б	Б	Зөв хариулт тус бүр 1 оноо
11	Хэмжигдэхүүн	хэрэглээ	2	Б. 3л594мл≈ 4л 4л078мл ≈ 4л	3см 8мм =4см	Зөв тоймлосон тоо тус бүр 1 оноо
12	Өгөгдөлтэй ажиллах	чадвар	3	ШОКОЛАДТАЙ- //// / 6 Цөцгийтэй – //// /// 8 Аарцтай – //// // 7, жимстэй- /// 3	Амьтадын нэрийг зөв олсон бол 1 оноо Зураасаар зөв багцалсан бол 1 оноо Амьтны давтамжийн тоог зөв олсон бол 1 оноо	Зураасыг 5,5 аар нь багцлана. Нийт тоог цифрээр тэмдэглэнэ.