

ҮНЭЛГЭЭНИЙ ДААЛГАВРЫН ХАРИУ, ҮНЭЛЭХ СХЕМ

№	Суралцахуйн зорилт	Танин мэдэхүйн түвшин	Зөв хариулт А	Зөв хариулт Б	Оноо	Онооны тайлбар
МОНГОЛ ХЭЛ						
СОНГОХ ДААЛГАВАР						
1	Сурагч эхийн утгыг ойлгож, зөв хурдан уншаад, уншсан зүйлээ тоочиж, тайлбарлаж, ялгаж чаддаг болно.	Мэдлэг ойлголт	Б	А,В	1	Зөв хариултын сонгосон бол 1 оноо
2	Сурагч эхийн утгыг ойлгож, зөв хурдан уншаад, уншсан зүйлээ тоочиж, тайлбарлаж, ялгаж чаддаг болно.	Мэдлэг ойлголт	Б	В	1	Зөв хариултын сонгосон бол 1 оноо
3	Сурагч эхийн утгыг ойлгож, зөв хурдан уншаад, уншсан зүйлээ тоочиж, тайлбарлаж, ялгаж чаддаг болно.	Чадвар	В	В	1	Зөв хариултын сонгосон бол 1 оноо
4	Сурагч эхийн утгыг ойлгож, зөв хурдан уншаад, уншсан зүйлээ тоочиж, тайлбарлаж, ялгаж чаддаг болно.	Чадвар	Б	Б	1	Зөв хариултын сонгосон бол 1 оноо
ЗАДГАЙ ДААЛГАВАР						
5	Сурагч өгөгдсөн бүтэц, зааврын дагуу эх зохиож, найруулан бичиж чаддаг болсон байна. /үлгэр, ертөнцийн гурав, захидал, төлөвлөгөө, номын тэмдэглэл, зохиолын талаарх сэтгэгдэл/	Чадвар	Цагаан морио Гурван одыг	Цагаан анчин Гурван одыг	2	Зөв нөхөж бичсэн үг тус бүр 1 оноо
6	Сурагч өгөгдсөн бүтэц, зааврын дагуу эх зохиож, найруулан бичиж чаддаг болсон байна. /үлгэр, ертөнцийн гурав, захидал, төлөвлөгөө, номын тэмдэглэл, зохиолын талаарх сэтгэгдэл/	Хэрэглээ	35-40 үгэнд багтаан мереэдлөө бичсэн байна.	35-40 үгэнд багтаан талархлын захидал бичсэн байна.	3	Эхлэл, гол, төгсгөл хэсэг тус бүр 1 оноо. Хэсэг тус бүрт илэрхийлэх тулгуур үг байна. /Мэндчилгээний үг, талархсан утгатай үг, хэн бичсэн гэх мэт/

МАТЕМАТИК**СОНГОХ ДААЛГАВАР**

7	3.1а. Сурагч арван мянга хүртэлх тоог унших, бичих, жиших, тоймлох	Мэдлэг ойлголт	Г	В	1	Зөв хариултын сонгосон бол 1 оноо
8	3.1ж. Тоон илэрхийлэл, үйлдлийн гишүүдийн хамаарал, чанарыг хэрэглэн илэрхийлэл, тоон тэнцэтгэл, тэнцэтгэл биш бодох, зохиох, асуудал шийдвэрлэх	Мэдлэг ойлголт	А	Б	1	Зөв хариултын сонгосон бол 1 оноо
9	3.3а. Харилцан эгц, зэрэгцээ шулуун, тэгш, мохоо, хурц өнцгийг таних, олон өнцөгт дүрсийг ялган нэрлэх, зурах, бүтээл хийх, тэгш хэмтэй дүрсийн тэгш хэмийн тэнхлэгийг тодорхойлох	Мэдлэг ойлголт	Г	Г	1	Зөв хариултын сонгосон бол 1 оноо
10	3.2б. Урт, хүндийг хэмжих тохирох нэгжээр илэрхийлэх, хэмжээг жиших, баримжаалах, нэг нэгжийг нөгөө нэгжээр илэрхийлэх, дүрсийн хүрээний уртыг олох	Чадвар	А	С	1	Зөв хариултын сонгосон бол 1 оноо

ЗАДГАЙ ДААЛГАВАР

11	3.3в. Орчны байршил, хүрэх зам, чиглэлийг тодорхойлж, шилжүүлэх	Чадвар	3 амьтныг тус бүр зөв зурсан байна.	3 амьтныг тус бүр зөв зурсан байна.	3	Амьтан тус бүрийн байршлыг зөв хийсэн бол 1 оноо, нийт 3 оноо
12	3.2б. Тохирох хэрэгсэл, хэмжих нэгжийг /мм, см, дм, м, км, г, кг, ц, т, мл, л/ сонгон урт, хүнд, эзэлхүүнийг /шингэний хэмжээ, савны багтаамж/ хэмжих хэрэгслийн хуваарийн утгыг тайлбарлах, нэг нэгжийг нөгөө нэгжээр илэрхийлэх, дүрсийн хүрээний уртыг олох	Хэрэглээ	1670 мл, 3кг 500г	2304мл, 2кг 900г	2	Зөв шилжүүлсэн бол 1 оноо

МАТЕМАТИКИЙН АГУУЛГА

НЭГ. СОНГОХ ДААЛГАВАР

САНАМЖ: Анхааралтай уншиж ойлгосны дараа даалгаврыг гүйцэтгээрэй. Сонгох даалгавар бүр 1 оноотой.

1. Дараах тооны стандарт бичлэг аль нь вэ? **Есөн мянга долоон зуун гурав**

- а. 9003 б. 9700 в. 9730 г. 9703

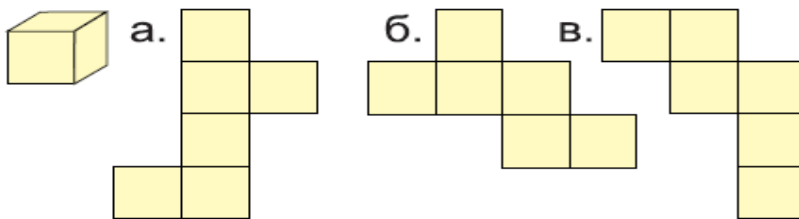
2. Дараах илэрхийллийн утгыг олоорой. $2517 : 3 + 8527$ /1 оноо/

- А. 9366 Б. 9356 В. 8366 Г. 9266

3. Мохоо өнцөгт гурвалжин хэдэн хурц өнцөгтэй вэ? /1 оноо/




- А. 1 Б. 2 В. 3 Г. хурц өнцөггүй

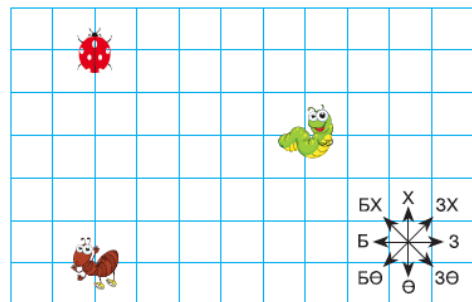
4. Аль нь кубын дэлгээс болох вэ? /1 оноо/



ХОЁР. ЗАДГАЙ ДААЛГАВАР

5. Амьтдын аль чиглэлд хэдэн нүдний дагуу явсныг хүснэгтэд харуулав. Тэдний явсан замыг зураарай. /3 оноо/

	2 →	1 ↓	2 →	3 →
	2 ←	2 ↓	1 ↗	2 ←
	3 →	2 ↑	2 ↘	2 →



6. Заасан нэгжид шилжүүлээрэй. /2 оноо/

1л 670мл = мл

3500г = кг г

МАТЕМАТИКИЙН АГУУЛГА

НЭГ. СОНГОХ ДААЛГАВАР

САНАМЖ: Анхааралтай уншиж ойлгосны дараа даалгаврыг гүйцэтгээрэй. Сонгох даалгавар бүр 1 оноотой.

1. Дараах тооны стандарт бичлэг аль нь вэ? **Зургаан мянга арван долоо**

- а. 617 б. 6007 в. 6017 г. 6107

2. Дараах илэрхийллийн утгыг олоорой. $6705 - 68 \times 5$ **/1 оноо/**

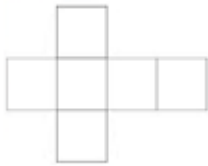
- А. 6265 Б. 5365 В. 6365 Г. 6366

3. Тэгш өнцөгт гурвалжин хэдэн хурц өнцөгтэй вэ? **/1 оноо/**

- А. 1 Б. 2 В. 3 Г. хурц өнцөггүй

4. Дараах дэлгээсүүдийн аль нь тэгш өнцөгт параллелипипедийн дэлгээс вэ? **/1 оноо/**

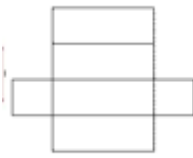
А.



В.



С.






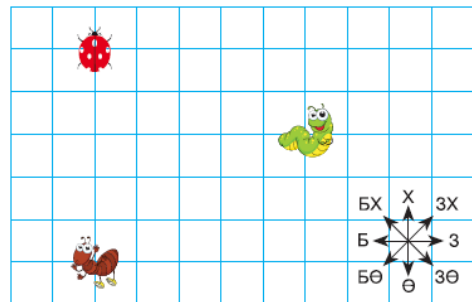
Д.



ХОЁР. ЗАДГАЙ ДААЛГАВАР

5. Амьтдын аль чиглэлд хэдэн нүдний дагуу явсныг хүснэгтэд харуулав. Тэдний явсан замыг зураарай. **/3 оноо/**

	2 →	1 ↓	2 →	3 →
	2 ←	2 ↓	1 ↗	2 ←
	3 →	2 ↑	2 ↘	2 →



6. Заасан нэгжид шилжүүлээрэй. /2 оноо /

2л 304мл = мл

2900г = кг г

