

ДОРНОД АЙМГИЙН ХАЛХГОЛ ЕБС-ИЙН 4 ДҮГЭЭР АНГИЙН “МАТЕМАТИК” ХИЧЭЭЛИЙН
АНГИ ДЭВШИХ ШАЛГАЛТЫН ДААЛГАВАР

А хувилбар

Сурагчийн нэр.....

40 минут

СОНГОХ ДААЛГАВАР:

1. Нэг зуун далан таван мянга хоёр зуун дөрвийг цифрээр бичээрэй. \1 оноо\

- A. 74240 Б. 75204 В. 174204 Г. 175204

2. $\square < -5$ гэсэн тэнцэтгэл бишид тохирох сөрөг тоог олоорой. \1 оноо\

- A. -2 Б. 6 В. -7 Г. -4

3. Аль жагсаалт нь буурах эрэмбээр бичигдсэн байна вэ? \1оноо\

A. 1.125, 1.152, 2.125, 2.152

Б. 1.152, 1.125, 2.125, 2.152

В. 2.152, 2.125, 1.152, 1.125

4. Хичээл 9 цаг 30 минутад эхлээд 10 цаг 10 минутад дууссан бол хичээл хэдэн минут үргэлжилсэн бэ?

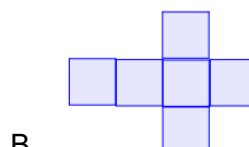

- A. 35 минут Б. 45 минут В. 40 минут Г. 30 минут \1 оноо\

5. План зургийн таних тэмдгийг нэрлэнэ үү? | 1 оноо |

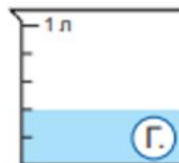
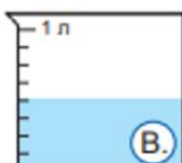
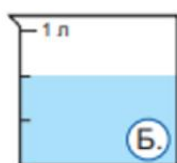
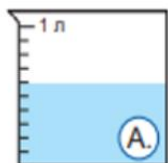


- A. Орон сууцны барилга Б. Сургууль В. Зүлэг Г. Хөл бөмбөгийн талбай

6. Аль нь цилиндрийн дэлгээс вэ? \1 оноо\



7. $\frac{2}{5}$ л аль саванд байгаа усны хэмжээ вэ? \1 оноо\



ДОРНОД АЙМГИЙН ХАЛХГОЛ ЕБС-ИЙН 4 ДҮГЭЭР АНГИЙН “МАТЕМАТИК” ХИЧЭЭЛИЙН
АНГИ ДЭВШИХ ШАЛГАЛТЫН ДААЛГАВАР

Б хувилбар

Сурагчийн нэр.....

40 минут

СОНГОХ ДААЛГАВАР:

1. Хоёр зуун далан таван мянга хоёр зуун дөрвийг цифрээр бичээрэй.

\1оноо\

А. 242740 Б. 275204 В. 274204 Г. 175204

2. $\square < -8$ гэсэн тэнцэтгэл бишид тохирох сөрөг тоог олоорой.

\1оноо\

А. -9 Б. 6 В. -7 Г. 4

3. Аль жагсаалт нь өсөх эрэмбээр бичигдсэн байна вэ? \1оноо\

А. 1.125, 1.152, 2.125, 2.152

Б. 1.152, 1.125, 2.125, 2.152

В. 2.152, 2.125, 1.152, 1.125

4. Хичээл 8 цаг 40 минутад эхлээд 9 цаг 20 минутад дууссан бол хичээл хэдэн минут үргэлжилсэн бэ?

А. 35 минут Б. 45 минут В. 40 минут Г. 30 минут \1оноо\

5. План зургийн таних тэмдгийг нэрлэнэ үү? \1оноо\



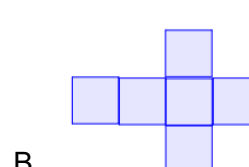

А. Орон сууцны барилга

В. Сургууль

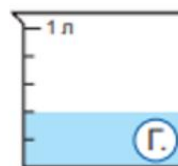
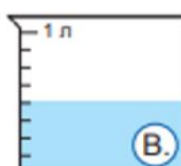
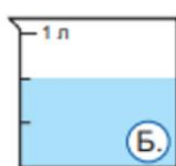
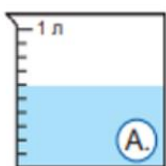
Б. Зүлэг

Г. Хөл бөмбөгийн талбай

6. Аль нь кубын дэлгээс вэ? \1оноо\



7. $\frac{4}{8}$ л аль саванд байгаа усны хэмжээ вэ? \1оноо\



8. Тохирох нэгжээр илэрхийлээрэй. \1оноо\

СОНГОХ ДААЛГАВАР:

1. Нэг зуун гучин зургаан мянга дөрвөн зуун нэг цифрээр бичээрэй. \1оноо\

- A. 36410 Б. 146401 В. 136401 Г. 135204

2. $-5 < \square$ гэсэн тэнцэтгэл бишид тохирох сөрөг тоог олоорой. \1оноо\

- A. -9 Б. 6 В. -7 Г. -4

3. Аль жагсаалт нь өсөх эрэмбээр бичигдсэн байна вэ? \1оноо\

A. 1.125, 1.152, 2.125, 2.152

Б. 1.152, 1.125, 2.125, 2.152

В. 2.152, 2.125, 1.152, 1.125

4. Хичээл 7 цаг 50 минутад эхлээд 8 цаг 20 минутад дууссан бол хичээл хэдэн минут үргэлжилсэн бэ?

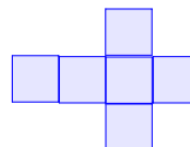


- A. 30 минут Б. 45 минут В. 40 минут Г. 50 минут \1оноо\

5. План зургийн таних тэмдгийг нэрлэнэ үү? | 1 оноо |



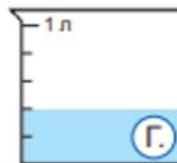
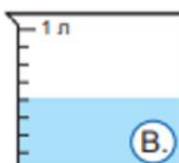
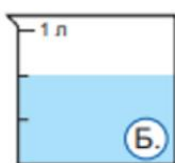
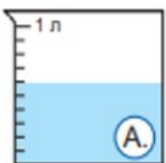
- A. Мод В. Сургууль Б. Зүлэг Г. Хашаа \1оноо\

6. Аль нь параллелепипед дэлгээс вэ? \1оноо\



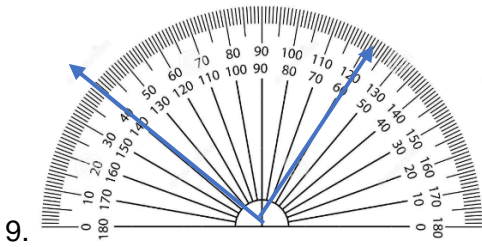
- A. Б. В.

7. $\frac{2}{3}$ л аль саванд байгаа усны хэмжээ вэ? \1оноо\



8. Тохирох нэгжээр илэрхийлээрэй. \1оноо\

- $\frac{4}{6}$ хоногцаг A. 16 цаг Б. 9 цаг В. 12 цаг Г. 8 цаг



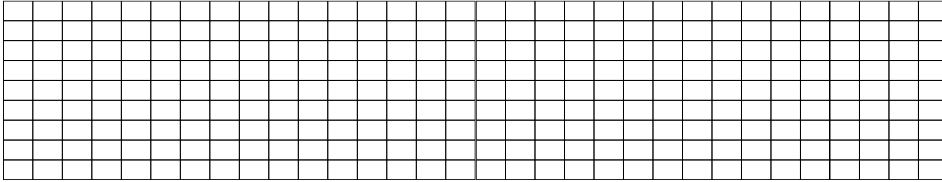
9. A. 60 Б. 70 В. 90 Г. 80 \1 оноо\

10. 4,2,0,6 цифрүүдээр хамгийн бага дөрвөн оронтой тэгш тоо зохиогоорой.

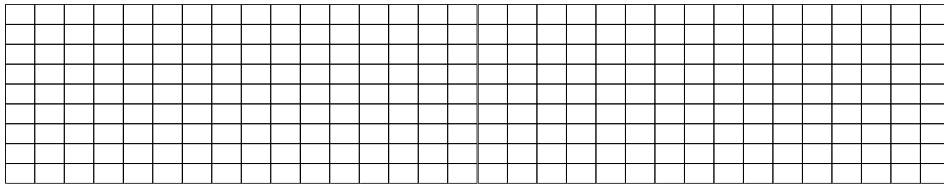
A. 4026 Б. 0426 В. 2046 Г. 0246

ЗАДГАЙ ДААЛГАВАР

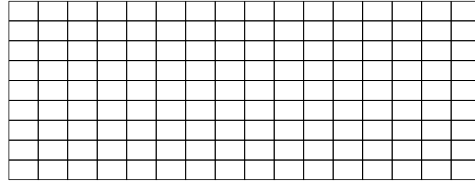
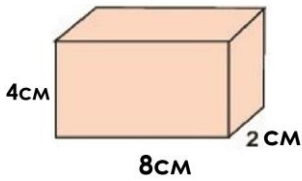
1. 4а анги 36 сурагчтай. Нийт сурагчдын $\frac{3}{6}$ нь англи хэл, $\frac{1}{4}$ нь япон хэл сонгон сурагцдаг бол нийт хэдэн сурагч гадаад хэл сонгон суралцдаг вэ? \3 оноо\




2. Үл мэдэгдэх тоог олоорой. \2 оноо\ $\frac{13}{30} + \frac{\square}{\square} = \frac{17}{30}$ $\frac{20}{45} - \frac{\square}{\square} = \frac{7}{45}$



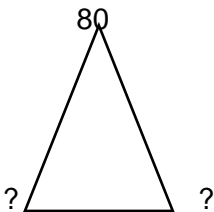
3. Дараах параллелепипедийн эзэлхүүний хэмжээг олоорой. \3 оноо \



4. 4 охин 4 хүү хосоороо бүжиглэх боломжийг тооцоолоорой. Модны аргаар эсвэл хялбар аргаар бодоорой. \3 оноо\



5. Адил хажуут гурвалжингийн нэг өнцөг нь 80 бол нөгөө хоёр өнцгийн хэмжээг олоорой. \3 оноо\



СОНГОХ ДААЛГАВАР:

1. Нэг зуун хорин мянга долоон зуун арван тав цифрээр бичээрэй. \1оноо\

A. 102705 Б. 120715 В. 174205 Г. 125215

2. $\square < -6$ гэсэн тэнцэтгэл бишид тохирох сөрөг тоог олоорой. \1оноо\

A. -3 Б. 6 В. -7 Г. 4

3. Аль жагсаалт нь өсөх эрэмбээр бичигдсэн байна вэ? \1оноо\

A. 1.125, 1.152, 2.125, 2.152

Б. 1.152, 1.125, 2.125, 2.152

В. 2.152, 2.125, 1.152, 1.125

4. Хичээл 12 цаг 30 минутад эхлээд 13 цаг 20 минутад дууссан бол хичээл хэдэн минут үргэлжилсэн бэ? \1оноо\

A. 35 минут Б. 50 минут В. 40 минут Г. 30 минут

5. План зургийн таних тэмдгийг нэрлэнэ үү? | 1 оноо |



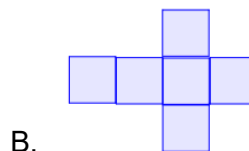

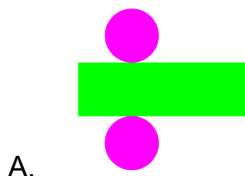
A. Орон сууцны барилга

В. Сургууль

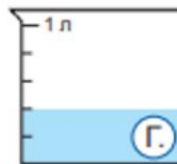
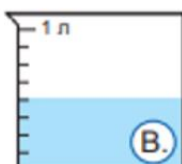
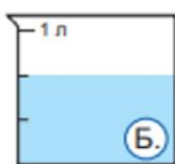
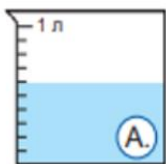
Б. Зүлэг

Г. Хөл бөмбөгийн талбай

6. Аль нь кубын дэлгээс вэ? \1оноо\



7. $\frac{4}{8}$ л аль саванд байгаа усны хэмжээ вэ? \1оноо\



8. Тохирох нэгжээр илэрхийлээрэй. \1оноо\

$\frac{2}{8}$ хоногцаг

A. 6 цаг

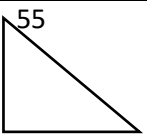
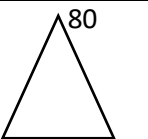
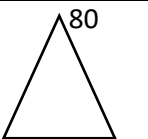
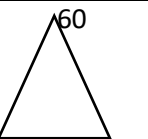
Б. 9 цаг

В. 5 цаг

Г. 8цаг

**ДОРНОД АЙМГИЙН ХАЛХГОЛ ЕБС-ИЙН 4 ДҮГЭЭР АНГИЙН “МАТЕМАТИК” ХИЧЭЭЛИЙН АНГИ
ДЭВШИХ ШАЛГАЛТЫН ДААЛГАВРЫН ТҮЛХҮҮР**

СОНГОХ ДААЛГАВАР					
№	А	Б	В	Г	ОНОО
1.	Г	Б	В	Б	1
2.	В	А	Г	В	1
3.	В	А	А	А	1
4.	В	В	А	Б	1
5.	Б	Г	А	Г	1
6.	А	В	Б	В	1
7.	Г	В	Б	В	1
8.	Б	Г	А	А	1
9.	В	Г	Г	Г	1
10.	А	В	В	В	1
Нийт	10 даалгавар				10

ЗАДГАЙ ДААЛГАВАР					
№	А хувилбар	Б хувилбар	В хувилбар	Г хувилбар	ОНОО
1.	32:8=4 4X3=12 англи хэл 32:4=8 япон хэл 12+8=20 нийт	48:8=6 6x3=18 англи хэл 48:4=12 япон хэл 18+12=30 нийт	36:6=6 6X3=18 англи хэл 36:4=9 япон хэл 18+9=27 нийт	27:9=3 3x3=9 англи хэл 27:3=9 япон хэл 9+9=18 нийт	3
2.	$\frac{9}{25} \quad \frac{6}{20}$	$\frac{4}{30} \quad \frac{13}{45}$	$\frac{4}{30} \quad \frac{13}{45}$	$\frac{4}{30} \quad \frac{13}{45}$	2
3.	1. 4X10=40CM 40X2=80см.куб 2. 10X2=20CM 20X4=80см.куб	1. 4X10=40CM 40X2=80см.куб 2. 10X2=20CM 20X4=80см.куб	1. 4x8=32 см 32x2=64см.куб 2. 2x8=16см 16x4=64см.куб	1. 4X10=40CM 40X2=80см.куб 2. 10X2=20CM 20X4=80см.куб	3
4.	4X3=12 боломж Хялбар эсвэл модны арга ашиглах.	6X3=18 боломж Хялбар эсвэл модны арга ашиглах.	4x4=16 боломж Хялбар эсвэл модны арга ашиглах.	4X3=12 боломж Хялбар эсвэл модны арга ашиглах.	3
5	 ? ? Гурвалжны дотоод өнцөг 180 байдгийг мэдэж байх Тэгш өнцөгт гурвалжны өнцөг 90 байдгийг мэдэж байх. Хариу 35 .	 ? ? Гурвалжны дотоод өнцөг 180 байдгийг мэдэж байх Адил хажуут гурвалжны суурийн өнцөг ижил байдгийг мэдэж байх Хариу 50	 ? ? Гурвалжны дотоод өнцөг 180 байдгийг мэдэж байх Адил хажуут гурвалжны суурийн өнцөг ижил байдгийг мэдэж байх Хариу 50	 ? ? Гурвалжны дотоод өнцөг 180 байдгийг мэдэж байх Адил хажуут гурвалжны суурийн өнцөг ижил байдгийг мэдэж байх Хариу 60	3
Нийт: 5 ДААЛГАВАР					14

