

БАТЛАВ:

СУРГУУЛИЙН ЗАХИРАЛ:

А.СЭНДМАА

2024.05.31

ДОРНОД АЙМГИЙН ЕБ-ЫН ХАН-УУЛ СУРГУУЛИЙН 3 ДУГААР АНГИЙН 2023-2024 ОНЫ ХИЧЭЭЛИЙН ЖИЛИЙН НЭГДМЭЛ ШАЛГАЛТЫН ДЭЛГЭРЭНГҮЙ БЛЮПРИНТ

АНГИ		3 ДУГААР АНГИ														Нийт даалгаврын тоо	Нийт даалгаврын оноо	Агуулгын эзлэх хувь		
ХУГАЦАА		40 МИНУТ																		
ДААЛГАВРЫН ХЭЛБЭР		СОНГОХ ДААЛГАВАР						ЗАДГАЙ ДААЛГАВАР												
Хичээл	Суралцахуйн зорилт	Мэдлэг ойлголт		Чадвар		Хэрэглээ		Бүгд		Мэдлэг ойлголт		Чадвар		Хэрэглээ		Бүгд				
Монгол хэл	3.1б. Уншсан эх, үлгэр, өгүүллэг, шүлгээс чухал хэсгийг ялгаж, ойлгосноо харуулах	2	2	1	1			3	3								3	3	25%	
	3.2л. Уншсан зохиолын талаар сэтгэгдлээ илэрхийлэн бичих											1	2	1	3	2	5	2	5	17%
	3.4б. Уншсан эхээс анхааруулах өгүүлбэрийг ялган таних, бичихдээ анхаарлын тэмдэг, таслал, цэгийг оновчтой хэрэглэх				1	1			1	1								1	1	8%
Математик	3.1а. 10 000 хүртэлх натурал тооны орны утгыг нэрлэх, тоог унших, бичих, тоон шулуун дээр цэгээр тэмдэглэх, жиших, эрэмбэлэх	1	1	1	1			2	2								2	2	17%	
	3.2в. Нэгж квадратыг тоолж талбайн хэмжээг олох, талбайн хэмжээг сантиметр квадратаар илэрхийлэх; кубын дэлгээсийн талбайн хэмжээг олох												1	2	1	2	1	2	8%	
	3.3а. Харилцан эгц (перпендикуляр), зэрэгцээ (параллел) шулуун, тэгш, хурц, мохоо өнцөг, олон өнцөгт, тойрог, дугуй дүрсийг нэрлэх, зурах, бүтээл хийх, дүрсийн тэгш хэмийн тэнхлэгийг зурах	1	1					1	1								1	1	8%	
	3.4б. Ажиглалт, хялбар туршилтаар өгөгдөл, мэдээллийг цуглуулах, хүснэгтэд бүртгэх, зурган, баганан диаграммаар илэрхийлэн асуултад хариулах	1	1					1	1			1	3			1	3	2	4	17%
ДААЛГАВРЫН ТОО/ОНОО		5	5	3	3			8	8			2	5	2	5	4	10	12	18	
ОНООНЫ ЭЗЛЭХ ХУВЬ		62.5		37.5				100				50		50		100			66%	100%

ҮНЭЛГЭЭНИЙ ЖИН

Үнэлгээний зорилт	Даалгаврын тоо	Эзлэх хувийн жин
Мэдлэг ойлголтыг үнэлэх даалгавар	5	41%
Мэдлэгээ хэрэглэн чадварыг үнэлэх даалгавар	7	58%

ОНООНЫ ХЭВИЙН ТАРХАЛТ

Танин мэдэхүйн түвшин	Сонгох даалгаврын оноо	Задгай даалгаврын оноо	Нийт оноо	Нийт онооны эзлэх хувь
Мэдлэг, ойлголт	5		5	28%
Чадвар	3	5	8	44%
Хэрэглээ		5	5	28%
Нийт	8	10	18	100%

ҮНЭЛГЭЭНИЙ ДААЛГАВРЫН ХАРИУ, ҮНЭЛЭХ СХЕМ

№	Суралцахуйн зорилт	Танин мэдэхүйн түвшин	Зөв хариулт А	Зөв хариулт Б	Оноо	Онооны тайлбар
МОНГОЛ ХЭЛ						
СОНГОХ ДААЛГАВАР						
1	3.1б. Уншсан эх, үлгэр, өгүүллэг, шүлгээс чухал хэсгийг ялгаж, ойлгосноо харуулах	Мэдлэг ойлголт	Б	Г	1	Зөв хариултын сонгосон бол 1 оноо
2	3.1б. Уншсан эх, үлгэр, өгүүллэг, шүлгээс чухал хэсгийг ялгаж, ойлгосноо харуулах	Мэдлэг ойлголт	Б	Б	1	Зөв хариултын сонгосон бол 1 оноо
3	3.1б. Уншсан эх, үлгэр, өгүүллэг, шүлгээс чухал хэсгийг ялгаж, ойлгосноо харуулах	Чадвар	В	А	1	Зөв хариултын сонгосон бол 1 оноо
4	3.4б. Уншсан эхээс анхааруулах өгүүлбэрийг ялган таних, бичихдээ анхаарлын тэмдэг, таслал, цэгийг оновчтой хэрэглэх	Чадвар	Б	А	1	Зөв хариултын сонгосон бол 1 оноо
ЗАДГАЙ ДААЛГАВАР						

5	3.2л. Уншсан зохиолын талаар сэтгэгдлээ илэрхийлэн бичих	Чадвар	Хүний тусыг мэддэг Бусдын тусыг мартдаггүй	Өрөвч Тусархаг	2	Зан чанар тус бүр 1 оноо, нийт 2 оноо Хариунаас өөр зан чанар бичиж болно.
6	3.2л. Уншсан зохиолын талаар сэтгэгдлээ илэрхийлэн бичих	Хэрэглээ	Зохиолыг уншаад өөрт төрсөн сэтгэгдлээ өгсөн дүртэй холбон бичнэ. Үгийн тоо бүрэн, алдаагүй зөв бичсэн байна.		3	Өөрт төрсөн сэтгэгдлээ илэрхийлсэн бол 1 оноо, Үгийн тоо бүрэн бол 1 оноо, алдаагүй зөв бичсэн бол 1 оноо
МАТЕМАТИК						
СОНГОХ ДААЛГАВАР						
1	3.1а. 10 000 хүртэлх натурал тооны орны утгыг нэрлэх, тоог унших, бичих, тоон шулуун дээр цэгээр тэмдэглэх, жиших, эрэмбэлэх	Мэдлэг ойлголт	В	В	1	Зөв хариултын сонгосон бол 1 оноо
2	3.3а. Харилцан эгц (перпендикуляр), зэрэгцээ (параллел) шулуун, тэгш, хурц, мохоо өнцөг, олон өнцөгт, тойрог, дугуй дүрсийг нэрлэх, зурах, бүтээл хийх, дүрсийн тэгш хэмийн тэнхлэгийг зурах	Мэдлэг ойлголт	Б	Б	1	Зөв хариултын сонгосон бол 1 оноо
3	3.4б. Ажиглалт, хялбар туршилтаар өгөгдөл, мэдээллийг цуглуулах, хүснэгтэд бүртгэх, зурган, баганан диаграммаар илэрхийлэн асуултад хариулах	Мэдлэг ойлголт	Б	А	1	Зөв хариултын сонгосон бол 1 оноо
4	3.1а. 10 000 хүртэлх натурал тооны орны утгыг нэрлэх, тоог унших, бичих, тоон шулуун дээр цэгээр тэмдэглэх, жиших, эрэмбэлэх	Чадвар	Б	Б	1	Зөв хариултын сонгосон бол 1 оноо
ЗАДГАЙ ДААЛГАВАР						
5	3.4б. Ажиглалт, хялбар туршилтаар өгөгдөл, мэдээллийг цуглуулах, хүснэгтэд бүртгэх, зурган, баганан диаграммаар илэрхийлэн асуултад хариулах	Чадвар	5 дахь долоо хоног 3 дахь, 4 дэхь долоо хоног	2 дахь долоо хоног 2 дахь, 5 дахь долоо хоног	2	Асуулт бүрт зөв хариулсан бол 1 оноо, нийт 2 оноо
6	3.1а. 10 000 хүртэлх натурал тооны орны утгыг нэрлэх, тоог унших, бичих, тоон шулуун дээр цэгээр тэмдэглэх, жиших, эрэмбэлэх	Хэрэглээ	250x4=1000 1000:5=200 250+1000=1250 1250+200=1450	150x4=600 600:3=200 150+600=750 750+200=950	3	Дахин их, багыг олох үйлдэл бүр 1 оноо, нэмэх үйлдэл тус бүр 0.5 оноо, нийт 3 оноо

МАТЕМАТИКИЙН АГУУЛГА

НЭГ. СОНГОХ ДААЛГАВАР

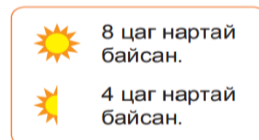
САНАМЖ: Анхааралтай уншиж ойлгосны дараа даалгаврыг гүйцэтгээрэй. Сонгох даалгавар бүр 1 оноотой.

- 6528 гэсэн тоонд 2 гэсэн цифр ямар оронг илэрхийлж байна вэ? /1 оноо/
 А. мянгат Б. зуут В. аравт Г. нэгж
- Тэгш өнцөгт дүрс тэгш хэмийн хэдэн тэнхлэгтэй вэ?
 А. Нэг Б. Хоёр В. Байхгүй Г. Гурав
- Багалан диаграммыг дүрслэхэд анхаарах зүйлийг сонгоорой.
 А. Өгүүлбэрээ зөв унших Б. Диаграмм зурах зайг тооцоолно.
 В. Орон ангийг зөв тооцоолно. В. Аль нь ч хамаарахгүй
- Дараах нийлбэрийн утгыг олоорой. $3507 + 4192$ /1 оноо/
 А. 7698 Б. 7699 В. 7799 Г. 7689


ХОЁР. ЗАДГАЙ ДААЛГАВАР

- Долоо хоногийн хугацаанд хэдэн цаг нартай байсныг диаграммаар дүрсэлжээ. Дараах асуултуудад хариулж бичээрэй. /2 оноо/

1 дэх долоо хоногт	
2 дахь долоо хоногт	
3 дахь долоо хоногт	
4 дэх долоо хоногт	
5 дахь долоо хоногт	
6 дахь долоо хоногт	



- Хамгийн удаан нартай байсан 7 хоногийг нэрлээрэй.
 - Ижилхэн хугацаагаар нартай байсан 7 хоногуудыг нэрлээрэй.
- Жигнэмэг 250төгрөг, чихэр жигнэмгээс 4 дахин илүү үнэтэй. Мөхөөлдөс чихрээс 5 дахин хямд үнэтэй бол нийт үнийг олоорой. /3 оноо/



МАТЕМАТИКИЙН АГУУЛГА

НЭГ. СОНГОХ ДААЛГАВАР

САНАМЖ: Анхааралтай уншиж ойлгосны дараа даалгаврыг гүйцэтгээрэй.
Сонгох даалгавар бүр 1 оноотой.

1. **8152** гэсэн тоонд **5** гэсэн цифр ямар оронг илэрхийлж байна вэ? /1 оноо/
 А. мянгат Б. зуут В. аравт Г. Нэгж
2. Квадрат дүрс тэгш хэмийн хэдэн тэнхлэгтэй вэ?
 А. Хоёр Б. Дөрөв В. Байхгүй Г. Гурав
3. Баганан диаграммыг дүрслэхэд анхаарах зүйлийг сонгоорой.
 А. Ангилал бүрээр давтамжийн тоог дүрсэлнэ. Б. Өгүүлбэрийг зөв уншина.
 В. Орон ангийг зөв тооцоолно. В. Аль нь ч хамаарахгүй
4. Дараах нийлбэрийн утгыг олоорой. $6741+3157$ /1 оноо/
 А. 9897 Б. 9898 В. 9888 Г. 9998


ХОЁР. ЗАДГАЙ ДААЛГАВАР

5. Долоо хоногийн хугацаанд хэдэн цаг нартай байсныг диаграммаар дүрсэлжээ. Дараах асуултуудад хариулж бичээрэй. /2 оноо/



- А. Хамгийн бага нартай байсан 7 хоногийг нэрлээрэй.
 - Б. Хамгийн бага болон их хугацаагаар нартай байсан 7 хоногуудыг нэрлээрэй.

6. Малчны хонь нь 150ш, ямаа нь хониноос 4 дахин их, адуу нь ямаанаас 3 дахин цөөн бол нийт хэдэн малтай вэ? /3 оноо/



3... ангийн сурагч