

2023-2024 ОНЫ ХИЧЭЭЛИЙН ЖИЛИЙН 3 ДУГААР АНГИЙН “НЭГДМЭЛ АГУУЛГА”
ХИЧЭЭЛИЙН АНГИ ДЭВШИХ ШАЛГАЛТЫН ДААЛГАВАР

A.ХУВИЛБАР

3..... ангийн сурагч

ХУГАЦАА 40 МИНУТ

Математик

НЭГ. СОНГОХ ДААЛГАВАР

Сонгох даалгавар бүр 1 оноотой.

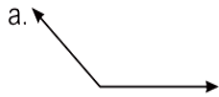
1. Зургийг ажиглаад тохирох тоог бичээрэй / 1 оноо /



2. 10000 -гаас хэдийг хасвал 6575 гарах вэ? \ 1 оноо \

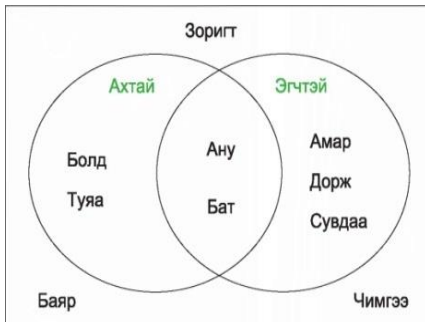
- а. 3525 б. 3425 в. 3527 г. 3515

3. Өнцгийг нэрлээрэй.



- а. хурц б. дэлгэмэл в. мохоо г. Тэгш


4. Дээрх диаграммд хэдэн хүүхэд ах болон эгчтэй байна вэ? / 1 оноо /



- А. 2 Б.3
В.4 Г.1

5. Хүү нэг хайрцгийг 1м 59см, хоёрдахь хайрцгийг 143 см урт туузаар ороов.

Хоёр туузны уртын зөрөөг олоорой. Хэрэглэсэн туузны нийт уртыг олоорой. / 2 оноо /



6. Зурган диаграммын өгөгдлийг ажиглаад асуултад хариулаарай. / 3 оноо /

2.1 Чи цэнхэр аяганы эзэн байсан бол яах байсан бэ?

.....

2.2 Эхээс тохирох асуултад хариулагдах үгийг олж холбоо үг бүтээгээрэй. /Зоноо/

хэний? дүү - ямар? аяга - юуны? зураг наасан-

2023-2024 ОНЫ ХИЧЭЭЛИЙН ЖИЛИЙН 3 ДУГААР АНГИЙН “НЭГДМЭЛ АГУУЛГА”
ХИЧЭЭЛИЙН АНГИ ДЭВШИХ ШАЛГАЛТЫН ДААЛГАВАР

Б. ХУВИЛБАР

3..... ангийн сурагч

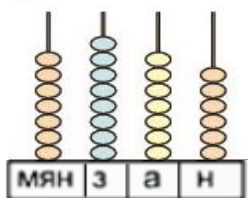
ХУГАЦАА 40 МИНУТ

Математик

НЭГ. СОНГОХ ДААЛГАВАР

Сонгох даалгавар бүр 1 оноотой.

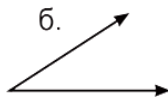
1. Зургийг ажиглаад тохирох тоог бичээрэй / 1 оноо /



2. 3425 ба 10000 -ын зөрөөг олоорой \ 1 оноо \

- а. 3525 б. 3425 в. 6575 г. 3515

3. Өнцгийг нэрлээрэй.



- а. хурц б. дэлгэмэл в. мохоо г. Тэгш


4. Өгөгдлийг ажиглаад ямар өнгийн цэцгүүд тэнцүү тоотой байгааг олоорой. / 1 оноо /

Улаан	
Хөх	
Ногоон	
Шар	
Ягаан	
Хар	

- А. Улаан ба шар Б. Ногоон ба шар
В. Хар ба шар Г. Цэнхэр ба ногоон

5. Хүү нэг хайрцгийг 1м 49см, хоёрдахь хайрцгийг 154 см урт туузаар ороов.

Хоёр туузны уртын зөрөөг олоорой. Хэрэглэсэн туузны нийт уртыг олоорой. / 2 оноо /



6. Зурган диаграммын өгөгдлийг ажиглаад асуултад хариулаарай. / 3 оноо /



в. хүүрнэх өгүүлбэр

г. захирах өгүүлбэр

ХОЁРДУГААР ХЭСЭГ: бичих чадварын даалгавар

2.1 Чи цэнхэр аяганы эзэн байсан бол яах байсан бэ?. / 2 оноо /

.....

2.2 Эхээс тохирох асуултад хариулагдах үгийг олж холбоо үг бүтээгээрэй. /Зоноо/
хэний? дүү -, ямар? аяга -, юуны? зураг наасан-

ХАРИУ А хувилбар

		хариу	оноо
Математик	1	8095	1
	2	Б	1
	3	В	1
	4	А	1
	5	Зөв хариу бүр 1 оноо / 16см, 3м2см /	2
	6	Бодолт бүр 1 оноо / зөрөө- 72, Алим-266, 323 -гадил, жүрж, нимбэг /	3
Монгол хэл	1	В	1
	2	Г	1
	3	В	1
	4	В	1
	5	Сэтгэгдэл оновчтой бичсэн бол 2 оноо, Санаагаа дөхүүлж бичсэн бол 1 оноо	2
	6	Эхээс үгээ зөв олсон бол бүтэн оноог өгнө. / миний, цэнхэр, мэлхий /	3
Нийт оноо			18

ХАРИУ Б хувилбар

		Хариу	оноо
Математик	1	6575	1
	2	В	1
	3	А	1
	4	Б	1
	5	Зөв хариу бүр 1 оноо / 5см, 3м3см /	2
	6	Бодолт бүр 1 оноо / хонь - 39, зөрөө-30, Бод мал – 33 /	3

Монгол хэл	1	В	1
	2	Б	1
	3	А	1
	4	В	1
	5	Сэтгэгдэл оновчтой бичсэн бол 2 оноо, Санаагаа дөхүүлж бичсэн бол 1 оноо	2
	6	Эхээс үгээ зөв олсон бол бүтэн оноог өгнө. / миний, цэнхэр, мэлхий /	3
Нийт оноо			18