

2023-2024 ОНЫ ХИЧЭЭЛИЙН ЖИЛИЙН 4 ДУГААР АНГИЙН **НЭГДМЭЛ АГУУЛГЫН**
АНГИ ДЭВШИХ ШАЛГАЛТЫН МАТЕРИАЛ

А ХУВИЛБАР

4..... ангийн сурагч овогтой

ХУГАЦАА 60 МИНУТ

НИЙТ 30 ОНОО

НЭГ. СОНГОХ ДААЛГАВАР

1. Тоог стандартаар бичээрэй.

Есөн зуун ерэн есөн мянга есөн зуун ерэн найм

А. 90099998

Б. 999998

В. 99990092

Г. 900

2. Талбайн хэмжээг зөв илэрхийлснийг сонгоорой.

5дм.кв=..... см.кв

А. 5 см.кв

Б. 50 см.кв

В. 500 см.кв

Г. 5 см

3. Нэг нүд нь 2кг жимсийг төлөөлөх бол банана жимс хэдэн кг байна вэ?



А. 6кг

Б. 10кг

В. 12кг

Г. 6ш

4. 4582 гэсэн тоог зуутын орноор зөв тоймлосон хариуг сонгоорой.


А. 4500

Б. 4580

В. 4600

Г. 4582

5. Будаагүй хэсгийн талбайн хэмжээг олоорой.



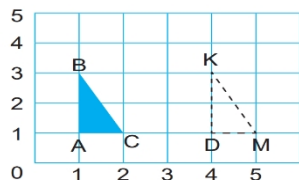
А. 44

Б. 36

В. 80

Г.

6. Зурагт үзүүлсэн ABC гурвалжин параллел зөөгдөж ямар гурвалжинд шилжсэн бэ?



А. 2 мөр


Б. ABC

В. DKM

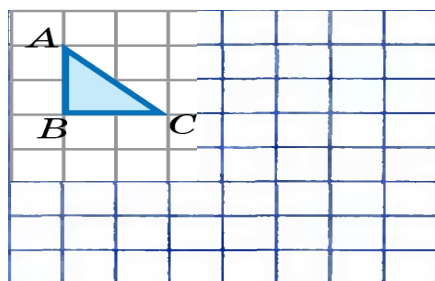
Г. Гурвалжин

ХОЁР. ЗАДГАЙ ДААЛГАВАР

7. Дараах дүрсийн талбайн хэмжээг олоорой. 1 нүд 1 см /3 оноо/




8. ABC гурвалжинг баруун тийш 3 нэгж, доош 4 нэгж параллелээр зөөж зур /3 оноо/




9. Хүснэгтийг ажиглан баганан диаграммаар дүрслээрэй. Дүгнэж бичээрэй. /3 оноо/

Жимс	Сурагчийн тоо
Алим	8
Тоор	4
Гадил	10
Лийр	2
Усан үзэм	4
Гүзээлзгэнэ	9
Чавга	5
Үзэм	3



Дүгнэлтээ бичээрэй



1. Хүний гар бугалга, шуу гэсэн хэсгээс тогтоно.
А. Яс Б. Сарвуу В. Гар Г. Булчин
2. Хүний биеийн дотор олон тооны яс байх бөгөөд тэдгээрийг бүхэлд нь гэнэ.
А. Хүний бие Б. Шөрмөс В. Хүн амьтан Г. Араг яс
3. Хүний биеийн хоёр талаар орчим булчин тэгш хэмтэй байрладаг.
А. 40 Б. 50 В. 40-50 Г. 600

4. Дараах зүйлсийн аль нь хатуу болохыг сонгоорой.



А. Ном



Б. Ундаа



В. Сүү



Г. Бөмбөг

5. Зургийг ажиглан жижиг хэсгүүд нь хол хол байх төлөвийг сонгоорой.



А. Хатуу



Б. Шингэн



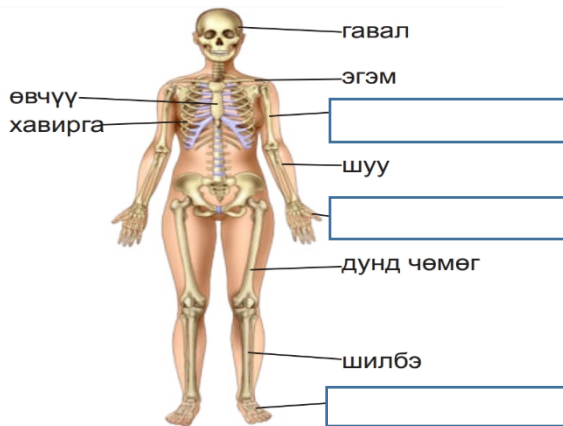
В. Хий

6. Усанд уусдаг бодистой бүлэг үгсийг сонгоорой.

- А. Төмрийн үртэс, элсэн чихэр, кофе, ааруулын үйрмэг
- Б. Элсэн чихэр, давс, кофе
- В. Төмрийн үртэс, мод, мах
- Г. Хатуу, шингэн, хий

ХОЁР. ЗАДГАЙ ДААЛГАВАР

7. Хүний биеийн араг ясны хэсгүүдийг нөхөж бичээрэй. /3 оноо/



8. Орхигдсон үгийг нөхөж бичээрэй. /3 оноо/

Цээжний хэнхэрцэг ясанд,,

9. Хүснэгтийг нөхөж бичээрэй. /3 оноо/

Шинж	Хатуу	Шингэн
Хэлбэр	Хэлбэртэй	
Шахагдах шинж	Шахагдахгүй	
Урсах шинж	Урсахгүй	

2023-2024 ОНЫ ХИЧЭЭЛИЙН ЖИЛИЙН 4 ДУГААР АНГИЙН **НЭГДМЭЛ АГУУЛГЫН**
АНГИ ДЭВШИХ ШАЛГАЛТЫН МАТЕРИАЛ

Б ХУВИЛБАР

4..... ангийн сурагч ОВОГТОЙ

ХУГАЦАА 60 МИНУТ

НИЙТ 30 ОНОО

НЭГ. СОНГОХ ДААЛГАВАР

1. Тоог стандартаар бичээрэй.

Долоон зуун гучин найман мянга есөн зуу

A. 738900

Б. 70038900

В. 70038

Г. 700

2. Талбайн хэмжээг зөв илэрхийлснийг сонгоорой.

Здм.кв=..... см.кв

A. 3 см.кв

Б. 300 см.кв

В. 30 см.кв

Г. 3 см

3. Нэг нүд 5кг жимсийг төлөөлөх бол киви жимс хэдэн кг байна вэ?



A. 8кг

Б. 20кг

В. 8ш

Г. 40кг

4. 4582 гэсэн тоог мянгатын орноор зөв тоймлосон хариуг сонгоорой.


A. 4500

Б. 4580

В. 4600

Г. 5000

5. Будсан хэсгийн талбайн хэмжээг олоорой.



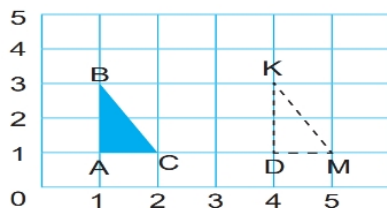
A. 44

Б. 36

В. 80

Г.

6. Зурагт үзүүлсэн параллел зөөгдсөн DKM гурвалжин анх ямар нэртэй ямар гурвалжин байсан бэ?



A. 2 мөр


Б. ABC

В. DKM

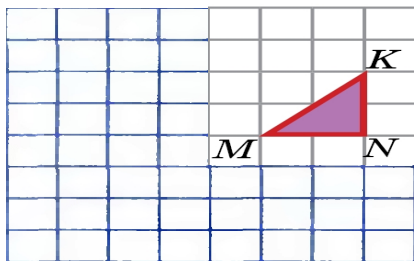
Г. Гурвалжин

ХОЁР. ЗАДГАЙ ДААЛГАВАР

7. Дараах дүрсийн талбайн хэмжээг олоорой. 1 нүд 1см /3 оноо/




8. MKN гурвалжинг зүүн тийш 3 нэгж, доош 4 нэгж параллелээр зөөж зур /3 оноо/



9. Хүснэгтийг ажиглан баганан диаграммаар дүрслээрэй. Дүгнэж бичээрэй. /3 оноо/

Хичээлийн хэрэглэгдэхүүн	Сурагчийн тоо
Үзэг	8
Хайч	4
Харандаа	10
Баллуур	2
Шугам	4
Дэвтэр	9
Зургийн дэвтэр	5
Ном	3



Дүгнэлтээ бичээрэй

1. Хүний сээр нуруу нь хүзүү, сээр,, ууц, ахар сүүл гэсэн хэсгүүдээс тогтоно.
А. Нуруу Б. Бүсэлхий В. Яс Г. Булчин
2. Араг яс биеийн тулгуур болохоос гадна дотор эрхтнүүдийг хамгаалах, биеийг үүрэгтэй.
А. Хөдөлгөх Б. Явуулах В. Тулах Г. Араг яс
3. Булчин нь хүний биеийн жингийн хувийг эзлэх бөгөөд араг ястай шөрмөсөөр холбогдон хөдөлгөөнд оролдог.

А. 40

Б. 50

В. 40-50

Г. 600

4. Дараах зүйлсийн аль нь шингэн болохыг сонгоорой.



А. Ном



Б. Ундаа



В. Данх



Г. Бөмбөг

5. Зургийг ажиглан жижиг хэсгүүд нь маш нягт байх төлөвийг сонгоорой.



А. Хатуу



Б. Шингэн



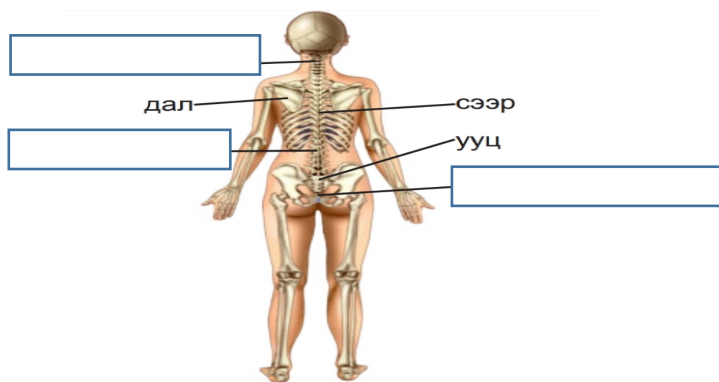
В. Хий

6. Усанд уусдаггүй хатуу бодистой бүлэг үгсийг сонгоорой.

- А. Төмрийн үртэс, элсэн чихэр, кофе, ааруулын үйрмэг
- Б. Элсэн чихэр, давс, кофе
- В. Төмрийн үртэс, мод, мах
- Г. Хатуу, шингэн, хий

ХОЁР. ЗАДГАЙ ДААЛГАВАР

7. Хүний биеийн араг ясны хэсгүүдийг нөхөж бичээрэй. /3 оноо/



8. Орхигдсон үгийг нөхөж бичээрэй. /3 оноо/

Сарвуу олон жижиг яснаас бүрдэх бөгөөд гарыг _____, _____, _____, юмыг барих, чимхэх зэрэг хөдөлгөөн хийдэг.

9. Хүснэгтийг нөхөж бичээрэй. /3 оноо/

Шинж	Хатуу	Хий
Хэлбэр	Хэлбэртэй	
Шахагдах шинж	Шахагдахгүй	
Урсах шинж	Урсахгүй	